

|     |        |
|-----|--------|
| 3年生 | 6月の3-1 |
| 年   | 組 名前   |

|         |       |
|---------|-------|
| 時間      | 5分    |
| 点数      | / 26点 |
| クリア 24点 |       |

**1** ししやごにゆう すう **四捨五入してがい数にしよう** 【1つ1点】

|       | 千の位まで | 百の位まで | 十の位まで |
|-------|-------|-------|-------|
| 10452 |       |       |       |
| 14585 |       |       |       |
| 18429 |       |       |       |
| 34688 |       |       |       |
| 57219 |       |       |       |
| 77318 |       |       |       |
| 83967 |       |       |       |

**2** ししやごにゆう けた すう **四捨五入して、上から3桁のがい数にしよう** 【1つ1点】

- (1) 名古屋市の人口 2325918 人 ( )
- (2) 愛知県の人口 7539185 人 ( )
- (3) 東京都の人口 13843403 人 ( )
- (4) 北海道の人口 5285430 人 ( )
- (5) グランパスファンクラブ 27157 人 ( )

3年生

6月の3-2

時間 5分

年 組 名前

点数

クリア16点

/20点

暗算しよう 【1つ1点】

(1)  $5 \times ( ) = 50$

(2)  $( ) \times 25 = 75$

(3)  $( ) \times 9 = 54$

(4)  $( ) \times 3 = 33$

(5)  $9 \times ( ) = 72$

(6)  $5 \times ( ) = 80$

(7)  $( ) \times 19 = 76$

(8)  $27 \times ( ) = 81$

(9)  $3 \times ( ) = 90$

(10)  $( ) \times 15 = 90$

(11)  $( ) \times 16 = 112$

(12)  $11 \times ( ) = 121$

(13)  $16 \times ( ) = 48$

(14)  $( ) \times 4 = 72$

(15)  $( ) \times 12 = 60$

(16)  $13 \times ( ) = 78$

(17)  $14 \times ( ) = 70$

(18)  $( ) \times 8 = 128$

(19)  $( ) \times 15 = 135$

(20)  $17 \times ( ) = 119$

3年生

6月の3-3

時間 3分

年 組 名前

点数

クリア10点

/12点

少数ひっ算 【1つ1点】

$$\begin{array}{r} (1) \quad 1.2 \\ + 0.8 \\ \hline \end{array}$$

$$\begin{array}{r} (2) \quad 0.8 \\ + 3.4 \\ \hline \end{array}$$

$$\begin{array}{r} (3) \quad 1.5 \\ + 2.7 \\ \hline \end{array}$$

$$\begin{array}{r} (4) \quad 5.8 \\ + 3.6 \\ \hline \end{array}$$

$$\begin{array}{r} (5) \quad 3.7 \\ + 0.5 \\ \hline \end{array}$$

$$\begin{array}{r} (6) \quad 6.7 \\ + 8.8 \\ \hline \end{array}$$

$$\begin{array}{r} (7) \quad 2.7 \\ - 0.9 \\ \hline \end{array}$$

$$\begin{array}{r} (8) \quad 4.2 \\ - 1.7 \\ \hline \end{array}$$

$$\begin{array}{r} (9) \quad 8.1 \\ - 5.6 \\ \hline \end{array}$$

$$\begin{array}{r} (10) \quad 10.3 \\ - 7.5 \\ \hline \end{array}$$

$$\begin{array}{r} (11) \quad 1.52 \\ - 0.84 \\ \hline \end{array}$$

$$\begin{array}{r} (12) \quad 3.17 \\ - 1.73 \\ \hline \end{array}$$

3年生

6月の3-4

時間 3分

年 組 名前

点数

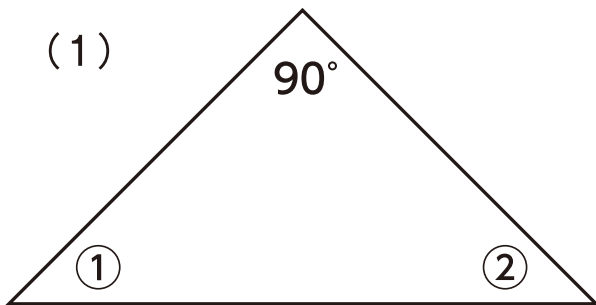
クリア7点

/ 6点

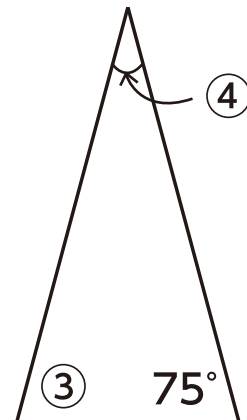
### 三角形の角度 【1つ1点】

#### 1 二等辺三角形の角度をもとめよ

(1)



(2)

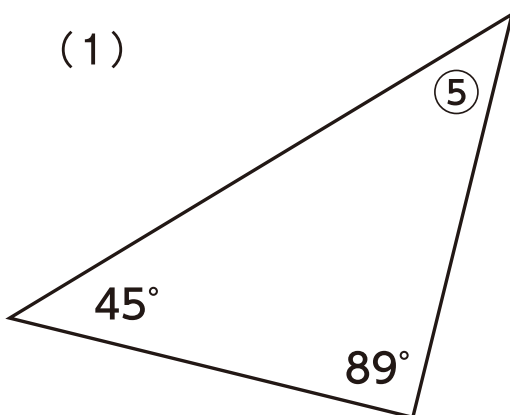


答え ① ②

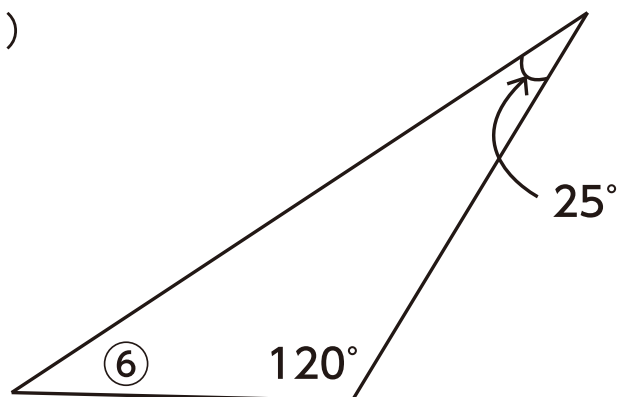
答え ③ ④

#### 2 三角形の角度をもとめよ 【1つ1点】

(1)



(2)



答え ⑤

答え ⑥