

3年生	6月の3-1
年	組 名前

時間	5分
点数	/ 26点
クリア 24点	



ししやごにゆう すう
四捨五入してがい数にしよう

うちの子 時間：4分45秒
点数：26点

【1つ1点】

	千の位まで	百の位まで	十の位まで
10452	10000	10500	10450
14585	15000	14600	14590
18429	18000	18400	18430
34688	35000	34700	34690
57219	57000	57200	57220
77318	77000	77300	77320
83967	84000	84000	83970



ししやごにゆう けた すう
四捨五入して、上から3桁のがい数にしよう

【1つ1点】

- (1) 名古屋市の人口 2325918人 (2330000)
- (2) 愛知県の人口 7539185人 (7540000)
- (3) 東京都の人口 13843403人 (13800000)
- (4) 北海道の人口 5285430人 (5290000)
- (5) グランパスファンクラブ 27157人 (27200)

3年生

6月の3-2

時間 5分

年 組 名前

点数

クリア16点

/20点

暗算しよう [1つ1点]

うちの子 時間：4分 / 点数：19点

(1) $5 \times (10) = 50$

(2) $(3) \times 25 = 75$

(3) $(6) \times 9 = 54$

(4) $(11) \times 3 = 33$

(5) $9 \times (8) = 72$

(6) $5 \times (16) = 80$

✕ 14 (計算間違い)

(7) $(4) \times 19 = 76$

(8) $27 \times (3) = 81$

(9) $3 \times (30) = 90$

(10) $(6) \times 15 = 90$

(11) $(7) \times 16 = 112$

(12) $11 \times (11) = 121$

△ 30秒かかった

(13) $16 \times (3) = 48$

(14) $(18) \times 4 = 72$

(15) $(5) \times 12 = 60$

(16) $13 \times (6) = 78$

(17) $14 \times (5) = 70$

(18) $(16) \times 8 = 128$

(19) $(9) \times 15 = 135$

(20) $17 \times (7) = 119$

3年生

6月の3-3

時間 3分

年 組 名前

点数

クリア10点

/12点

少数 ひっ算 【1つ1点】

うちの子 時間：1分45秒 / 点数：12点

$$\begin{array}{r} (1) \quad 1.2 \\ + \quad 0.8 \\ \hline 2 \end{array}$$

$$\begin{array}{r} (2) \quad 0.8 \\ + \quad 3.4 \\ \hline 4.2 \end{array}$$

$$\begin{array}{r} (3) \quad 1.5 \\ + \quad 2.7 \\ \hline 4.2 \end{array}$$

$$\begin{array}{r} (4) \quad 5.8 \\ + \quad 3.6 \\ \hline 9.4 \end{array}$$

$$\begin{array}{r} (5) \quad 3.7 \\ + \quad 0.5 \\ \hline 4.2 \end{array}$$

$$\begin{array}{r} (6) \quad 6.7 \\ + \quad 8.8 \\ \hline 15.5 \end{array}$$

$$\begin{array}{r} (7) \quad 2.7 \\ - \quad 0.9 \\ \hline 1.8 \end{array}$$

$$\begin{array}{r} (8) \quad 4.2 \\ - \quad 1.7 \\ \hline 2.5 \end{array}$$

$$\begin{array}{r} (9) \quad 8.1 \\ - \quad 5.6 \\ \hline 2.5 \end{array}$$

$$\begin{array}{r} (10) \quad 10.3 \\ - \quad 7.5 \\ \hline 2.8 \end{array}$$

$$\begin{array}{r} (11) \quad 1.52 \\ - \quad 0.84 \\ \hline 0.68 \end{array}$$

$$\begin{array}{r} (12) \quad 3.17 \\ - \quad 1.73 \\ \hline 1.44 \end{array}$$

3年生

6月の3-4

時間 3分

年 組 名前

点数

クリア7点

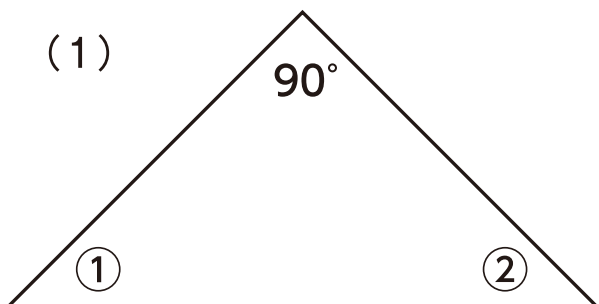
/6点

三角形の角度 【1つ1点】

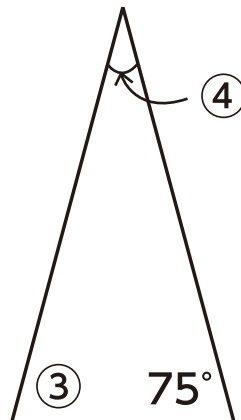
うちの子 時間：1分30秒 / 点数：6点

1 二等辺三角形の角度を求めよ

(1)



(2)

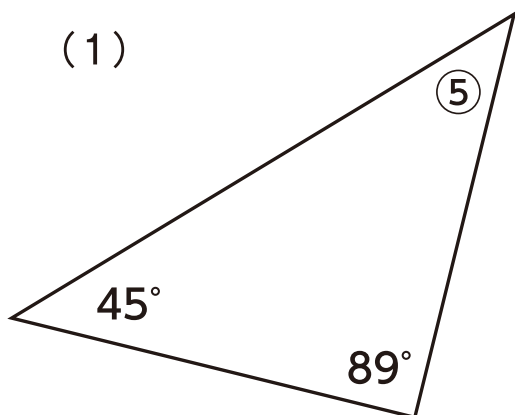


答え ① 45° ② 45°

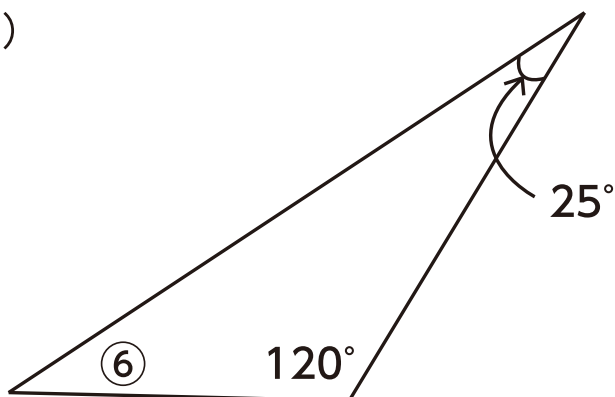
答え ③ 75° ④ 30°

2 三角形の角度を求めよ 【1つ1点】

(1)



(2)



答え ⑤ 46°

答え ⑥ 35°