

3年生

算数ドリル

テスト①-1

時間 10分

年 組 名前

点数

クリア40点

/ 50点



せん すう

算数のこと、どれだけわかってるかな？  
テストをやってみよう！



### 1 計算をしよう 【1つ2点】

(1)  $6 \times 4 =$

(2)  $7 \times 8 =$

(3)  $5 \times 9 =$

(4)  $8 \times 8 =$

(5)  $9 \times 7 =$

(6)  $10 \times 10 =$

(7)  $4 \times 8 + 8 =$

(8)  $6 \times 9 + 7 =$

(9)  $8 \times 0 + 2 =$

(10)  $8 \times 6 - 8 =$

(11)  $3 \times 9 - 9 =$

(12)  $9 \times 8 - 6 =$

(13)  $57 - 6 \times 9 =$

(14)  $81 - 4 \times 9 =$

(15)  $127 - 8 \times 9 =$

### 2 たて6cm、よこ9cmの長方形と、1辺が8cmの正方形があります。

周りの長さは、どちらの四角形が、どれだけ長いですか 【10点】

式

答え

### 3 100円玉が7こ、50円玉が5こ、10円玉が12こあります。

全部で、いくらありますか 【10点】

式

答え

3年生

算数ドリル

テスト①-2

時間 10分

年 組 名前

点数

クリア40点

/ 50点



「かけ算」や「わり算」は、「たし算」と「ひき算」よりも、先に計算するんだったよね。



だ  
っ  
た  
よ  
ね

うさみ

### 1 計算をしよう 【1つ2点】

(1)  $40 \div 5 =$

(2)  $36 \div 6 =$

(3)  $48 \div 8 =$

(4)  $35 \div 7 =$

(5)  $49 \div 7 =$

(6)  $72 \div 9 =$

(7)  $32 \div 4 + 6 =$

(8)  $54 \div 6 + 7 =$

(9)  $56 \div 7 + 10 =$

(10)  $64 \div 8 - 5 =$

(11)  $54 \div 6 - 1 =$

(12)  $81 \div 9 - 9 =$

(13)  $19 - 32 \div 8 =$

(14)  $8 - 24 \div 3 =$

(15)  $21 - 18 \div 9 =$

### 2 赤いテープが28cm、青いテープが7cmがあります。

赤いテープは、青いテープの何倍なんばいの長さですか 【10点】

式

答え

### 3 120円のジュースを1本と、グミを6こ買ったら、 値段はちょうど300円でした。

グミは1こ、いくらでしょう 【10点】

式

答え

3年生

算数ドリル

テスト①-3

時間 10分

年 組 名前

点数

クリア45点

/ 60点



「1分は60秒」「1時間は60分」「1日は24時間」  
時間は、「60」ごとに切りかわるんだよね。

### 1 時間のけい算をしよう 【1問5点】

$$\begin{array}{r} (1) \quad 2 \text{ 時間 } 22 \text{ 分} \\ + 5 \text{ 時間 } 31 \text{ 分} \\ \hline \end{array}$$

$$\begin{array}{r} (2) \quad 1 \text{ 時間 } 16 \text{ 分} \\ + 3 \text{ 時間 } 58 \text{ 分} \\ \hline \end{array}$$


$$\begin{array}{r} (3) \quad 4 \text{ 分 } 47 \text{ 秒} \\ + 1 \text{ 分 } 47 \text{ 秒} \\ \hline \end{array}$$


$$\begin{array}{r} (4) \quad 5 \text{ 時間 } 34 \text{ 分} \\ - 3 \text{ 時間 } 19 \text{ 分} \\ \hline \end{array}$$


$$\begin{array}{r} (5) \quad 8 \text{ 時間 } 13 \text{ 分} \\ - 4 \text{ 時間 } 38 \text{ 分} \\ \hline \end{array}$$


$$\begin{array}{r} (6) \quad 9 \text{ 分 } 21 \text{ 秒} \\ - 6 \text{ 分 } 43 \text{ 秒} \\ \hline \end{array}$$

### 2 正午までは、あと何時間何分でしょう 【1問5点】










### 3 にはいる<sup>すうじ</sup>数字をかこう 【1問5点】

(1) 8時間36分 + 2時間48分 =  時間  分

(2) 43分51秒 + 39分47秒 =  時間  分  秒

3年生

算数ドリル

テスト①-4

時間 10分

年 組 名前

点数

クリア 30点

/ 40点



ぼう  
棒グラフをかくときは、グラフの1メモリが  
「どれだけか」を、さいしょにしらべよう★




1 5人がもっている、カードの数をしらべると、  
下のようになりました。

「みそら:15まい」、「うさみ:0まい」、  
「かめきち:21まい」、「なぎ:8まい」、  
「こうた:38まい」

これを、表と棒グラフにまとめましょう 【各10点】

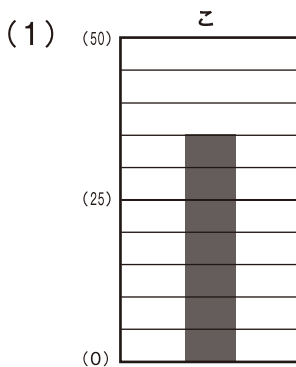
もっているカードの表



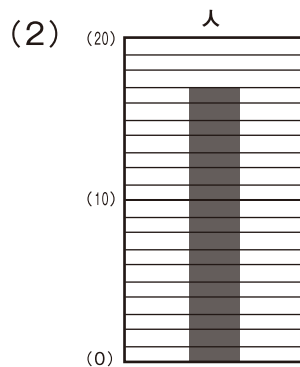
もっているカードの表

名 前	みそら	うさみ	かめきち	なぎ	こうた
カードの数					

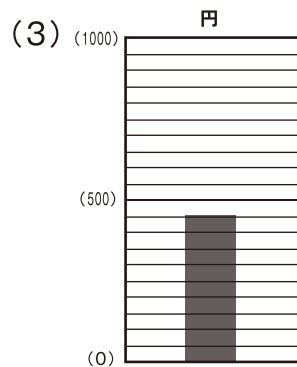
2 下の棒グラフを見て、どれだけ大きさか書きましょう 【1問5点】



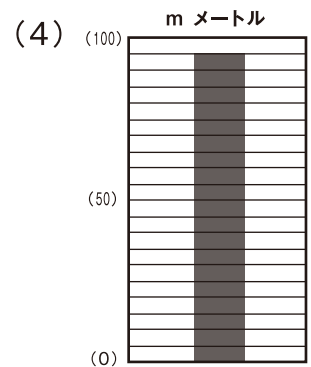
答え



答え



答え



答え

3年生

算数ドリル

テスト①-5

時間 10分

年 組 名前

点数

クリア40点

/ 50点



「くり上がり」と「くり下がり」に気をつけて、  
まちがわないようにね



### 1 けいざん 計算をしよう 【1問3点】

(1)	$\begin{array}{r} 5276 \\ + 3759 \\ \hline \end{array}$	(2)	$\begin{array}{r} 7016 \\ - 3758 \\ \hline \end{array}$	(3)	$\begin{array}{r} 7164 \\ + 3947 \\ \hline \end{array}$	(4)	$\begin{array}{r} 6357 \\ - 5469 \\ \hline \end{array}$
-----	---	-----	---	-----	---	-----	---

### 2 あんざん 暗算(あたまの中)で計算をしよう 【1問3点】

(1) $54 + 18 =$	(2) $81 - 29 =$	(3) $67 + 28 =$
(4) $73 - 55 =$	(5) $93 + 57 =$	(6) $92 - 68 =$

### 3 みそらちゃんは、4800円のゲームと、1452円の本を買って、 10000円さつでお金をはらいました。

(1) みそらちゃん買った、ゲームと本を合わせると、いくらですか 【10点】

式

答え

(2) みそらちゃんがうけとるおつりは、いくらですか 【10点】

式

答え