

3年生

算数ドリル

テスト①-1


時間 10分

年 組 名前

点数

クリア40点

/ 50点



せん すう

算数のこと、どれだけわかってるかな？
テストをやってみよう！



みそら

1 計算をしよう [1つ2点]

(1) $6 \times 4 = 24$

(2) $7 \times 8 = 56$

(3) $5 \times 9 = 45$

(4) $8 \times 8 = 64$

(5) $9 \times 7 = 63$

(6) $10 \times 10 = 100$

(7) $4 \times 8 + 8 = 40$

(8) $6 \times 9 + 7 = 61$

(9) $8 \times 0 + 2 = 2$

(10) $8 \times 6 - 8 = 40$

(11) $3 \times 9 - 9 = 18$

(12) $9 \times 8 - 6 = 66$

(13) $57 - 6 \times 9 = 3$

(14) $81 - 4 \times 9 = 45$

(15) $127 - 8 \times 9 = 55$

2 たて6cm、よこ9cmの長方形と、1辺が8cmの正方形があります。

周りの長さは、どちらの四角形が、どれだけ長いですか [10点]

$$(6+9) \times 2 = 30 \quad 8 \times 4 = 32$$

式 $32 - 30 = 2$

正方形が

答え 2cm 長い

3 100円玉が7こ、50円玉が5こ、10円玉が12こあります。

全部で、いくらありますか [10点]

式 $700 + 250 + 120 = 1070$

答え 1070円

3年生

算数ドリル

テスト①-2

時間 10分

年 組 名前

点数

クリア40点

/ 50点



「かけ算」や「わり算」は、「たし算」と「ひき算」よりも、先に計算するんだったよね。



うさみ

1 計算をしよう [1つ2点]

(1) $40 \div 5 = 8$

(2) $36 \div 6 = 6$

(3) $48 \div 8 = 6$

(4) $35 \div 7 = 5$

(5) $49 \div 7 = 7$

(6) $72 \div 9 = 8$

(7) $32 \div 4 + 6 = 14$

(8) $54 \div 6 + 7 = 16$

(9) $56 \div 7 + 10 = 18$

(10) $64 \div 8 - 5 = 3$

(11) $54 \div 6 - 1 = 8$

(12) $81 \div 9 - 9 = 0$

(13) $19 - 32 \div 8 = 15$

(14) $8 - 24 \div 3 = 0$

(15) $21 - 18 \div 9 = 19$

2 赤いテープが28cm、青いテープが7cmがあります。

赤いテープは、青いテープの何倍なんばいの長さですか [10点]

式 $28 \div 7 = 4$

答え 4倍

3 120円のジュースを1本と、グミを6こ買ったら、 値段はちょうど300円でした。

グミは1こ、いくらでしょう [10点]

$300 - 120 = 180$

式 $180 \div 6 = 30$

答え 30円

3年生

算数ドリル

テスト①-3

時間 10分

年 組 名前

点数

クリア45点

/ 60点



「1分は60秒」「1時間は60分」「1日は24時間」
時間は、「60」ごとに切りかわるんだよね。

1 時間のけい算をしよう 【1問5点】

$$\begin{array}{r} (1) \quad 2 \text{ 時間 } 22 \text{ 分} \\ + 5 \text{ 時間 } 31 \text{ 分} \\ \hline \end{array}$$

7 時間 53 分

$$\begin{array}{r} (2) \quad 1 \text{ 時間 } 16 \text{ 分} \\ + 3 \text{ 時間 } 58 \text{ 分} \\ \hline \end{array}$$

5 時間 14 分

$$\begin{array}{r} (3) \quad 4 \text{ 分 } 47 \text{ 秒} \\ + 1 \text{ 分 } 47 \text{ 秒} \\ \hline \end{array}$$

6 分 34 秒

$$\begin{array}{r} (4) \quad 5 \text{ 時間 } 34 \text{ 分} \\ - 3 \text{ 時間 } 19 \text{ 分} \\ \hline \end{array}$$

2 時間 15 分


$$\begin{array}{r} (5) \quad 8 \text{ 時間 } 13 \text{ 分} \\ - 4 \text{ 時間 } 38 \text{ 分} \\ \hline \end{array}$$

3 時間 35 分


$$\begin{array}{r} (6) \quad 9 \text{ 分 } 21 \text{ 秒} \\ - 6 \text{ 分 } 43 \text{ 秒} \\ \hline \end{array}$$

2 分 38 秒


2 正午までは、あと何時間何分でしょう 【1問5点】




1 時間 50 分



7 時間 20 分



3 時間 35 分



5 時間 5 分

3 にはいる^{すうじ}数字をかこう 【1問5点】

$$(1) \quad 8 \text{ 時間 } 36 \text{ 分} + 2 \text{ 時間 } 48 \text{ 分} = \boxed{11} \text{ 時間 } \boxed{24} \text{ 分}$$

$$(2) \quad 43 \text{ 分 } 51 \text{ 秒} + 39 \text{ 分 } 47 \text{ 秒} = \boxed{1} \text{ 時間 } \boxed{23} \text{ 分 } \boxed{38} \text{ 秒}$$

3年生

算数ドリル

テスト①-4

時間 10分

年 組 名前


点数

クリア 30点

/ 40点



ぼう
棒グラフをかくときは、グラフの1メモリが
「どれだけか」を、さいしょにしらべよう★

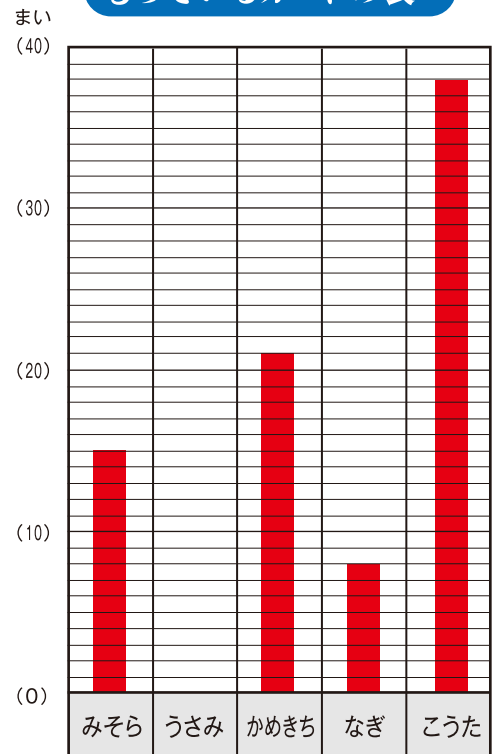


1 5人がもっている、カードの数をしらべると、
下のようになりました。

「みそら:15まい」、「うさみ:0まい」、
「かめきち:21まい」、「なぎ:8まい」、
「こうた:38まい」

これを、表と棒グラフにまとめましょう 【各10点】

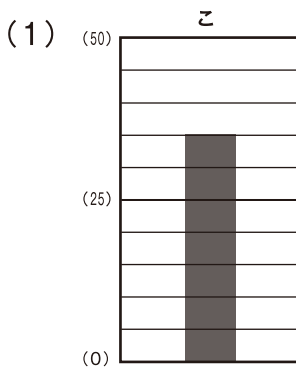
もっているカードの表



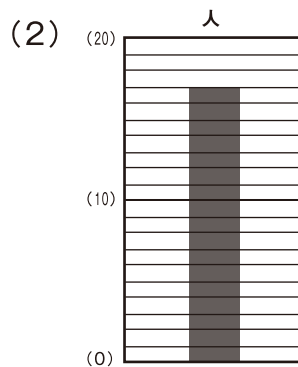
もっているカードの表

名 前	みそら	うさみ	かめきち	なぎ	こうた
カードの数	15	0	21	8	38

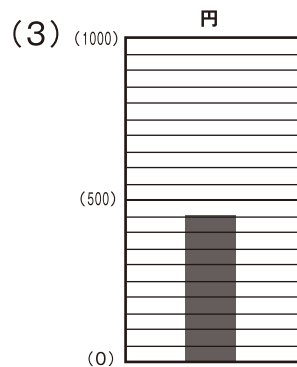
2 下の棒グラフを見て、どれだけ大きさか書きましょう 【1問5点】



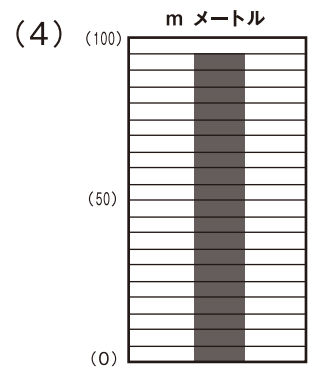
答え 35 こ



答え 17 人



答え 450 円



答え 95m

3年生

算数ドリル

テスト①-5


時間 10分

年 組 名前

点数

クリア40点

/ 50点



「くり上がり」と「くり下がり」に気をつけて、
まちがわないようにね



1 けいざん 計算をしよう 【1問3点】

(1)	$\begin{array}{r} 5276 \\ + 3759 \\ \hline 9035 \end{array}$	(2)	$\begin{array}{r} 7016 \\ - 3758 \\ \hline 3258 \end{array}$	(3)	$\begin{array}{r} 7164 \\ + 3947 \\ \hline 11111 \end{array}$	(4)	$\begin{array}{r} 6357 \\ - 5469 \\ \hline 888 \end{array}$
-----	--	-----	--	-----	---	-----	---

2 あんざん 暗算(あたまの中) で計算をしよう 【1問3点】

(1) $54 + 18 = 72$ (2) $81 - 29 = 52$ (3) $67 + 28 = 95$

(4) $73 - 55 = 18$ (5) $93 + 57 = 150$ (6) $92 - 68 = 24$

3 みそらちゃんは、4800円のゲームと、1452円の本を買って、
10000円さつでお金をはらいました。

(1) みそらちゃん買った、ゲームと本を合わせると、いくらですか 【10点】

式 $4800 + 1452 = 6252$

答え 6252 円

(2) みそらちゃんがうけとるおつりは、いくらですか 【10点】

式 $10000 - 6252 = 3748$

答え 3748 円