

2年生

算数

大きな数-1

時間 10分

年 組 名前


点数

クリア40点

/ 50点



100よりも、大きな数を数えていこう
0の数にきをつけて、計算しようね



1 にはいる数をかこう【1問4点】

(1) 100を3ごと10を7こあつめた数は

(2) 100を8ごと1を17こあつめた数は

(3) 10を68こあつめた数は

(4) 100→200→→400→→600

(5) 500→470→→410→→350

2 けい算をしよう【1問3点】

(1) $100+50+30=$

(2) $6+40+400=$

(3) $150+200+150=$

(4) $250+300+250=$

(5) $15+600+50=$

(6) $35+15+700=$

(7) $10\times 10=$

(8) $10\times 50=$

(9) $10\times 10\times 2=$

(10) $10\times 50\times 10=$

2年生

算数

大きな数-2

時間 10分

年 組 名前

点数

クリア40点

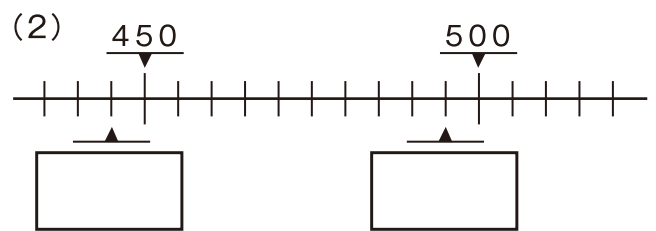
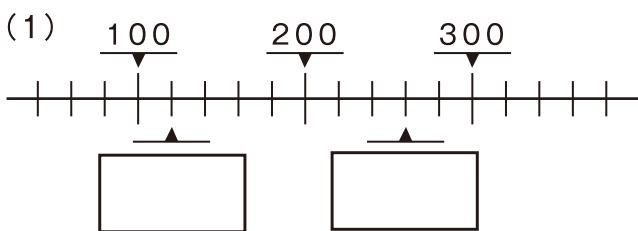
/ 50点



大きな数でも、どれだけ数がふえているか、
どれだけ数がへっているか、おちついて数えよう



1 □ にはいる数をかこう 【1つ4点】



(3) 130 → 160 → □ → 220 → □ → 280

(4) 950 → 830 → □ → 590 → □ → 350

2 うさみちゃんのおサイフには、100円玉が5まいと、10円玉が8まいと、1円玉が6まい入っています。そして、かめきちくんのおサイフには、100円玉が8まいと、10円玉が5まいと、1円玉が14まい入っています。

(1) うさみちゃんのおサイフには、ぜんぶでいくら入っているでしょう？ 【8点】

しき

こた 答え

(2) かめきちくんは、うさみちゃんよりも、いくら多くもってるでしょう？ 【10点】

しき

こた 答え

2年生

算数

大きな数-3


時間 10分

年 組 名前

点数

クリア40点

/ 50点



10000までの、大きな数を数えていこう
0の数が多いよ。きをつけてね★



みそカツ!

1 にはいる数をかこう【1つ3点】

(1) 1000を7こと100を9こあつめた数は

(2) 100を69こと1を38こあつめた数は

(3) 10を740こと1を125こあつめた数は

(4) 3300→3000→→2400→→1800

(5) 6850→6700→→6400→→6100

2 けい算をしよう【1問3点】

(1) $1000+600+50=$

(2) $550+2200+30=$

(3) $3200+1200+200=$

(4) $630+7080+170=$

(5) $4000-3000+500=$

(6) $9000-8000-700=$

(7) $100\times 450=$

(8) $100\times 1000=$

(9) $10\times 100\times 10=$

(10) $5\times 100\times 20=$

2年生

算数

大きな数-4


時間 10分

年 組 名前

点数

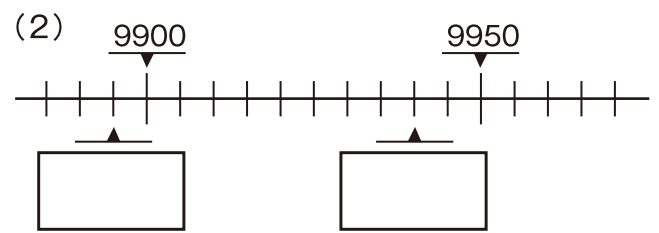
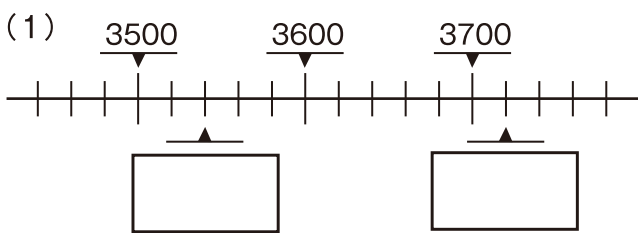
クリア40点

/ 50点



おお かず いちばん おお かず
 大きな数だよ。でも、せんとうにある一番大きな数は、
 かんがえなくてもいい もんだいだってあるよ★

1 □ にはいる数をかこう 【1つ4点】



(3) 2500 → 2750 → □ → 3250 → □ → 4000

(4) 6090 → 6270 → □ → 6630 → □ → 6990

2 うさみちゃんの貯金箱には、1000円札が3まいと、500円玉が4まいと、10円玉が8まい入っています。そして、かめきちくんの貯金箱には、5000円札が1まいと、1000円札が4まいと、100円玉が10まい入っています。

(1) かめきちくんの貯金箱には、ぜんぶでいくら入っているでしょう？ 【8点】

しき

こた 答え

(2) かめきちくんは、うさみちゃんよりも、いくら多くもってるでしょう？ 【10点】

しき

こた 答え