

2年生

算数

大きな数-1

時間 10分

年 組 名前

点数

クリア40点

/ 50点



100よりも、大きな数を数えていこう  
0の数にきをつけて、計算しようね



1  にはいる数をかこう 【1問4点】

(1) 100を3こと10を7こあつめた数は

(2) 100を8こと1を17こあつめた数は

(3) 10を68こあつめた数は

(4) 100→200→→400→→600

(5) 500→470→→410→→350

2  けい算をしよう 【1問3点】

(1)  $100+50+30=180$

(2)  $6+40+400=446$

(3)  $150+200+150=500$

(4)  $250+300+250=800$

(5)  $15+600+50=665$

(6)  $35+15+700=750$

(7)  $10\times 10=100$

(8)  $10\times 50=500$

(9)  $10\times 10\times 2=200$

(10)  $10\times 50\times 10=5000$

2年生

算数

大きな数-2


時間 10分

年 組 名前

点数

クリア40点

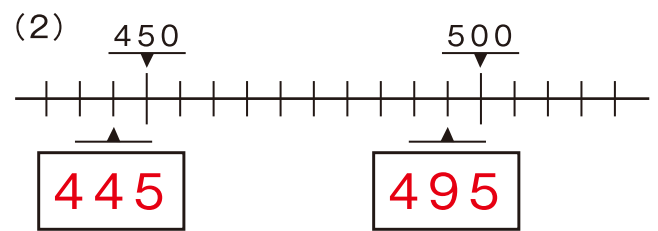
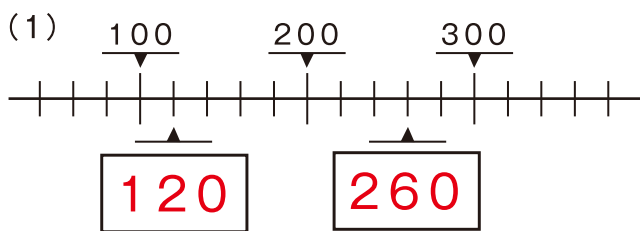
/ 50点



大きな数でも、どれだけ数がふえているか、  
 どれだけ数がへっているか、おちついて数えよう



1 □ にはいる数をかこう 【1つ4点】



(3) 130 → 160 → **190** → 220 → **250** → 280

(4) 950 → 830 → **710** → 590 → **470** → 350

2 うさみちゃんのおサイフには、100円玉が5まいと、10円玉が8まいと、1円玉が6まい入っています。そして、かめきちくんのおサイフには、100円玉が8まいと、10円玉が5まいと、1円玉が14まい入っています。

(1) うさみちゃんのおサイフには、ぜんぶでいくら入っているでしょう？ 【8点】

しき  $500 + 80 + 6 = 586$

こた 答え **586 円**

(2) かめきちくんは、うさみちゃんよりも、いくら多くもってるでしょう？ 【10点】

$800 + 50 + 14 = 864$

しき  $864 - 586 = 278$

こた 答え **278 円**

2年生

算数

大きな数-3


時間 10分

年 組 名前

点数

クリア40点

/ 50点



10000までの、大きな数を数えていこう  
0の数が多いよ。きをつけてね★



みそカツ!

1  にはいる数をかこう 【1つ3点】

(1) 1000を7こと100を9こあつめた数は **7900**

(2) 100を69こと1を38こあつめた数は **6938**

(3) 10を740こと1を125こあつめた数は **7525**

(4) 3300→3000→ **2700** →2400→ **2100** →1800

(5) 6850→6700→ **6550** →6400→ **6250** →6100

2 <sup>さん</sup> けい算をしよう 【1問3点】

(1)  $1000+600+50=$  **1650**

(2)  $550+2200+30=$  **2780**

(3)  $3200+1200+200=$  **4600**

(4)  $630+7080+170=$  **7880**

(5)  $4000-3000+500=$  **1500**

(6)  $9000-8000-700=$  **300**

(7)  $100\times 450=$  **4500**

(8)  $100\times 1000=$  **10000**

(9)  $10\times 100\times 10=$  **10000**

(10)  $5\times 100\times 20=$  **10000**

2年生

算数

大きな数-4


時間 10分

年 組 名前

点数

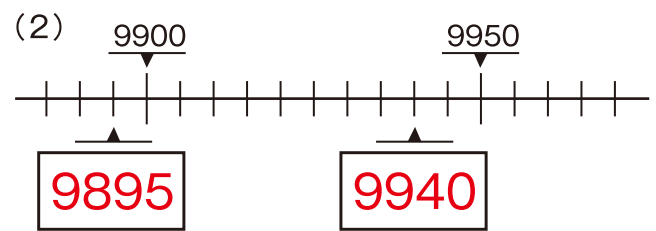
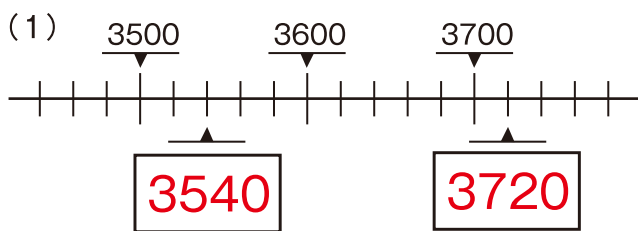
クリア40点

/ 50点



おお かず いちばん おお かず  
 大きな数だよ。でも、せんとうにある一番大きな数は、  
 かんがえなくてもいい もんだいだってあるよ★

1 □ にはいる数をかこう 【1つ4点】



(3) 2500 → 2750 → 3000 → 3250 → 3500 → 4000

(4) 6090 → 6270 → 6450 → 6630 → 6810 → 6990

2 うさみちゃんの貯金箱には、1000円札が3まいと、500円玉が4まいと、10円玉が8まい入っています。そして、かめきちくんの貯金箱には、5000円札が1まいと、1000円札が4まいと、100円玉が10まい入っています。

(1) かめきちくんの貯金箱には、ぜんぶでいくら入っているでしょう？ 【8点】

しき  $5000 + 4000 + 1000 = 10000$

こた 答え 10000円

(2) かめきちくんは、うさみちゃんよりも、いくら多くもってるでしょう？ 【10点】

$3000 + 2000 + 80 = 5080$

しき  $10000 - 5080 = 4920$

こた 答え 4920円