

2年生

算数ドリル

ひき算⑤-1


時間 10分

年 組 名前

点数

クリア40点

/ 50点



くり下がりをしたときには、くり下がったところに
わすれないように、小さなしるしをつけるのもいいよ



1 ひき算をしよう(ひっ算) 【1問4点】

(1)	$\begin{array}{r} 2500 \\ - 1200 \\ \hline 1300 \end{array}$	(2)	$\begin{array}{r} 5700 \\ - 3200 \\ \hline \end{array}$	(3)	$\begin{array}{r} 6700 \\ - 2150 \\ \hline \end{array}$	(4)	$\begin{array}{r} 5300 \\ - 1700 \\ \hline \end{array}$
-----	--	-----	---	-----	---	-----	---

(5)	$\begin{array}{r} 4080 \\ - 1800 \\ \hline \end{array}$	(6)	$\begin{array}{r} 6200 \\ - 3050 \\ \hline \end{array}$	(7)	$\begin{array}{r} 8450 \\ - 5600 \\ \hline \end{array}$	(8)	$\begin{array}{r} 3150 \\ - 1605 \\ \hline \end{array}$
-----	---	-----	---	-----	---	-----	---

2 ぼくは1800円、妹は900円もっているよ。

(1) ぼくは妹より、いくら多くもっているでしょう 【6点】

しき

こた
答え

(2) ぼくは妹とお金をあわせて、6400円のゲームを買おうと思っているんだ。

ぼくと妹は、あといくらためれば、ゲームが買えるでしょう 【6点】

しき

こた
答え

3 先月ぼくは、8500m走りました。今月は、かぜをひいていたときがあったから、5750mしか走れませんでした。先月は今月より、何m多く走りましたか

【6点】

しき

こた
答え

2年生

算数ドリル

ひき算⑤-2


時間 10分

年 組 名前

点数

クリア40点

/ 50点



4けたと4けたのひき算だよ。数が大きくなってきたけど、ひき算のやりかたは、これまでとおなじだよ

1 ひき算をしよう(ひっ算) 【1問4点】

$$\begin{array}{r} (1) \quad 2468 \\ - 1234 \\ \hline 1234 \end{array}$$

$$(2) \quad \begin{array}{r} 3849 \\ - 1325 \\ \hline \end{array}$$

$$(3) \quad \begin{array}{r} 6728 \\ - 5617 \\ \hline \end{array}$$

$$(4) \quad \begin{array}{r} 6987 \\ - 1432 \\ \hline \end{array}$$

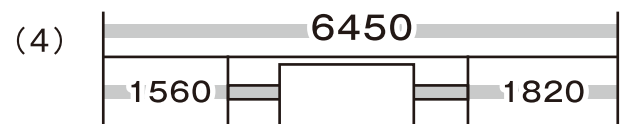
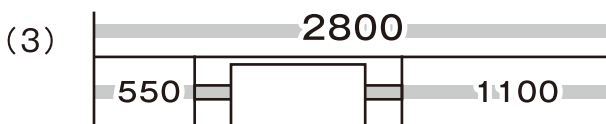
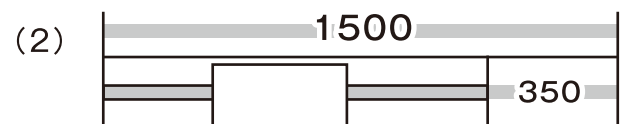
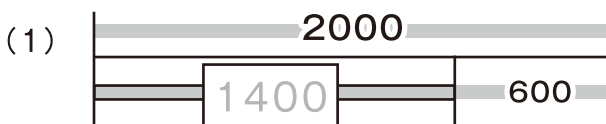
$$(5) \quad \begin{array}{r} 4886 \\ - 2658 \\ \hline \end{array}$$

$$(6) \quad \begin{array}{r} 2105 \\ - 1092 \\ \hline \end{array}$$

$$(7) \quad \begin{array}{r} 5326 \\ - 2273 \\ \hline \end{array}$$

$$(8) \quad \begin{array}{r} 6475 \\ - 3898 \\ \hline \end{array}$$

2 にはいる数をかこう 【1問3点】



3 1180円のパズルと、2750円の人形を買って、5000円さつでお金をはらいました。うけとるおつりは、いくらでしょう 【6点】

しき

こた
答え

2年生

算数ドリル

ひき算⑤-3

時間 10分

年 組 名前

点数

クリア40点

/ 50点



1かい ^{こた} 答えをかいても、まちがっていないか
たしかめ算で、もう1かい ^{さん} けい算してみよう



にや!

みそら

1 あん算(あたまの中)で、ひき算をしよう 【1問2点】

(1) $480 - 230 = 250$ (2) $320 - 150 =$ (3) $560 - 280 =$

(4) $805 - 480 =$ (5) $410 - 130 =$ (6) $630 - 415 =$

2 にはいる ^{すうじ} 数字をかこう 【1問4点】

(1) $\begin{array}{r} \boxed{2}65\boxed{0} \\ - 1\boxed{4}\boxed{2}0 \\ \hline 1230 \end{array}$ (2) $\begin{array}{r} 368\boxed{} \\ - \boxed{}\boxed{}03 \\ \hline 23\boxed{}2 \end{array}$ (3) $\begin{array}{r} \boxed{}8\boxed{}2 \\ - 2\boxed{}2\boxed{} \\ \hline 3451 \end{array}$ (4) $\begin{array}{r} 6\boxed{}73 \\ - \boxed{}7\boxed{}2 \\ \hline 324\boxed{} \end{array}$

(5) $\begin{array}{r} \boxed{}2\boxed{}6 \\ - 315\boxed{} \\ \hline 2\boxed{}84 \end{array}$ (6) $\begin{array}{r} 46\boxed{}2 \\ - 1\boxed{}0\boxed{} \\ \hline \boxed{}216 \end{array}$ (7) $\begin{array}{r} 6\boxed{}18 \\ - 21\boxed{}7 \\ \hline \boxed{}33\boxed{} \end{array}$ (8) $\begin{array}{r} \boxed{}62\boxed{} \\ - 65\boxed{}7 \\ \hline 2\boxed{}34 \end{array}$

3 ^{でんしゃ} 電車には今、^{いま} 2176人がのっています。

^{つぎ} 次の駅で^{えき} 368人がおりて、145人がのってくると、

^{でんしゃ} 電車には、^{なんにん} 何人がのっていることになりますか 【6点】

しき

^{こた} 答え

2年生

算数ドリル

ひき算⑤-4


時間 15分

年 組 名前

点数

クリア40点

/ 50点



くり下がりをしたときには、くり下がったところに
わすれないように、小さなしるしをつけるのもいいよ



1 ひき算をしよう(ひっ算) 【1問3点】

$$\begin{array}{r} (1) \quad 2845 \\ - 1782 \\ \hline 1063 \end{array}$$

$$(2) \quad \begin{array}{r} 3152 \\ - 1618 \\ \hline \end{array}$$

$$(3) \quad \begin{array}{r} 4624 \\ - 1861 \\ \hline \end{array}$$

$$(4) \quad \begin{array}{r} 5283 \\ - 3197 \\ \hline \end{array}$$

$$(5) \quad \begin{array}{r} 6373 \\ - 1985 \\ \hline \end{array}$$

$$(6) \quad \begin{array}{r} 7624 \\ - 3768 \\ \hline \end{array}$$

$$(7) \quad \begin{array}{r} 8421 \\ - 2480 \\ \hline \end{array}$$

$$(8) \quad \begin{array}{r} 9374 \\ - 1886 \\ \hline \end{array}$$

2 にはいる数字をかこう 【1問5点】

$$(1) \quad \begin{array}{r} 4 \boxed{7} 2 \boxed{6} \\ - \boxed{2} 8 \boxed{1} 4 \\ \hline 1912 \end{array}$$

$$(2) \quad \begin{array}{r} 624 \boxed{} \\ - \boxed{} \boxed{} 89 \\ \hline 25 \boxed{} 8 \end{array}$$

$$(3) \quad \begin{array}{r} 72 \boxed{} 7 \\ - 4 \boxed{} 6 \boxed{} \\ \hline \boxed{} 880 \end{array}$$

$$(4) \quad \begin{array}{r} \boxed{} 18 \boxed{} \\ - 67 \boxed{} 3 \\ \hline 2 \boxed{} 91 \end{array}$$

- 3 ぼくの家から おじいちゃんの家までは、1140m。おじいちゃんの家から
駅までは、1520mです。ぼくの家から、どこにもよらずに駅にいくと、
おじいちゃんの家によったときより、870m 近くなります。
ぼく家から駅までは、何mですか 【6点】

しき

こた
答え