

2年生

算数ドリル

ひき算⑤-1

時間 10分

年 組 名前

点数

クリア40点

/ 50点



くり下がりをしたときには、くり下がったところに
わすれないように、小さなしるしをつけるのもいいよ



1 ひき算をしよう(ひっ算) 【1問4点】

(1)	$\begin{array}{r} 2500 \\ - 1200 \\ \hline 1300 \end{array}$	(2)	$\begin{array}{r} 5700 \\ - 3200 \\ \hline 2500 \end{array}$	(3)	$\begin{array}{r} 6700 \\ - 2150 \\ \hline 4550 \end{array}$	(4)	$\begin{array}{r} 5300 \\ - 1700 \\ \hline 3600 \end{array}$
(5)	$\begin{array}{r} 4080 \\ - 1800 \\ \hline 2280 \end{array}$	(6)	$\begin{array}{r} 6200 \\ - 3050 \\ \hline 3150 \end{array}$	(7)	$\begin{array}{r} 8450 \\ - 5600 \\ \hline 2850 \end{array}$	(8)	$\begin{array}{r} 3150 \\ - 1605 \\ \hline 1545 \end{array}$

2 ぼくは1800円、妹は900円もっているよ。

(1) ぼくは妹より、いくら多くもっているでしょう 【6点】

しき $1800 - 900 = 900$

答え 900円

(2) ぼくは妹とお金をあわせて、6400円のゲームを買おうと思っているんだ。

ぼくと妹は、あといくらためれば、ゲームが買えるでしょう 【6点】

しき $6400 - (1800 + 900) = 3700$

答え 3700円

3 先月ぼくは、8500m走りました。今月は、かぜをひいていたときがあったから、5750mしか走れませんでした。先月は今月より、何m多く走りましたか

【6点】

しき $8500 - 5750 = 2750$

答え 2750m

2年生

算数ドリル

ひき算⑤-2

時間 10分

年 組 名前

点数

クリア40点

/ 50点



4けたと4けたのひき算だよ。数が大きくなってきたけど、ひき算のやりかたは、これまでとおなじだよ

1 ひき算をしよう(ひっ算) 【1問4点】

$$\begin{array}{r} (1) \quad 2468 \\ - 1234 \\ \hline 1234 \end{array}$$

$$\begin{array}{r} (2) \quad 3849 \\ - 1325 \\ \hline 2524 \end{array}$$

$$\begin{array}{r} (3) \quad 6728 \\ - 5617 \\ \hline 1111 \end{array}$$

$$\begin{array}{r} (4) \quad 6987 \\ - 1432 \\ \hline 5555 \end{array}$$

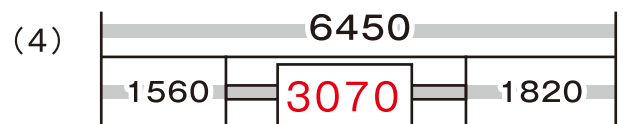
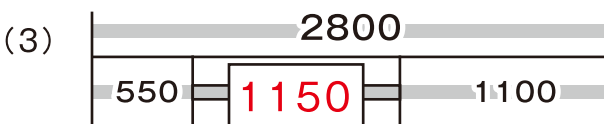
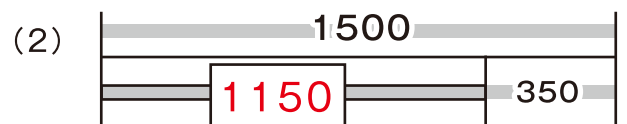
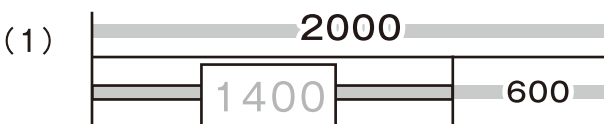
$$\begin{array}{r} (5) \quad 4886 \\ - 2658 \\ \hline 2228 \end{array}$$

$$\begin{array}{r} (6) \quad 2105 \\ - 1092 \\ \hline 1013 \end{array}$$

$$\begin{array}{r} (7) \quad 5326 \\ - 2273 \\ \hline 3053 \end{array}$$

$$\begin{array}{r} (8) \quad 6475 \\ - 3898 \\ \hline 2577 \end{array}$$

2 にはいる数をかこう 【1問3点】



3 1180円のパズルと、2750円の人形を買って、5000円さつでお金をはらいました。うけとるおつりは、いくらでしょう 【6点】

しき $5000 - (1180 + 2750) = 1170$

こた 答え 1070円

2年生

算数ドリル

ひき算⑤-3

時間 10分

年 組 名前

点数

クリア40点

/ 50点



1かい ^{こた} 答えをかいても、まちがっていないか
たしかめ算で、もう1かい ^{さん} けい算してみよう



1 あん算(あたまの中)で、ひき算をしよう 【1問2点】

(1) $480 - 230 = 250$ (2) $320 - 150 = 170$ (3) $560 - 280 = 280$

(4) $805 - 480 = 325$ (5) $410 - 130 = 280$ (6) $630 - 415 = 215$

2 □にはいる数字をかこう 【1問4点】

(1)
$$\begin{array}{r} \boxed{2} \ 6 \ 5 \ \boxed{0} \\ - 1 \ \boxed{4} \ \boxed{2} \ 0 \\ \hline 1 \ 2 \ 3 \ 0 \end{array}$$

(2)
$$\begin{array}{r} 3 \ 6 \ 8 \ \boxed{5} \\ - \boxed{1} \ \boxed{3} \ 0 \ 3 \\ \hline 2 \ 3 \ \boxed{8} \ 2 \end{array}$$

(3)
$$\begin{array}{r} \boxed{5} \ 8 \ \boxed{7} \ 2 \\ - 2 \ \boxed{4} \ 2 \ \boxed{1} \\ \hline 3 \ 4 \ 5 \ 1 \end{array}$$

(4)
$$\begin{array}{r} 6 \ \boxed{9} \ 7 \ 3 \\ - \boxed{3} \ 7 \ \boxed{3} \ 2 \\ \hline 3 \ 2 \ 4 \ \boxed{1} \end{array}$$

(5)
$$\begin{array}{r} \boxed{5} \ 2 \ \boxed{3} \ 6 \\ - 3 \ 1 \ 5 \ \boxed{2} \\ \hline 2 \ \boxed{0} \ 8 \ 4 \end{array}$$

(6)
$$\begin{array}{r} 4 \ 6 \ \boxed{2} \ 2 \\ - 1 \ \boxed{4} \ 0 \ \boxed{6} \\ \hline \boxed{3} \ 2 \ 1 \ 6 \end{array}$$

(7)
$$\begin{array}{r} 6 \ \boxed{5} \ 1 \ 8 \\ - 2 \ 1 \ \boxed{8} \ 7 \\ \hline \boxed{4} \ 3 \ 3 \ \boxed{1} \end{array}$$

(8)
$$\begin{array}{r} \boxed{8} \ 6 \ 2 \ \boxed{1} \\ - 6 \ 5 \ \boxed{8} \ 7 \\ \hline 2 \ \boxed{0} \ 3 \ 4 \end{array}$$

3 電車には今、2176人がのっています。

つぎ ^{えき} 駅の駅で368人がおりて、145人がのってくると、

電車には、何人がのっていることになりますか 【6点】

① $2176 - 368 + 145 = 1953$

しき ② $2176 - (368 - 145) = 1953$

こた 答え 1953人

2年生

算数ドリル

ひき算⑤-4

時間 15分

年 組 名前

点数

クリア40点

/ 50点



くり下がりをしたときには、くり下がったところに
わすれないように、小さなしをつけるのモイイよ



1 ひき算をしよう(ひっ算) 【1問3点】

$$\begin{array}{r} (1) \quad 2845 \\ - 1782 \\ \hline 1063 \end{array}$$

$$\begin{array}{r} (2) \quad 3152 \\ - 1618 \\ \hline 1534 \end{array}$$

$$\begin{array}{r} (3) \quad 4624 \\ - 1861 \\ \hline 2763 \end{array}$$

$$\begin{array}{r} (4) \quad 5283 \\ - 3197 \\ \hline 2086 \end{array}$$

$$\begin{array}{r} (5) \quad 6373 \\ - 1985 \\ \hline 4388 \end{array}$$

$$\begin{array}{r} (6) \quad 7624 \\ - 3768 \\ \hline 3856 \end{array}$$

$$\begin{array}{r} (7) \quad 8421 \\ - 2480 \\ \hline 5941 \end{array}$$

$$\begin{array}{r} (8) \quad 9374 \\ - 1886 \\ \hline 7488 \end{array}$$

2 にはいる数字をかこう 【1問5点】

$$\begin{array}{r} (1) \quad 4 \boxed{7} 2 \boxed{6} \\ - \boxed{2} 8 \boxed{1} 4 \\ \hline 1912 \end{array}$$

$$\begin{array}{r} (2) \quad 6 2 4 \boxed{7} \\ - \boxed{3} \boxed{6} 8 9 \\ \hline 25 \boxed{5} 8 \end{array}$$

$$\begin{array}{r} (3) \quad 7 2 \boxed{4} 7 \\ - 4 \boxed{3} 6 \boxed{7} \\ \hline \boxed{2} 8 8 0 \end{array}$$

$$\begin{array}{r} (4) \quad \boxed{9} 1 8 \boxed{4} \\ - 6 7 \boxed{9} 3 \\ \hline 2 \boxed{3} 9 1 \end{array}$$

- 3 ぼくの家から おじいちゃんの家までは、1140m。おじいちゃんの家から
駅までは、1520mです。ぼくの家から、どこにもよらずに駅にいくと、
おじいちゃんの家によったときより、870m 近くなります。
ぼく家から駅までは、何mですか 【6点】

しき $1140+1520-870=1790$

こた 答え 1790m