

2年生

算数ドリル

かけ算④-1


時間 10分

年 組 名前

点数

クリア40点

/ 50点



「×(かける)」は、「×」の^{まえ}前にある^{かず}数が、「どれだけあるか」ってことだよ。「 3×7 」は「3」が「 $\times 7$ 」だから、「3が7こ」ってことだよ。だから、「 3×7 」は「3の7^{おな}ばい」と同じことなんだ

1 かけ算をしよう さん 【1問2点】

(1) $1 \times 3 = 3$

(2) $2 \times 4 = 8$

(3) $3 \times 5 = 15$

(4) $4 \times 6 = 24$

(5) $5 \times 8 = 40$

(6) $6 \times 6 = 36$

(7) $7 \times 4 = 28$

(8) $8 \times 7 = 56$

(9) $9 \times 3 = 27$

2 にはいる^{かず}数をかこう 【1問3点】

(1) 3の4ばいは

(1) 5の6ばいは

(3) 4の7ばいは

(4) 2の8ばいは

(5) 7の3ばいは

(6) 8の5ばいは

(7) 6の9ばいは

(8) 9の7ばいは

3 えんぴつを^{ひとり}1人に^{ほん}4本ずつ、^{にん}8人にくばりました。

ぜんぶで、^{なん}何本のえんぴつをくばりましたか 【8点】

しき $4 \times 8 = 32$

こた 答え 32 本

2年生

算数ドリル

かけ算④-2

時間 10分

年 組 名前

点数

クリア 30点

/ 40点



しろい べあ のすけ
白井 ペア之助



「3つのボールが入ったはこが、5こあります。ボールは、あわせてなんこありますか？」のしきは、「 3×5 」だよ。「なんこ？」だから、「3このボールが、5つ(5ばい)」で、「15このボール」だよね。

1 にはいる^{かず}数をかこう 【1問5点】

(1)  は  の ばい

(2)  は  の ばい

(3)  は  の ばい

(4)  は  の ばい

2 ^{がっこう}学校のまわりを1しゅうするのに、^{ぶん}6分 かかりました。

^{がっこう}学校のまわりを8しゅうするのには、^{なんぶん}何分 かかりますか 【10点】

しき $6 \times 8 = 48$

こた
答え 48分

3 あつさ3cmの本を、^{ほん}7さつ かさねました。

^{ほん}本のアつさは、^{なん}何cmになりますか 【10点】

しき $3 \times 7 = 21$

こた
答え 21cm

2年生

算数ドリル

かけ算④-3


時間 10分

年 組 名前

点数

クリア40点

/ 50点



「 6×3 」は「 $6+6+6$ 」と、同じだよね。
 じゃあ「 6×3 」は、「6の3ばい」とも同じだね。



にゃ!

みそら

1 かけ算をしよう 【1問2点】

(1) $5 \times 9 = 45$

(2) $6 \times 6 = 36$

(3) $7 \times 6 = 42$

(4) $8 \times 6 = 48$

(5) $9 \times 4 = 36$

(6) $6 \times 8 = 48$

(7) $7 \times 9 = 63$

(8) $8 \times 9 = 72$

(9) $9 \times 9 = 81$

2 にはいる数をかこう 【1問3点】

(1) 6×8 は $3 \times$ の 2 ばい

(2) 6×9 は $2 \times$ の 3 ばい

(3) 2×9 と $\times 3$ は 同じ

(4) 4×6 と $\times 3$ は 同じ

(5) 6×9 は $6 \times$ $+ 6$

(6) 8×4 は $8 \times$ $- 8$

(7) 72 は $8 \times$

(8) 47 は $7 \times$ $+ 5$

3 600mLが入るコップで、バケツに水を8回入れました。【8点】

バケツに入っている水は、何L何dLですか

しき $6\text{dL} \times 8 = 48\text{dL} = 4\text{L}8\text{dL}$ こた 答え $4\text{L}8\text{dL}$

2年生

算数ドリル

かけ算④-4


時間 10分

年 組 名前

点数

クリア 30点

/ 40点



ぶん ぜん こと ぶん こと
 文しょうのもんだいの「かけ算のしき」は、「答え」になるもの
 から、さきにかくんだ。答えが「いくら？」なら、もんだいの中で
 なん えん
 「何円」って かかっているものを、さきにとってことだよ

- 1 5cmのテープが6本、8cmのテープが7本あります。
 テープをせんぶつなげても、1mにはあと何cmたりませんか 【10点】

$$5 \times 6 = 30$$

$$8 \times 7 = 56$$

$$\text{しき} \quad 100 - 30 + 56 = 14$$

$$\text{こと} \quad \text{答え} \quad 14 \text{ cm}$$

- 2 おり紙のツルを1わおるのに、
 うさみちゃんは6分、かめきちくんは9分かかります。

- (1) うさみちゃんがツルを8わおるのに、何分かかりますか 【10点】

$$\text{しき} \quad 6 \times 8 = 48$$

$$\text{こと} \quad \text{答え} \quad 48 \text{ 分}$$

- (2) かめきちくんがツルを8わおるのには、何分かかりますか 【10点】

$$\text{しき} \quad 9 \times 8 = 72$$

$$\text{こと} \quad \text{答え} \quad 72 \text{ 分}$$

- (3) うさみちゃんとかめきちくんが、ツルを8わずつおるのに かかった時間を
 あわせると、何時間ですか 【10点】

$$\text{しき} \quad 48 + 72 = 120$$

$$\text{こと} \quad \text{答え} \quad 2 \text{ 時間}$$