

2年生

算数ドリル

四角形-3

時間 10分

年 組 名前

点数

クリア40点

/ 45点



し かく けい
四角形は「4つの辺(へん)」と「4つの
ちょう点(ちょうてん)」で できている
かたち へん せん
形だよ。「辺」は、まっすぐな線なんだ。



辺はまっすぐな
線なのじゃ


1 にはいる ^{かず}数やことばをかこう 【1つ5点】

(1) 四角形は、 本の「辺(へん)」で できています。

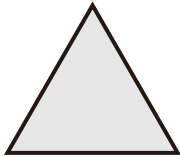
(2) 四角形には、 つの「ちょう点(ちょうてん)」があります。

(3) 「辺(へん)」は で できています。


2 (あ) (い) (う) (え) (お) (か) から、^{し かく けい}四角形をえらんで○でかこもう 【10点】



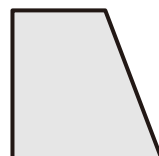
(あ)




(い)



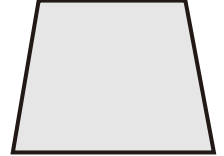
(う)



(え)

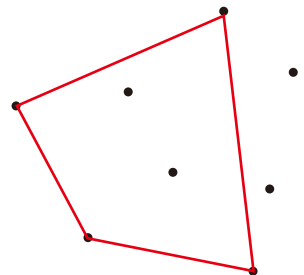
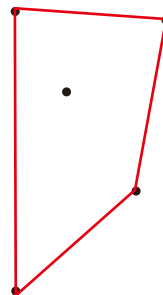
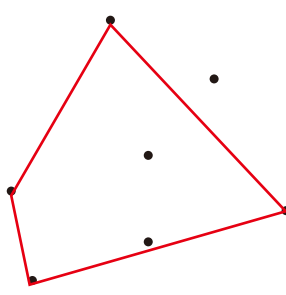
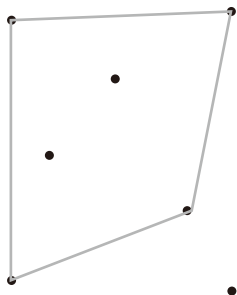


(お)



(か)

3 「・」をつないで、^{かたち}いろいろな形の四角形を4つかこう 【1つ5点】



年 組 名前

点数

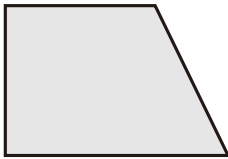
クリア 30点

/ 40点



「四角形」っていうけれど、四角形は「4つのまっすぐな線」つまり「4つの辺」でかこまれている形のことだよ。「角」が「4つ」だから「四角形」じゃないんだ。

1



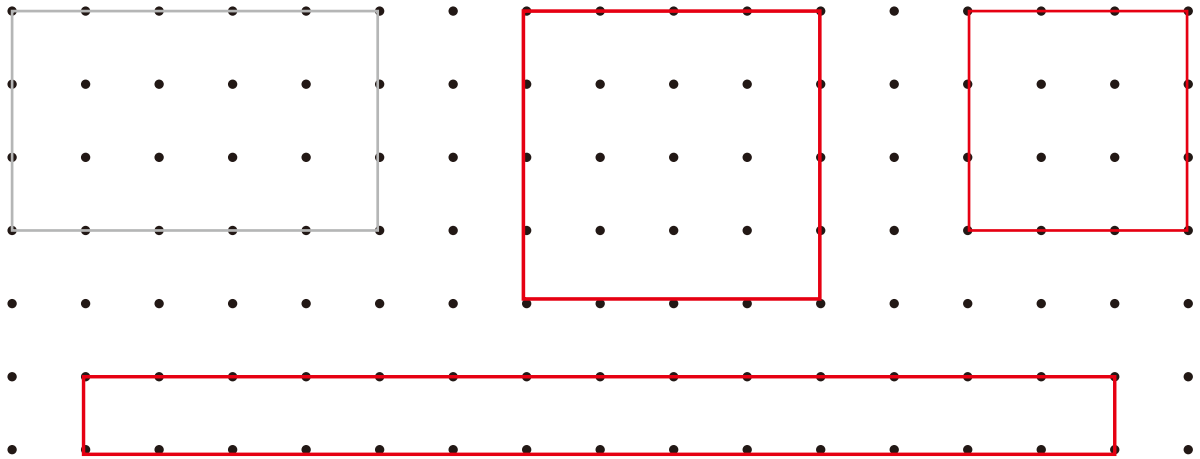
この形は、「四角形」です。

どうしてですか。せつめいしてください 【1つ10点】

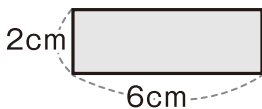
4本のまっすぐな線でかこまれた形だから

2


「・」をつないで、ちがう大きさの長方形か正方形を4つかこう 【1つ5点】



3



この四角形2つで



この形をつくりました。

この形のまわりの長さは

何cmになりますか 【10点】

しき $(2+2+6) \times 2 = 20$

こた 答え 20cm