

年 組 名前

点数

クリア 20点

/ 30点



2年生の算数は、ちゃんとわかってるかな？
どれだけわかっているか、たしかめよう



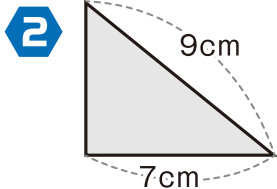
1 にはいる数や、ことばをかこう【1つ5点】

(1) 三角形は、 本の「辺(へん)」でできています。

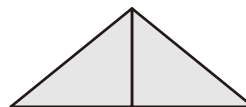
(2) 三角形には、3つの があります。

(3) 「辺(へん)」は でできています。

(4) 2つの「辺(へん)」がつくる形を といいます。



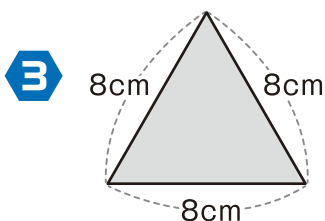
この三角形 2つで



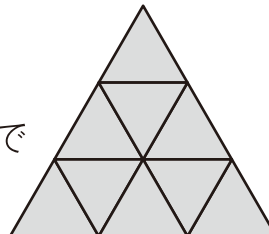
この形のをつくりました。
この形のまわりの長さは
何cmになりますか【5点】

しき $9+7=16$ $16+16=32$

こた 答え 32cm



この三角形 9つで



この形のをつくりました。
この形のまわりの長さは
何cmになりますか【5点】

しき $8 \times 3 \times 3 = 72$

こた 答え 72cm

2年生

算数ドリル

学力テスト③-2

時間 10分

年 組 名前

点数

クリア 20点

30点



し かく けい
四角形は「4つの辺(へん)」と「4つの
ちよう点(ちようてん)」で できている
かたち へん せん
形だよ。「辺」は、まっすぐな線なんだ。



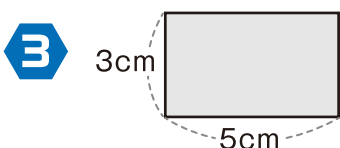
辺はまっすぐな
線なのにや

1 にはいる ^{かず}数やことば をかこう 【1問4点】

- (1) 四角形は、 本の「辺(へん)」で できています。
- (2) 四角形には、 つの「ちよう点(ちようてん)」があります。
- (3) は、まっすぐな線 ^{せん} で できています。
- (4) 正方形の「辺(へん)」は、すべて です。
- (5) 正方形の角は、すべて です。

2 この形は、「四角形」ではありません。
どうしてですか。せつめいしてください 【5点】

辺でできている形ではないから など



ちようほう けい せい ほう けい
この長方形をいくつかつかって正方形をつくるとすると、
ちようほう けい なん せい ほう けい いっぺん なん
この長方形は何こひつようで、できる正方形の1辺は何cm
ちようほう けい かず
ですか。でも つかえる長方形の数は、20こまでです。

【5点】

こた
答え

正方形の1辺は15cmで、長方形は15こひつよう

2年生

算数ドリル

学力テスト③-3

時間 10分

年 組 名前

点数

クリア40点

/ 48点



大きな数でも、どれだけ数がふえているか、
どれだけ数がへっているか、おちついて数えよう



1 計算をしよう(ひっ算) 【1問3点】

$$\begin{array}{r} (1) \quad 1562 \\ + 2837 \\ \hline 4399 \end{array}$$

$$\begin{array}{r} (2) \quad 2278 \\ + 3435 \\ \hline 5713 \end{array}$$

$$\begin{array}{r} (3) \quad 1866 \\ + 2789 \\ \hline 4655 \end{array}$$

$$\begin{array}{r} (4) \quad 5708 \\ + 2603 \\ \hline 8311 \end{array}$$

$$\begin{array}{r} (5) \quad 5837 \\ - 3635 \\ \hline 2202 \end{array}$$

$$\begin{array}{r} (6) \quad 4503 \\ - 1185 \\ \hline 3318 \end{array}$$

$$\begin{array}{r} (7) \quad 6291 \\ - 4867 \\ \hline 1424 \end{array}$$

$$\begin{array}{r} (8) \quad 9001 \\ - 7777 \\ \hline 1224 \end{array}$$

2 計算をしよう 【1問2点】

(1) $3 \times 4 = 12$

(2) $4 \times 9 = 36$

(3) $5 \times 8 = 40$

(4) $6 \times 6 = 36$

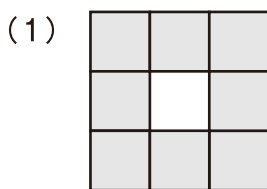
(5) $7 \times 4 = 28$

(6) $7 \times 7 = 49$


(7) $8 \times 8 = 64$

(8) $9 \times 7 = 63$

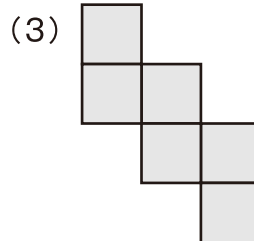
3 下の図は、それぞれ何この で、できていますか 【1つ2点】



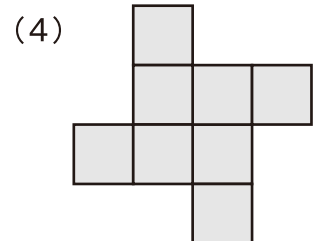
4こ



6こ



3こ



4こ