

2年生

算数ドリル

学力テスト④-1

時間 10分

年 組 名前

点数

クリア 35点

/ 45点

しろい べあ のすけ
白井 ペア之助
 $\frac{1}{2}$ は、「1つのものを、2つにわけた分の1こ」だよぶんね

 $\frac{1}{3}$ は、「1つのものを、3つにわけた分の1こ」だよぶんね

 どちらのほうおおが「大きい」かわかる？ そう、 $\frac{1}{2}$ のほうおおが「大きい」よね

1 大きいほうぶん すうの分数を、○でかこもう 【1問3点】

(1) $\frac{1}{5} \cdot \frac{2}{5}$

(2) $\frac{1}{4} \cdot \frac{1}{3}$

(3) $\frac{1}{10} \cdot \frac{1}{5}$

(4) $\frac{7}{9} \cdot 1$

(5) $\frac{6}{8} \cdot \frac{1}{2}$

(6) $\frac{3}{4} \cdot \frac{5}{8}$

2 小さいじゅんじゅんにならべよう 【1問3点】

(1) $\frac{4}{5} \cdot \frac{1}{5} \cdot \frac{3}{5} \cdot 0$

[]

(2) $1 \cdot \frac{1}{8} \cdot \frac{1}{3} \cdot \frac{1}{5} \cdot \frac{1}{7}$

[]

(3) $\frac{7}{8} \cdot \frac{2}{3} \cdot \frac{5}{6} \cdot 1 \cdot \frac{6}{7}$

[]

3 にはいるかず数をかこう 【1問3点】

(1) $\frac{1}{2}$ 時間 = 分

(2) $\frac{1}{6}$ 時間 = 分

(3) $\frac{1}{5}$ m = cm

(4) $\frac{1}{100}$ m = cm

(5) $\frac{2}{4}$ m = cm

(6) $\frac{4}{8}$ m = cm

年 組 名前

点数

クリア40点

/ 50点



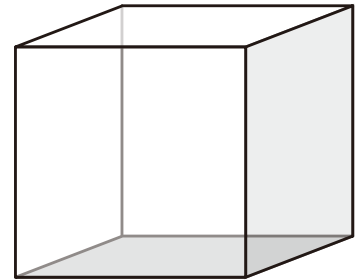
はこの形の、平らなところが「面（めん）」
 面をつくっている、まっすぐな線（直線）が「辺（へん）」
 3本の辺がくっついている点が、「ちょう点（ちょうてん）」だよ

1 にはいる数をかこう 【1問5点】

(1) はこの形には、 つの面があります。

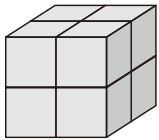
(2) はこの形には、 つのちょう点があります。

(3) はこの形には、 本の辺があります。

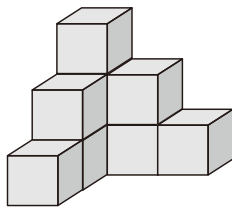


2 サイコロの形のはこをつみあげて、形をつくりました。
 それぞれ、何このはこをつかっていますか 【1問5点】

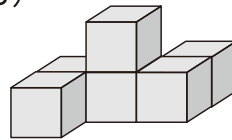
(1)



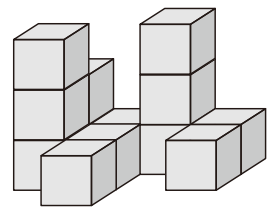
(2)



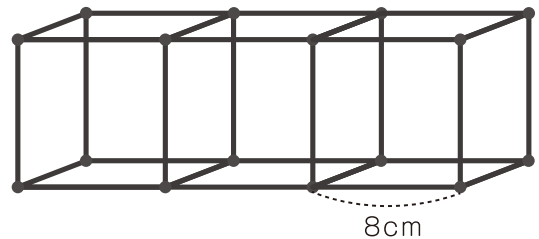
(3)



(4)



3 1本 8cmのぼうをいくつかつかって、
 右の図のような形をつくりました。
 この形について、かんがえよう 【1問5点】



(1) この形には、ちょう点が こあります。

(2) この形には、8cmの辺が 本あります。

(3) 辺の長さをすべてたすと、 m cm になります。

2年生

算数ドリル

学力テスト④-3

時間 10分

年 組 名前

点数

クリア 30点

/ 40点

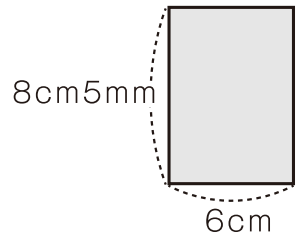


大きな数でも、どれだけ数がふえているか、
 どれだけ数がへっているか、おちついて数えよう

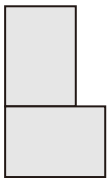


1 右の図のような、たて8cm5mm よこ6cmのカードが、
 何まいかあります。

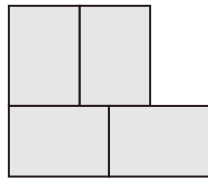
カードをいろいろな形にならべました。それぞれの形の
 まわりの長さは、何cmですか【1問10点】



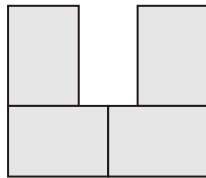
(1)



(2)



(3)



(4)



ここに かいたり けしたりして、かんがえてみよう



カード1まいのまわりの長さは、 $(8\text{cm}5\text{mm}+6\text{cm})\times 2=29\text{cm}$