

3年生

算数ドリル

文章問題①-1

時間 10分

年 組 名前


点数

クリア40点

/ 50点



ぶん しょう もん だい  
文章問題は、「何が書いてあるか」や「答の  
たん い かんが  
単位が何になるのか」をしっかりと考えて、  
わからぬときは図をかいてやっていこう



- 1 68このミカンひとりを1人に8こずつくばっていくと、  
何人にくばれて何こあまりますか 【10点】

式

答え

- 2 3Lのジュースを1日400mLのずつ飲んでいくと、ジュースは何日目に  
なくなって、さいご最後の日に飲めるジュースは の何mLですか 【10点】

式

答え

- 3 65人がのれるバスが、18台あります。ぜんぶ全部で、何人までのれますか 【10点】

式

答え

- 4 なわとび200回を1年間(365日)つつ続けると、  
ぜんぶ全部で何回とんだことになりですか。かんすうじ漢数字で答えましょう 【10点】

式

答え

- 5 1つ555円のケーキを、55こか買いました。ぜんぶ全部でいくらになりますか 【10点】

式


答え

年 組 名前

点数

クリア 20点

/ 30点



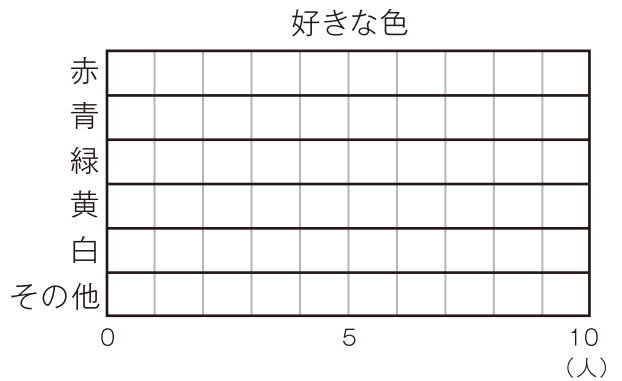
「表」は「文字」や「数字」。  
 「グラフ」は「図」になっているものだよ  
 「表」と「グラフ」について考えよう



1 3年1組のみんなの、好きな色について  
 しらべました。【10点】

その結果の表を、グラフにしましょう

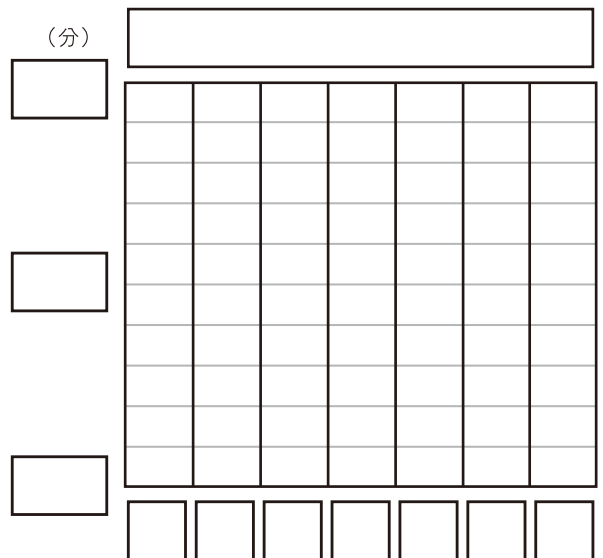
好きな色	赤	青	緑	黄	白	その他
人数	8	6	4	3	2	9



2 コウスケくんがサッカーの練習をした  
 時間についてしらべました。【10点】

その結果の表を、グラフにしましょう

曜日	月	火	水	木	金	土	日
時間(分)	30	40	20	40	50	70	90



3 3年1組の32人の、好きな動物についてしらべました。犬が好きな人は11人、  
 猫が好きな人は8人、馬が好きな人が2人、ハムスターが好きな人が3人、  
 フェレットが好きな人が1人、好きな動物はいない人が4人でした。  
 そしてのこりの人は、キリンが好きな人でした。

キリンが好きな人の数は、何を好きな人の数と同じですか 【10点】

答え

3年生

算数ドリル

文章問題①-3

時間 10分

年 組 名前

点数

クリア40点

/ 50点



「かけ算」や「わり算」のしきは、「答え」になるものが先だよ。  
 「300円を5人でわけたら、1人いくらになる？」なら「答え」は  
 「円」だから、しきは「300円÷5人」の「300÷5」になるんだ。

1 1つの箱に、ボールを8こずつ入れていきます。

300このボールを全部入れるには、箱は何こあればいいですか 【10点】

式

答え

2 1つ285gのリンゴを26こを箱に入れ重さをはかると、7kg770gでした。

箱だけの重さは、何gですか 【10点】

式

答え

3 あるルールで、数字をならべていきました。

に入る数を書こう 【1つ5点】

(1) 6 →  → 24 →  (2) 1 →  → 9 →  → 25

(3) 256 →  → 64 →  (4) 4 →  → 18 →  → 32

(5) 1 →  → 27 →  → 125 →  → 343 →

(6) 16384 →  → 1024 →  → 64 →  → 4