

3年生

算数ドリル

文章問題①-1

時間 10分

年 組 名前

点数

クリア40点

/ 50点



ぶん しょう もん だい
文章問題は、「何が書いてあるか」や「答の
たん い かんが
単位が何になるのか」をしっかり考えて、
わからないときには図をかいてやっていこう



みそら

- 1 68このミカンひとりを1人に8こずつくばっていくと、
何人にくばれて何こあまりますか 【10点】

8人にくばれ

式 $68 \div 8 = 8 \text{あまり} 4$

答え 4こあまる

- 2 3Lのジュースを1日400mLのずつ飲んでいくと、ジュースは何日目になくなって、さいご最後の日にの飲めるジュースは何mLですか 【10点】

八日目になくなり

式 $3000 \div 400 = 7 \text{あまり} 200$

答え 最後の日は200mL

- 3 65人がのれるバスが、18台あります。ぜんぶ全部で、何人までのれますか 【10点】

式 $65 \times 18 = 1170$

答え 1170人

- 4 なわとび200回を1年間(365日)つつ続けると、
ぜんぶ全部で何回とんだことになりますか。かんすうじ漢数字で答えましょう 【10点】

式 $200 \times 365 = 73000$

答え 七万三千

- 5 1つ555円のケーキを、55かこ買いました。ぜんぶ全部でいくらになりますか 【10点】

式 $555 \times 55 = 30525$

答え 30525円

3年生

算数ドリル

文章問題①-2

時間 10分

年 組 名前

点数

クリア 20点

30点



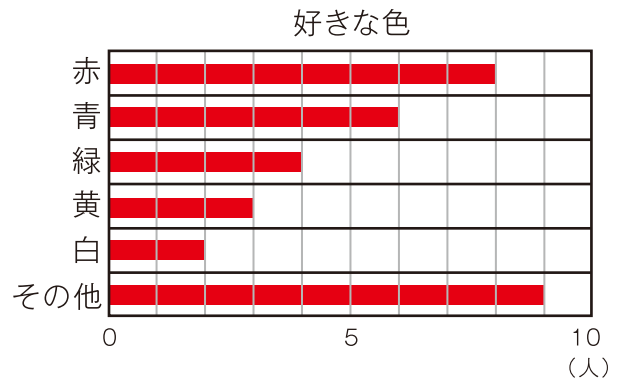
「表」は「文字」や「数字」。
 「グラフ」は「図」になっているものだよ
 「表」と「グラフ」について考えよう



1 3年1組のみんなの、好きな色について
 しらべました。【10点】

その結果の表を、グラフにしましょう

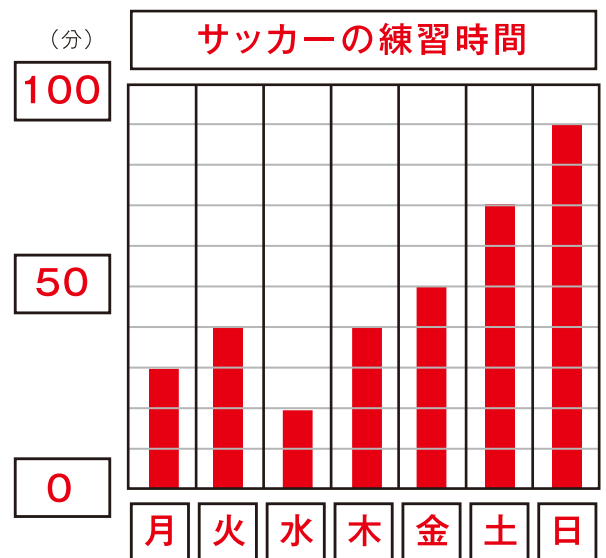
好きな色	赤	青	緑	黄	白	その他
人数	8	6	4	3	2	9



2 コウスケくんがサッカーの練習をした
 時間についてしらべました。【10点】

その結果の表を、グラフにしましょう

曜日	月	火	水	木	金	土	日
時間(分)	30	40	20	40	50	70	90



3 3年1組の32人の、好きな動物についてしらべました。犬が好きな人は11人、
 猫が好きな人は8人、馬が好きな人が2人、ハムスターが好きな人が3人、
 フェレットが好きな人が1人、好きな動物はいない人が4人でした。
 そしてのこりの人は、キリンが好きな人でした。

キリンが好きな人の数は、何を好きな人の数と同じですか 【10点】

答え **ハムスター**

3年生

算数ドリル

文章問題①-3


時間 10分

年 組 名前

点数

クリア40点

/ 50点



「かけ算」や「わり算」のしきは、「答え」になるものが先だよ。
 「300円を5人でわけたら、1人いくらになる？」なら「答え」は
 「円」だから、しきは「300円÷5人」の「300÷5」になるんだ。

1 1つの箱に、ボールを8こずつ入れていきます。

300このボールを全部入れるには、箱は何こあればいいですか 【10点】

$$300 \div 8 = 37 \text{ 残り } 4$$

式 $37 + 1 = 38$

答え 38こ

2 1つ285gのリンゴを26こを箱に入れ重さをはかると、7kg770gでした。

箱だけの重さは、何gですか 【10点】

$$285 \times 26 = 7410$$

式 $7770 - 7410 = 360$

答え 360g

3 あるルールで、数字をならべていきました。

に入る数を書こう 【1つ5点】

2倍

(1) 6 → → 24 →

($a \times a \times 1 \times 1 \rightarrow 2 \times 2 \rightarrow \dots$)

(2) 1 → → 9 → → 25

2分の1

(3) 256 → → 64 →

(前の数+7.....)

(4) 4 → → 18 → → 32

($a \times a \times a \times 1 \times 1 \times 1 \rightarrow 2 \times 2 \times 2 \rightarrow \dots$)

(5) 1 → → 27 → → 125 → → 343 →

(4分の1)

(6) 16384 → → 1024 → → 64 → → 4