

3年生

算数ドリル

学力テスト①-1

時間 10分

年 組 名前

点数

クリア40点

/ 50点



3年生の算数は、ちゃんとわかってるかな？  
どれだけわかっているか、たしかめよう



### 1 計算をしよう 【1問2点】

(1)  $41 + 86 =$

(2)  $273 + 77 =$

(3)  $315 - 70 =$

(4)  $415 - 238 =$

(5)  $633 - 271 =$

(6)  $4 \times 7 =$

(7)  $9 \times 7 =$

(8)  $7 \times 8 + 5 =$

(9)  $6 \times 9 - 8 =$

(10)  $21 \div 3 =$

(11)  $56 \div 7 =$

(12)  $32 \div 4 - 2 =$

(13)  $63 \div 9 + 5 =$

(14)  $(115 - 51) \div 8 =$

(15)  $3500 \div 70 =$

### 2 に入る数を書こう 【1問2点】

(1)  $17 + \square + 15 = 55$

(2)  $61 - \square + 37 = 80$

(3)  $(21 + \square) \times 3 = 183$

(4)  $(\square - 16) \div 7 = 12$

(5)  $111 \text{分} = \square \text{時間} \square \text{分}$

(6)  $200 \text{時間} = \square \text{日} \square \text{時間}$

### 3 に入る数を書こう 【1問2点】

$$\begin{array}{r} 1 \square 4 \\ + 43 \square \\ \hline \square 30 \end{array}$$

$$\begin{array}{r} \square 21 \\ - 17 \square \\ \hline 1 \square 6 \end{array}$$

$$\begin{array}{r} 4 \square 7 \\ + \square 8 \square \\ \hline 863 \end{array}$$

$$\begin{array}{r} 911 \\ - \square \square \square \\ \hline 712 \end{array}$$

3年生

算数ドリル

学カテスト①-2

時間 10分

年 組 名前

点数

クリア40点

/ 50点



1mは何cm? 1日は何時間? 1Lは何mL?  
「たん い単位たい せつ」は大切だよ。しっかりおぼえたかな

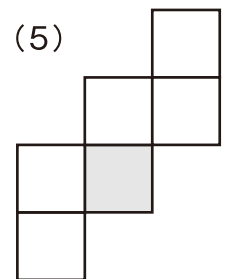
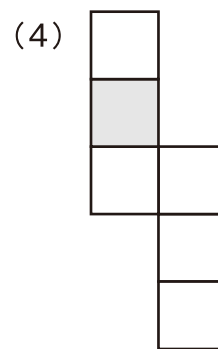
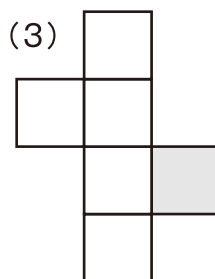
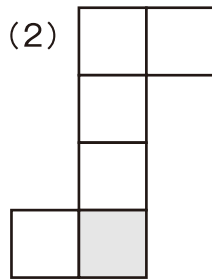
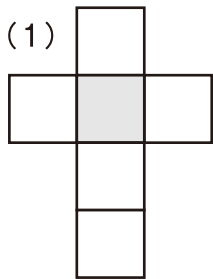


ガンパツてにゃ

**1** はこ かたち箱の形ついて、 に入る なまえ名前を書こう 【10点】

箱の形には、8つの  と、6つの  と、12本の  があります

**2** く た組み立てると、 と む向かい合う面は あ めんどれですか。その面めんに○をつけよう 【1問4点】



**3**  にはいる すうじ数字をかこう 【1問2点】

(1) 321分 =  時間  分

(2) 2km450m =  m

(3) 45dL =  L  mL

(4) 5日 =  時間

(5) 654300cm =  km  m

(6)  $\frac{1}{5}$  L =  mL

(7) 1日 =  分

(8) 3時間 =  秒

(9) 0.03m =  cm

(10)  $\frac{23}{100}$  L =  mL

3年生

算数ドリル

学カテスト①-3

時間 10分

年 組 名前

点数

クリア40点

/ 50点



$\frac{1}{3}$  は、「1つのものを、3つにわけた分の、1こ」だよぶんね

$\frac{1}{8}$  は、「1つのものを、8つにわけた分の、1こ」だよぶんね

どっちのほうが「大きい」かわかる？ そう、 $\frac{1}{3}$  の方が「大きい」よね

1  に入る 名前なまえを書こう 【1問5点】

(1)  $\frac{1}{5} \cdot \frac{1}{3} \cdot \frac{1}{2}$  このようなものを  といいます

(2)  $\frac{1}{7}$  この下の数字「7」を  といいます

(3)  $\frac{5}{7}$  この上の数字「5」を  といいます

2 いちばんちい小さいものを、○でかこもう 【1問5点】

(1)  $\frac{2}{7} \cdot \frac{2}{8} \cdot \frac{2}{9} \cdot \frac{2}{10}$  (2)  $\frac{4}{5} \cdot \frac{5}{6} \cdot \frac{6}{7} \cdot 1$

3  に「=」「<」「>」を書いて、大きさをくらべよう 【1問5点】

(1)  $\frac{4}{7}$    $\frac{4}{8}$  (2)  $\frac{2}{20}$    $\frac{2}{10}$  (3)  $\frac{8}{8}$    $\frac{3}{3}$

4 2kmのマラソンをしています。今ちょうど、 $\frac{1}{2}$  を走りはしおわりました。  
のこりは、あと何mですか 【10点】

式

答え

3年生

算数ドリル

学力テスト①-4


時間 10分

年 組 名前

点数

クリア40点

/ 50点



3年生では、学校でいろんなことを教わったよね  
4年生では、どんなことを教えてもらえるんだろう  
今から楽しみだね



1  に入る <sup>な まえ かず</sup>名前や数を書こう 【1問4点】

(1) 1.8 や 0.2 このような数を  といいます

(2) 0.3 や 5.5 このような数をに「.」を  といいます

(3) 0.7 は 1 を  こにわけた分の  つです

(4) 6.4 は 8 を  こにわけた分の  つです

2 <sup>けいさん</sup>計算をしよう 【1問3点】

(1)  $0.7 + 0.5 =$  (2)  $4.1 - 1.8 =$  (3)  $0.12 + 1.6 =$

(4)  $5.7 + 8.1 - 6.6 =$  (5)  $8.5 - 1.7 - 4.6 + 1.01 =$

3 1時間で9km進む<sup>すす</sup>速さだと、25分で何km何m<sup>すす</sup>進めますか 【5点】

式

答え

4 5mのテープから0.16mのテープを30本作ると、テープは何mのこりですか 【5点】

式

答え