

3年生

算数ドリル

学力テスト①-1

時間 10分

年 組 名前

点数

クリア40点

/ 50点



3年生の算数は、ちゃんとわかってるかな？
どれだけわかっているか、たしかめよう



1 計算をしよう 【1問2点】

- (1) $41 + 86 = 127$ (2) $273 + 77 = 350$ (3) $315 - 70 = 245$
 (4) $415 - 238 = 177$ (5) $633 - 271 = 362$ (6) $4 \times 7 = 28$
 (7) $9 \times 7 = 63$ (8) $7 \times 8 + 5 = 61$ (9) $6 \times 9 - 8 = 46$
 (10) $21 \div 3 = 7$ (11) $56 \div 7 = 8$ (12) $32 \div 4 - 2 = 6$
 (13) $63 \div 9 + 5 = 12$ (14) $(115 - 51) \div 8 = 8$ (15) $3500 \div 70 = 50$

2 に入る数を書こう 【1問2点】

- (1) $17 + \boxed{23} + 15 = 55$ (2) $61 - \boxed{18} + 37 = 80$
 (3) $(21 + \boxed{40}) \times 3 = 183$ (4) $(\boxed{100} - 16) \div 7 = 12$
 (5) $111 \text{分} = \boxed{1} \text{時間} \boxed{51} \text{分}$ (6) $200 \text{時間} = \boxed{8} \text{日} \boxed{8} \text{時間}$

3 に入る数を書こう 【1問2点】

- (1)
$$\begin{array}{r} 1 \ \boxed{9} \ 4 \\ + 4 \ 3 \ \boxed{6} \\ \hline \boxed{6} \ 3 \ 0 \end{array}$$
 (2)
$$\begin{array}{r} \boxed{3} \ 2 \ 1 \\ - 1 \ 7 \ \boxed{5} \\ \hline 1 \ \boxed{4} \ 6 \end{array}$$
 (3)
$$\begin{array}{r} 4 \ \boxed{7} \ 7 \\ + \boxed{3} \ 8 \ \boxed{6} \\ \hline 8 \ 6 \ 3 \end{array}$$
 (4)
$$\begin{array}{r} 9 \ 1 \ 1 \\ - \boxed{1} \ \boxed{9} \ \boxed{9} \\ \hline 7 \ 1 \ 2 \end{array}$$

3年生

算数ドリル

学カテスト①-2

時間 10分

年 組 名前

点数

クリア40点

/ 50点



1mは何cm? 1日は何時間? 1Lは何mL?
「たん い単位たい せつ」は大切だよ。しっかりおぼえたかな

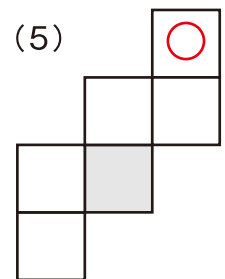
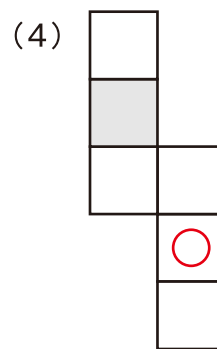
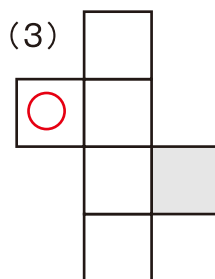
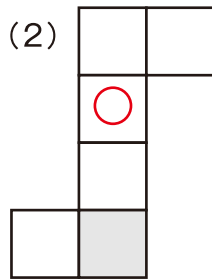
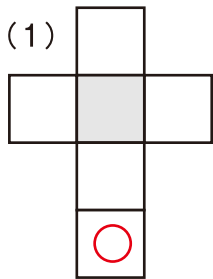


ガンパツてにゃ

1 はこ かたち箱の形ついて、 な まえに入る名前を書こう 【10点】

箱の形には、8つの と、6つの と、12本の があります

2 く た組み立てると、 と む向かい合う面はどれですか。その面めんに○をつけよう 【1問4点】



3 にはいる数字をかこう 【1問2点】

(1) 321分 = 時間 分

(2) 2km450m = m

(3) 45dL = L mL

(4) 5日 = 時間

(5) 654300cm = km m

(6) $\frac{1}{5}$ L = mL

(7) 1日 = 分

(8) 3時間 = 秒

(9) 0.03m = cm

(10) $\frac{23}{100}$ L = mL

3年生

算数ドリル

学力テスト①-3

時間 10分

年 組 名前

点数

クリア40点

/ 50点



$\frac{1}{3}$ は、「1つのものを、3つにわけた分の、1こ」だよぶんね

$\frac{1}{8}$ は、「1つのものを、8つにわけた分の、1こ」だよぶんね

どっちのほうが「大きい」かわかる？ そう、 $\frac{1}{3}$ の方が「大きい」よね

1 に入る なまえ 名前を書こう 【1問5点】

(1) $\frac{1}{5} \cdot \frac{1}{3} \cdot \frac{1}{2}$ このようなものを **分数** といいます

(2) $\frac{1}{7}$ この下の数字「7」を **分母** といいます

(3) $\frac{5}{7}$ この上の数字「5」を **分子** といいます

2 いちばんちい小さいものを、○でかこもう 【1問5点】

(1) $\frac{2}{7} \cdot \frac{2}{8} \cdot \frac{2}{9} \cdot \frac{2}{10}$ (2) $\frac{4}{5} \cdot \frac{5}{6} \cdot \frac{6}{7} \cdot 1$

3 に「=」「<」「>」を書いて、大きさをくらべよう 【1問5点】

(1) $\frac{4}{7} > \frac{4}{8}$ (2) $\frac{2}{20} < \frac{2}{10}$ (3) $\frac{8}{8} = \frac{3}{3}$

4 2kmのマラソンをしています。今ちょうど、 $\frac{1}{2}$ を走りおわりました。
のこりは、あと何mですか 【10点】

$$1 - \frac{1}{2} = \frac{1}{2}$$

2km の $\frac{1}{2}$ は 1km

式

答え

1000m

3年生

算数ドリル

学カテスト①-4


時間 10分

年 組 名前

点数

クリア40点

/ 50点



3年生では、学校でいろんなことを教わったよね
4年生では、どんなことを教えてもらえるんだろう
今から楽しみだね



1 に入る ^{な まえ かず}名前や数を書こう 【1問4点】

(1) 1.8 や 0.2 このような数を **小数** といいます

(2) 0.3 や 5.5 このような数に「.」を **小数点** といいます

(3) 0.7 は 1 を **10** こにわけた分の **7** つです

(4) 6.4 は 8 を **10** こにわけた分の **8** つです

2 ^{けいさん}計算をしよう 【1問3点】

(1) $0.7 + 0.5 = 1.2$ (2) $4.1 - 1.8 = 2.3$ (3) $0.12 + 1.6 = 1.72$

(4) $5.7 + 8.1 - 6.6 = 7.2$ (5) $8.5 - 1.7 - 4.6 + 1.01 = 3.21$

3 1時間で9km進む^{すす}速さだと、25分で何km何m^{すす}進めますか 【5点】

$$9000 \div 60 = 150$$

式 $150 \times 25 = 3750$

答え **3km750m**

4 5mのテープから0.16mのテープを30本作ると、テープは何mのこりですか 【5点】

$$0.16\text{m} = 16\text{cm} \quad 16 \times 30 = 480$$

式 $500 - 480 = 20$ $20\text{cm} = 0.2\text{m}$

答え **0.2m**