

3年生

算数ドリル

学力テスト②-1


時間 10分

年 組 名前

点数

クリア40点

/ 50点



3年生の算数は、ちゃんとわかってるかな？
どれだけわかっているか、たしかめよう



1 計算をしよう 【1問2点】

- (1) $8 \times 8 - 8 = 56$ (2) $11 + 7 \times 4 = 39$ (3) $70 - 9 \times 6 = 16$
 (4) $5 \times 6 \times 7 = 210$ (5) $4 \times 12 \times 5 = 240$ (6) $72 \div 8 = 9$
 (7) $63 \div 9 - 3 = 4$ (8) $20 \div 2 - 5 = 5$ (9) $9 \times 4 \div 6 = 6$
 (10) $(22 + 33) \times 9 = 495$ (11) $(64 + 81) \div 5 = 29$ (12) $90 \div (5 \times 9) = 2$

2 かけ算(ひっ算)をしよう 【1問3点】

- (1)
$$\begin{array}{r} 45 \\ \times 5 \\ \hline 225 \end{array}$$
 (2)
$$\begin{array}{r} 64 \\ \times 70 \\ \hline 4480 \end{array}$$
 (5)
$$\begin{array}{r} 162 \\ \times 8 \\ \hline 1296 \end{array}$$
 (6)
$$\begin{array}{r} 729 \\ \times 7 \\ \hline 5103 \end{array}$$

3 538円のお弁当と132円のお茶を、それぞれ5つずつ買いました。

5000円札でお金をはらうと、おつりはいくらですか 【7点】

$$(538 + 132) \times 5 = 3350$$

式 $5000 - 3350 = 1650$

答え 1650円

4 運動場に3mの間を開けて、はたを立てていきました。

1つ目の はたから、さい後の はたまでの長さは、45mでした。

運動場に立てた はたは、全部で何本ですか 【7点】

式 $45 \div 3 + 1 = 16$

答え 16本

3年生

算数ドリル

学力テスト②-2


時間 10分

年 組 名前

点数

クリア40点

/ 50点



1gは何mg? 1時間は何秒? 1Lは何mL?
「単位」は大切だよ。しっかりおぼえたかな



1 に入る数字を書こう 【1問3点】

(1) 3日と8時間 = 時間

(2) 7kg50g = g

(3) 3L の $\frac{3}{10}$ = dL

(4) 10km の $\frac{2}{5}$ = km

(5) 54000秒 = 時間

(6) 100000kg = t

(7) $\frac{1}{10}$ 時間 = 秒

(8) 8時間の $\frac{2}{5}$ = 分

(9) 11分 = $\frac{\text{input type="text" value="11"}}{60}$ 時間

(10) 12分 = $\frac{\text{input type="text" value="1}}{5}$ 時間

2 48このボールを1回に4こずつ運んだら、全部運ぶのには何回かかりますか。

運ぶ回数を とした「かけ算を使った式」を書いて、 に入る数も書こう

【10点】

式 $4 \times \text{input type="text" value="12"} = 48$

の数 12(回)

3 1つの箱に6こずつのケーキを入れていくと、ケーキの入った箱が27こ
できました。でもまだ、ケーキは3このこっています。全部のケーキの数を

とした「わり算を使った式」を書いて、 に入る数も書こう 【10点】

式 $\text{input type="text" value="165"} \div 6 = 27 \text{ あまり } 3$

の数 165(こ)

年 組 名前

点数

クリア40点

/ 50点

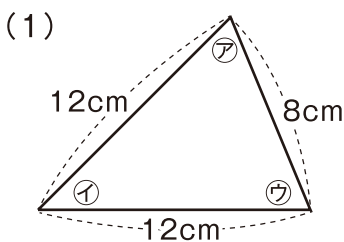


さん かく けい
三角形は「3つの辺(へん)」と「3つの
ちよう点(ちようてん)」で できている
かたち へん せん
形だよ。「辺」は、まっすぐな線なんだ。

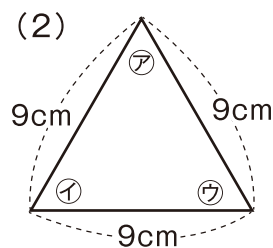


辺はまっすぐな
線なのにや

1 ア イ ウ の角のうち、同じ大きさの角(同じ角度)のものをえらぼう 【1問5点】



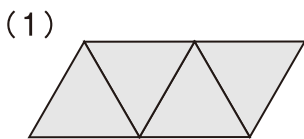
答え ア ウ



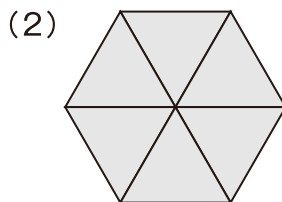
答え ア イ ウ

2 1つの辺が3cmの正三角形を使って、いろいろな形を作りました。

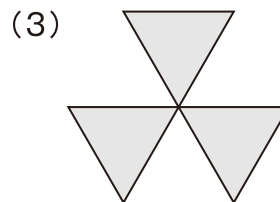
それぞれの形の周りの長さは、何cmですか 【1問5点】



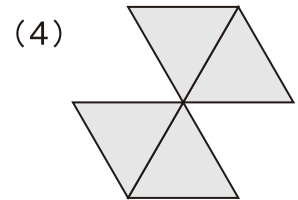
答え 18cm



答え 18cm



答え 27cm



答え 24cm

3 丸い池の周りには池を1周するように、3.5mの同じ間かくで
16本の木が植えてあります。この池の周りの長さは、何mですか 【10点】

式 $16 \times 3.5 = 56$

答え 56m

4 ビーズを53mmの間かくで、まっすぐに100こならべました。
1つ目のビーズから100こ目のビーズまでの長さは、何mですか 【10点】

式 $53 \times (100 - 1) = 5247$

答え 5.247m

3年生

算数ドリル

学カテスト②-4


時間 10分

年 組 名前

点数

クリア40点

/ 50点



「かけ算」と「わり算」の「ひっ算」だよ。
「ひっ算」ができると、むずかしい計算でも
まちがわなくてできるよね



1 かけ算(ひっ算)をしよう [1問5点]

(1)	$\begin{array}{r} 76 \\ \times 8 \\ \hline 608 \end{array}$	(2)	$\begin{array}{r} 93 \\ \times 60 \\ \hline 5580 \end{array}$	(3)	$\begin{array}{r} 245 \\ \times 5 \\ \hline 1225 \end{array}$	(4)	$\begin{array}{r} 473 \\ \times 7 \\ \hline 3311 \end{array}$
-----	---	-----	---	-----	---	-----	---

2 わり算(ひっ算)をしよう [1問5点]

(1)	$\begin{array}{r} 187 \\ 2 \overline{)375} \\ \underline{2} \\ 17 \\ \underline{16} \\ 15 \\ \underline{14} \\ 1 \end{array}$	(2)	$\begin{array}{r} 259 \\ 3 \overline{)777} \\ \underline{6} \\ 17 \\ \underline{15} \\ 27 \\ \underline{27} \\ 0 \end{array}$	(3)	$\begin{array}{r} 135 \\ 6 \overline{)812} \\ \underline{6} \\ 21 \\ \underline{18} \\ 32 \\ \underline{30} \\ 2 \end{array}$	(4)	$\begin{array}{r} 113 \\ 8 \overline{)907} \\ \underline{8} \\ 10 \\ \underline{8} \\ 27 \\ \underline{24} \\ 3 \end{array}$
-----	---	-----	---	-----	---	-----	---

3 ゲンタロウくんは毎日、同じページ数ずつ本を読んで、
128ページの本と187ページの本の2さつを、1週間で読み終わりました
ゲンタロウくんは毎日、何ページずつ本を読みましたか [10点]

式 $(128+187) \div 7=45$

答え 45ページ