

3年生

算数ドリル

学力テスト④-1

時間 10分

年 組 名前

点数

クリア 30点

/ 40点



3年生の算数は、ちゃんとわかってるかな？
どれだけわかっているか、たしかめよう



1 に入る数を書こう 【1問5点】

(1) $8 \times 8 \times 5 = 8 \times$

(2) $7 + 9 \times 7 = 7 \times$

(3) $25 \times 8 - 100 = 10 \times$

(4) $88 - 48 \div 8 = 100 -$

(5) $24 - 3 \times 7 = 5 \times 6 -$

2 ジュースを350mLが入るペットボトルに入れてくと、6本のペットボトルがいっぱいになったところで、ジュースはのこり115mLになりました。
ジュースは全部で、何L何mLありますか。1つの式で書いて、答えを出そう 【5点】

式 $350 \times 6 + 115 = 2215$

答え 2L215mL

3 111枚のカードを7人で同じ数ずつ分けると、6枚あまりました。
1人分のカードは、何枚ですか。1つの式で書いて、答えを出そう 【5点】

式 $(111 - 6) \div 7 = 15$

答え 15枚

4 12ダースのエンピツを、9人で同じ数ずつ分けました。
1人分のエンピツは、何本ですか。1つの式で書いて、答えを出そう 【5点】

式 $12 \times 12 \div 9 = 16$

答え 16本

3年生

算数ドリル

学カテスト④-2

時間 10分

年 組 名前

点数

クリア40点

/ 50点



おも たん い トン キログラム グラム ミリグラム
重さの単位は「t」「kg」「g」「mg」だよ

それぞれ1000倍ずつで、「単位」がかわるだったよね

1 に入る数を書こう 【1問5点】

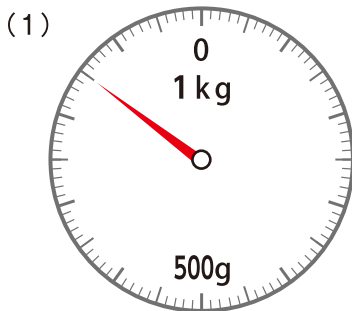
(1) $370\text{g} + 480\text{g} = 850\text{g}$ (2) $750\text{g} + 750\text{g} = 1\text{kg} 500\text{g}$

(3) $9\text{kg} - 6800\text{g} = 2200\text{g}$ (4) $10\text{g} - 8760\text{mg} = 1\text{g} 240\text{mg}$

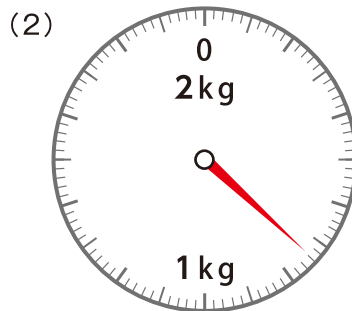
(5) $20\text{kg}350\text{g} - 12\text{kg}900\text{g} = 7450\text{g} = 7\text{kg} 450\text{g}$

(6) $1\text{t} - 970400\text{g} = 29600\text{g} = 29\text{kg} 600\text{g}$

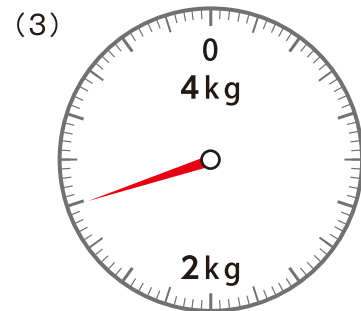
2 おも 重さのところに、はりを書こう 【1問5点】



850g



740g



2kg 800g

3 ボールが6こが入っている箱の重さをはかると、1kg 280gでした。

ボール1この重さを185gだとすると、箱だけの重さは、何gですか 【5点】

式 $1280 - 185 \times 6 = 170$

答え 170g

3年生

算数ドリル

学力テスト④-3

時間 10分

年 組 名前

点数

クリア 30点

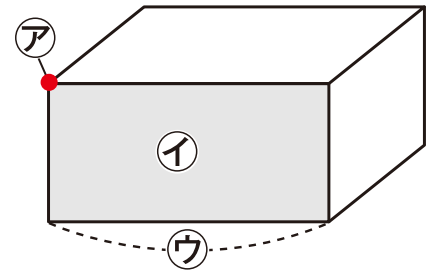
/ 40点



箱の形の、平らなところが「面(めん)」
 面をつくっている、まっすぐな線(直線)が「辺(へん)」
 3本の辺がくっついている点(てん)が、「ちょう点(ちょうてん)」だよ

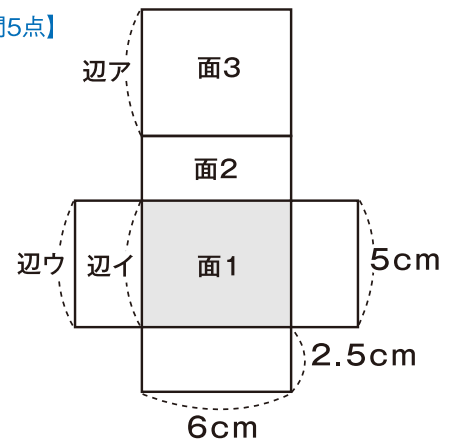
1 箱の形について、に入る名前と数を書こう【1問5点】

- (1) アは といい、 つあります
- (2) イは といい、 つあります
- (3) ウは といい、 本あります



2 右の図のような箱の形について、かんがえよう【1問5点】

- (1) 面1は、・正方形です。
- (2) 面1と面3は、・ちがう大きさです。
- (3) 面2の大きさは、面1の大きさの・2倍です。
- (4) 組み立てた時、辺アと重なるのは 辺イ・です。



3 たて12cm・横7cm・高さ8.5cmの箱の形の辺の長さをすべてたすと、
 何mになりますか【5点】

式 $(12+7+8.5) \times 4 = 110$

答え 1.1m

3年生

算数ドリル

学カテスト④-4


時間 10分

年 組 名前

点数

クリア40点

/ 50点



「かけ算」と「わり算」の「ひっ算」だよ。
「ひっ算」ができると、むずかしい計算でも
まちがわなくてできるよね



1 に数字を入れて、かけ算(ひっ算)を完成させよう【1問5点】

$$\begin{array}{r} 12\boxed{4} \\ \times 3 \\ \hline 372 \end{array}$$

$$\begin{array}{r} 21\boxed{7} \\ \times 6 \\ \hline 1302 \end{array}$$

$$\begin{array}{r} 4\boxed{0}8 \\ \times 7 \\ \hline 2856 \end{array}$$

$$\begin{array}{r} \boxed{6}98 \\ \times 5 \\ \hline 3490 \end{array}$$

2 に数字を入れて、わり算(ひっ算)を完成させよう【1問5点】

$$\begin{array}{r} \boxed{7} \\ 4 \overline{)31} \\ \underline{28} \\ 3 \end{array}$$

$$\begin{array}{r} 6 \\ \boxed{6} \overline{)41} \\ \underline{36} \\ 5 \end{array}$$

$$\begin{array}{r} \boxed{9} \\ 7 \overline{)65} \\ \underline{63} \\ 2 \end{array}$$

$$\begin{array}{r} 8 \\ \boxed{8} \overline{)71} \\ \underline{64} \\ 7 \end{array}$$

3 1分間で850mを走る車は、1時間では何km進みますか【5点】

式 $850 \times 60 = 51000$

答え 51km

4 ちよ金箱の中には、7415円が入っています。

100円玉が21枚、10円玉が363枚、のこりは全部5円玉です。

ちよ金箱に入っている5円玉は、何枚ですか【5点】

$$7515 - 2100 - 3630 = 1685$$

式 $1685 \div 5 = 337$

答え 337枚