

3年生

算数ドリル

学力テスト⑤-1


時間 10分

年 組 名前

点数

クリア 30点

/ 40点



3年生の算数は、ちゃんとわかってるかな？
どれだけわかっているか、たしかめよう



やってみるの
にやっ！

1 に入る数を書こう 【1問5点】

- (1) 午前7時から午後1時15分までは、 時間 分 です。
- (2) 午前10時37分から午後8時18分までは、 時間 分 です。
- (3) 午後9時46分は午前3時32分の、 時間 分 あとです。

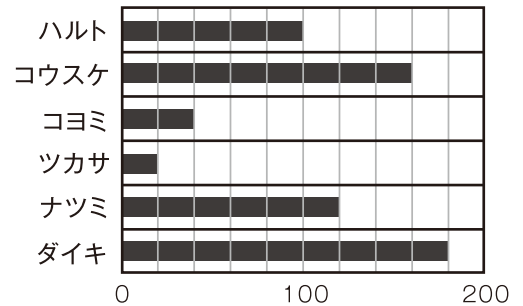
2 なわとびをした回数についてしらべ、
その結果をグラフにしました。

(1) グラフの1目もりは、何回を表していますか
答え _____ 【5点】

(2) 1番多くとんだのは誰で、何回ですか 【5点】
答え _____

(3) このグラフを、表にしてみよう 【10点】

なわとびをした回数



なわとびの結果

とんだ人						
とんだ回数						

(4) 全員がとんだ数を合わせると、何回になりますか 【5点】
答え _____

3年生

算数ドリル

学力テスト⑤-2


時間 10分

年 組 名前

点数

クリア40点

/ 50点



「かけ算」の「ひっ算」だよ。
 「ひっ算」ができると、むずかしい計算でも
 まちがわないでできるよね



1 かけ算(ひっ算)をしよう 【1問5点】

(1)
$$\begin{array}{r} 17 \\ \times 14 \\ \hline \\ \hline \end{array}$$

(2)
$$\begin{array}{r} 26 \\ \times 32 \\ \hline \\ \hline \end{array}$$

(3)
$$\begin{array}{r} 252 \\ \times 23 \\ \hline \\ \hline \end{array}$$

(4)
$$\begin{array}{r} 409 \\ \times 38 \\ \hline \\ \hline \end{array}$$

2 かけ算(ひっ算)をしよう 【1問5点】

(1) 315×48

×				
<hr/>				
<hr/>				
<hr/>				

(2) 742×73

×				
<hr/>				
<hr/>				
<hr/>				

(3) 68×246

×				
<hr/>				
<hr/>				
<hr/>				

(4) 73×987

×				
<hr/>				
<hr/>				
<hr/>				

3 186このおはじきを、3cm^あ2mm^{あいだ}の間を開けて、まっすぐにならべました。
 さいしょのおはじきから、さいごのおはじきまでの長さ^{なが}は、何mですか 【10点】

式

答え

3年生

算数ドリル

学カテスト⑤-3

時間 10分

年 組 名前

点数

クリア40点

/ 50点

しろい べあ の すけ
白井 ペア之助

式は、「答え」になるものを、先に書くんだ。

「34人のクラスが3つで何人？」なら、「答え」は「人」だよ。だから式は「 $34 \times 3 = 102$ 」、答えは「102人」になるんだよ。

1 に入る数をかこう 【1問5点】

(1) $28 + \square + 31 = 87$

(2) $71 - \square = 100 - 68$

(3) $24 + \square \times 7 = 73$

(4) $63 - \square \times 12 = 72 - 45$

(5) $14 \times \square - 22 = 90$

(6) $72 \div \square \times 4 = 32$

(7) $\square - 54 \div 6 = 10$

(8) $\square \div 8 \times 5 = 100$

2 なんまい 何枚かのカードを7人で同じ数ずつ分けると、1人74枚ずつで3枚あまりました。

すべ 全てのカードの数を とした「わり算」の式を書いて、

に入る数も書こう 【5点】

式

 の数

3 だい きん いちまんえんさつ ノート8さつの代金を1万円札ではらうと、おつりは9040円でした。

だい きん ノート1さつの代金を とした「ひき算とかけ算をつかった式」を書いて、

に入る数も書こう 【5点】

式

 の数

3年生

算数ドリル

学力テスト⑤-4

時間 10分

年 組 名前

点数

クリア40点

/ 50点


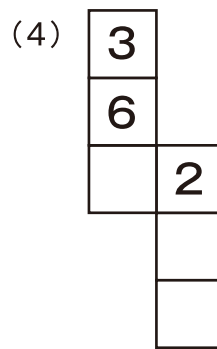





3年生の算数は、もうバッチリだね
たくさんがんばったの、ぼくも、みそらも、
パパやママも、みんなが見てたよ



- 1 下の図を組み立てると、サイコロの形になるよ。そしてサイコロは、向かい合う面の数をたすと、かならず「7」になるんだ。

あいている に数字を書いて、サイコロを完成させよう 【1問5点】



- 2 計算をしよう 【1問5点】

(1) $5 + 1.7 + 3.8 =$

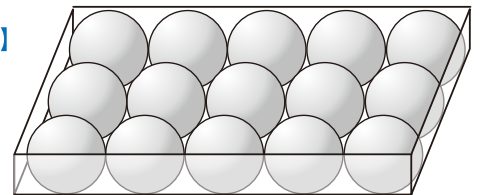
(2) $0.8 + 2.3 - 1.6 =$

(3) $0.8 + \frac{1}{10} + 1.2 =$

(4) $1 - \frac{1}{5} - 0.5 =$

- 3 右の図のように、半径4.6cmのボールが15こ、箱にぴったりと入っています。この箱の辺の長さを全てたすと、何mになりますか

【5点】



式

答え