

2年生

算数ドリル

時間①-2


時間 10分

年 組 名前

点数

クリア40点

/ 50点



と けい
「時計のみかた」のれんしゅうだよ
なが みじか
長いはりと短いはりをよくみてね



1 にはいる数字をかこう 【1つ5点】


(1) 1分 は びょう

(2) 1時間 は 分


(3) 1日 は 時間

(4) 1時間 10分 は 分


2 時計のはりは、何時をさしているでしょう 【1つ5点】



2時

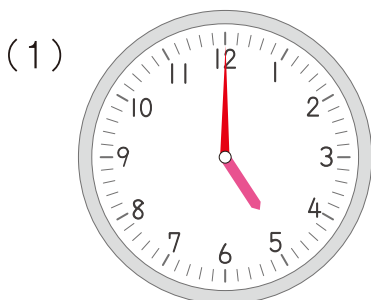


6時30分

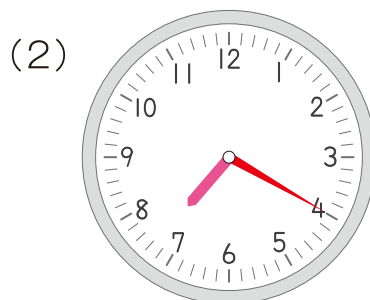


9時45分

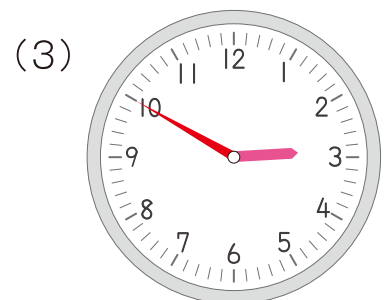
3 時間のところに、時計のはりをかきましょう 【1つ5点】



5時



7時20分



2時50分

2年生

算数ドリル

時間①-3


時間 10分

年 組 名前

点数

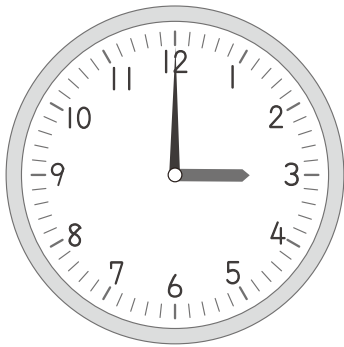
クリア 30点

/ 40点



と けい の なが い は り が 数 字 を 1 つ す す む と、「5 分」た っ た っ て こ と だ よ
 2 つ す す む と「10 分」、3 つ す す む と「15 分」。「1 つ」で「5 分」だ ね

1 何時のことをいっているでしょう 【1つ5点】



(1) 2 時間 たら

5 時


(2) 2 時間 まえ

1 時

(3) 4 時間 まえ

11 時

2 何時のことをいっているでしょう 【1つ5点】



(1) 30 分 たら

6 時 10 分

(2) 40 分 まえ

5 時

(3) 3 時間 まえ

2 時 40 分

3 みそらちゃんは学校へいくのに、7時50分に家をでました。

うさみちゃんが家をでたのは、その15分あとです。

うさみちゃんが家をでたのは、何時何分ですか 【10点】

こた 答え 8 時 5 分

2年生

算数ドリル

時間①-4

時間 10分

年 組 名前

点数

クリア40点

/ 50点



$$\overset{\text{ぶん}}{30 \text{分}} + \overset{\text{ぶん}}{30 \text{分}} = \overset{\text{ぶん}}{60 \text{分}} = \overset{\text{じかん}}{1 \text{時間}}$$

$$\overset{\text{ぶん}}{45 \text{分}} + \overset{\text{ぶん}}{45 \text{分}} = \overset{\text{ぶん}}{90 \text{分}} = \overset{\text{じかん}}{1 \text{時間}} \overset{\text{ぶん}}{30 \text{分}}$$



1 にはいる数字をかこう 【1つ5点】

(1) 2時間は 分 (2) 1時間30分は 分

(3) 1時30分の50分あとは 時 分


(4) 3時15分から4時までは 分

(5) 6時12分の33分あとは 時 分


(6) 4時37分の2時間30分あとは 時 分

(7) 10時45分の1時間45分あとは 時 分


2 時計のはりは、何時をさしているでしょうか 【1つ5点】



2時26分



6時38分



10時57分