

ねん くみ なまえ



ベアのすけ

かずのよみかたは、しってる？

1(いち)、2(に)、3(さん)、4(し)、5(ご)、6(ろく)、
7(しち)、8(はち)、9(きゅう)、10(じゅう) だよね。
じゃあ、「1つ」「2つ」みたいな、かずのかぞえかたは、
なんてよむのか、わかる？













みそら

かずのかぞえ
かたじゃ？

かずのかぞえかた

りんごの かずを、かぞえて みよう

	りんご が 1つ(ひとつ)
	りんご が 2つ(ふたつ)
	りんご が 3つ(みっつ)
	りんご が 4つ(よっつ)
	りんご が 5つ(いつつ)
	りんご が 6つ(むっつ)
	りんご が 7つ(ななつ)
	りんご が 8つ(やっつ)
	りんご が 9つ(ここのつ)
	りんご が 10(とお)



ベアのすけ

1ねんせい	さんすう	かぞえかた-2
なまえ		








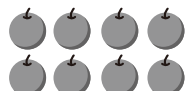


じかん 10ぷん
てんすう / 50点



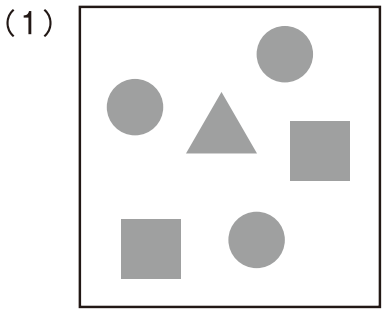
かずのかぞえかたをおぼえよう。
「ひとつ」、「ふたつ」、「みっつ」。
こえをだして、かぞえてみよう。







1 に、ひとつ、ふたつ、みっつのような、かぞえかたをかこう 【1つ3てん】

				
ひとつ	<input type="text"/>	<input type="text"/>	<input type="text"/>	<input type="text"/>
				
<input type="text"/>	<input type="text"/>	<input type="text"/>	<input type="text"/>	<input type="text"/>


2 のなかにある、かたちのかずを、かぞえよう 【1つ2点】



-  が (3) つ
-  が () つ
-  が () つ



-  が () つ
-  が () つ
-  が () つ



-  が () つ
-  が () つ
-  が () つ
-  が () つ

1ねんせい	さんすう	かぞえかた -3
なまえ		

じかん 10ぷん
てんすう / 50点



ベアのすけ

「1つ」より「3つ」おおいかずは、「4つ」。
 「4つ」より「3つ」すくないかずは、「1つ」。
 おおくなったり、すくなくなると、かずは どうかわる？



みぞら

5つは3つより
2つおおいにや

1 きかれている かず を かこう 【1つ5てん】

(1) 2つ より 1つ おおい かずは、いくつですか？

こたえ 3つ

(2) 4つ より 2つ おおい かずは、いくつですか？

こたえ _____

(3) 5つ より 3つ おおい かずは、いくつですか？

こたえ _____

(4) 3つ より 1つ すくない かずは、いくつですか？

こたえ _____

(5) 3つ より 2つ すくない かずは、いくつですか？

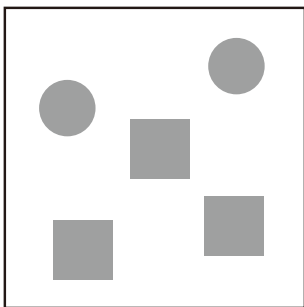
こたえ _____

(6) 7つ より 3つ すくない かずは、いくつですか？

こたえ _____

2 の なかに ある かたちを 5つずつ に するには、
 それぞれ いくつ おおくすれば よいですか 【1つ4点】


(1)



● を (3) つ おおく する

■ を () つ おおく する

(2)



★ を () つ おおく する

♥ を () つ おおく する

♣ を () つ おおく する