

1ねんせい	さんすう	かぞえかた-2
なまえ		











じかん 10ぷん
てんすう / 50点



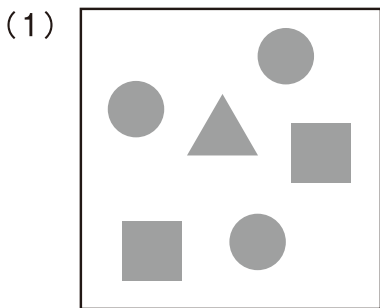
かずの かぞえかた を おぼえよう。
「ひとつ」、「ふたつ」、「みっつ」。
こえ を だして、かぞえて みよう。




1 に、ひとつ、ふたつ、みっつ のような、かぞえかたを かこう 【1つ3てん】

				
ひとつ	ふたつ	みっつ	よっつ	いつつ
				
むっつ	ななつ	やっつ	ここのつ	とお


2 の なかに ある、かたちの かずを、かぞえよう 【1つ2点】



● が (3) つ
■ が (2) つ
▲ が (1) つ



★ が (4) つ
♥ が (3) つ
◆ が (3) つ



🐱 が (6) つ
🌙 が (2) つ
♣ が (4) つ
🐟 が (3) つ

1ねんせい	さんすう	かぞえかた -3
なまえ		

じかん 10ぷん
てんすう / 50点



ベアのすけ

「1つ」より「3つ」おおいかずは、「4つ」。
 「4つ」より「3つ」すくないかずは、「1つ」。
 おおくなったり、すくなくなると、かずは どうかわる？



みぞら

5つは3つより
2つおおいにや

1 きかれている かず を かこう 【1つ5てん】

(1) 2つ より 1つ おおい かずは、いくつですか？

こたえ 3つ

(2) 4つ より 2つ おおい かずは、いくつですか？

こたえ 6つ

(3) 5つ より 3つ おおい かずは、いくつですか？

こたえ 8つ

(4) 3つ より 1つ すくない かずは、いくつですか？

こたえ 2つ

(5) 3つ より 2つ すくない かずは、いくつですか？

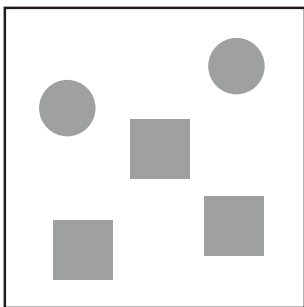
こたえ 1つ

(6) 7つ より 3つ すくない かずは、いくつですか？

こたえ 4つ

2 の なかに ある かたちを 5つずつ に するには、
 それぞれ いくつ おおくすれば よいですか 【1つ4点】


(1)



● を (3) つ おおく する

■ を (2) つ おおく する

(2)



★ を (3) つ おおく する

♥ を (2) つ おおく する

♣ を (4) つ おおく する