

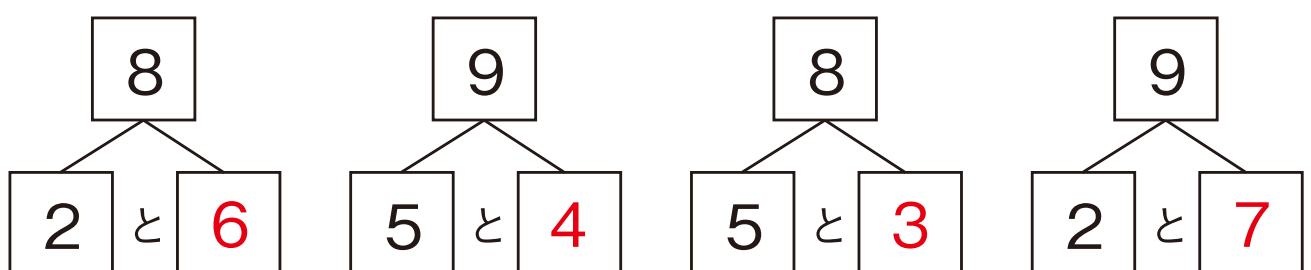
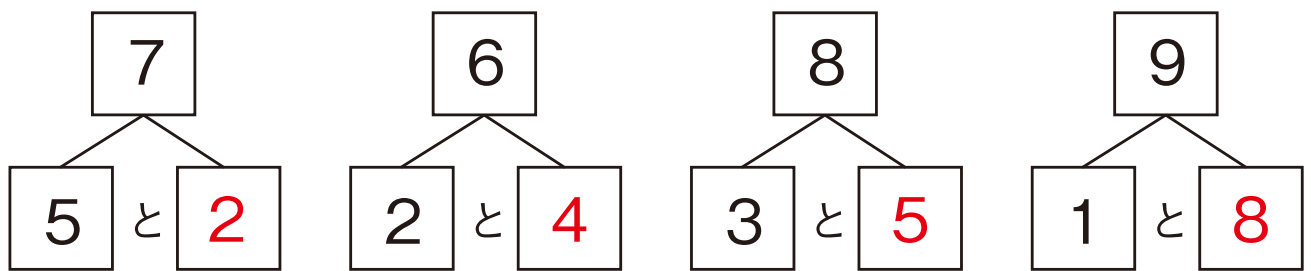
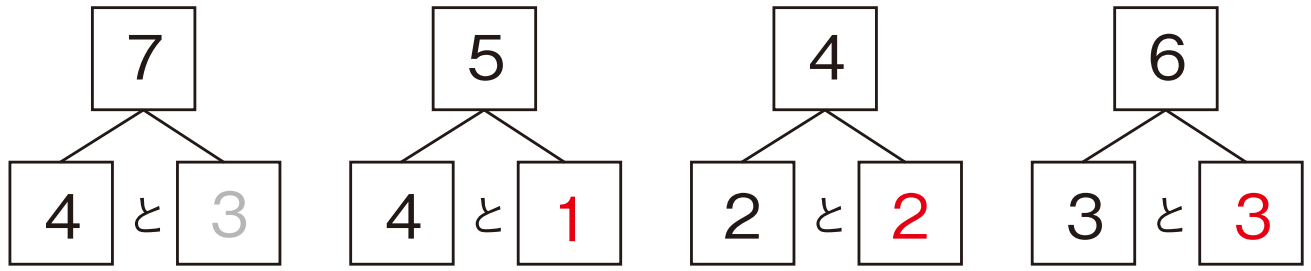
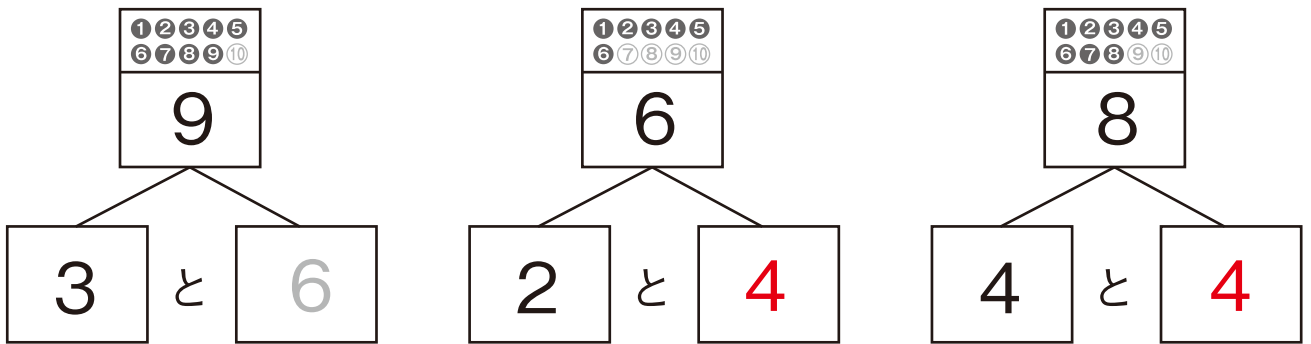
がつ	にち	いくつといくつ①
なまえ		

じかん	分	秒
てんすう		/ 15点



かずは、わけることができるよ。
 「2」は「1に1をたしたかず」だから、「2」と「1+1」はおなじだね。
 「5」だったら、「1と4」、「2と3」にわけることができるね。

いくつといくつに、わけることができますか？ 【1つ1てん】



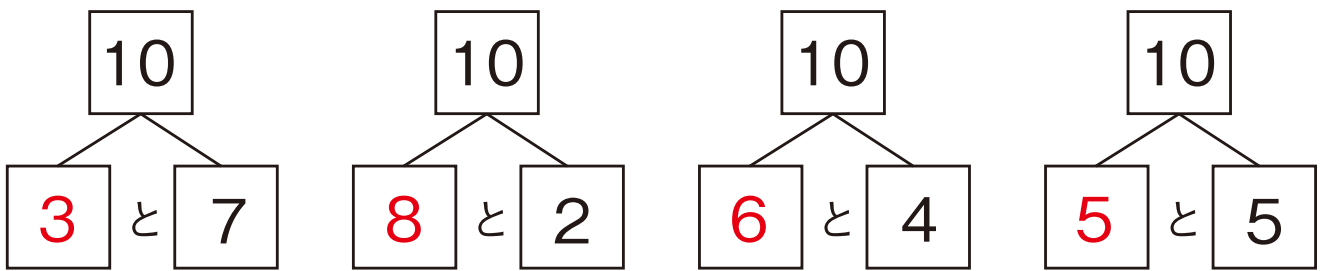
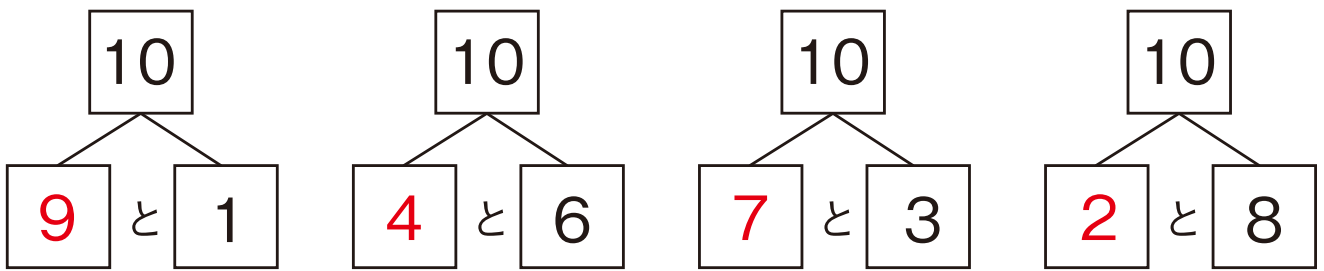
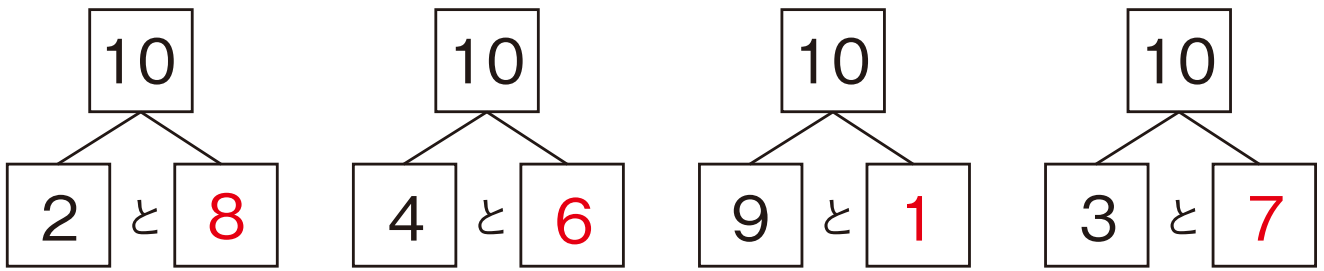
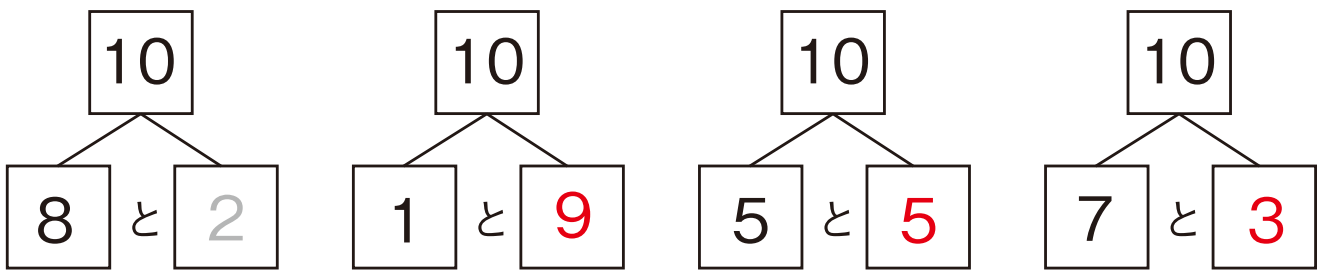
がつ	にち	いくつといくつ②
なまえ		

じかん	分	秒
てんすう		/ 16点



「10」を2つのかずに分けると、「いくつ」と「いくつ」になるかな？
「1」と「9」で「10」、「5」と「5」で「10」、「7」と「3」で「10」。
たくさんあるね。きみも、さがしてみよう！

10は、いくつといくつに分けることができますか？ 【1つ1てん】



がつ	にち	いくつといくつ③
なまえ		

じかん	分	秒
てんすう		/ 6点



「みぎ」と「ひだり」は、ちゃんとわかってる？
「みぎ」と「ひだり」がわかるのは、とてもたいせつだよ。
ちゃんと、おぼえようね。

にいろをぬろう 【1つ1てん】

● ひだり から 3つ いろをぬろう

ひだり みぎ

● ひだり から 7つ いろをぬろう

ひだり みぎ

● みぎ から 6つ いろをぬろう

ひだり みぎ

● ひだり から 5つめに いろをぬろう

ひだり みぎ

● みぎ から 1つめに いろをぬろう

ひだり みぎ

● みぎ から 9つめに いろをぬろう

ひだり みぎ

がつ	にち	いくつといくつ④
なまえ		

じかん	分	秒
てんすう		/ 20点



おべんきょうのときには、かいてあることをきちんとよむことが、たいせつなんだワン。ちゃんとよまないと、なにをすればいいのか、わからないワン。

- 1 いちご と みかんが、あわせて 7つあります。かぞえてみると、いちごは 5こありました。みかんは、なんこ ありますか？ [4てん]

こたえ 2こ

- 2 おとこの子と おんなの子が、あわせて10人います。
「おんなの子は、手をあげてください」
そういうと、手をあげたのは 4人でした。
それでは、おとこの子は なん人いますか？ [5てん]

こたえ 6人

- 3 10人が まえから うしろへ、まっすぐに ならんでいます。
こよみちゃんは、うしろから 7ばんめに います。
こよみちゃんの まえには、なん人が いますか？ [5てん]

こたえ 3人

- 4 あめを きのうは 2こ、きょうは 3こ たべました。すると あめは、のこり 3こになりました。あめは はじめ、なんこ ありましたか？

[5てん]

こたえ 8こ