


1ねんせい	さんすう	とけい-2
なまえ		

じかん 10ぷん
てんすう / 40点




「とけいのみかた」のれんしゅうだよ  
なが  
 長いはりとみじかいはりを、よくみてね




**1** とけいのはりは、なんじを さしていますか 【1つ3てん】

(1)




8じ

(2)




2じ

(3)




10じ

(4)




6じ

(5)




1じ30ぷん

(6)




6じ30ぷん

(7)



11じ30ぷん

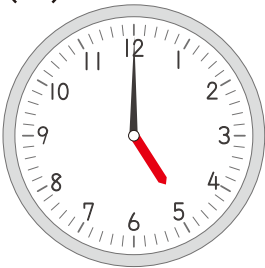
(8)



5じすぎ

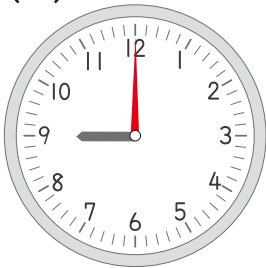
**2** とけいに、たりないはりを かきましょう 【1つ4てん】

(1)



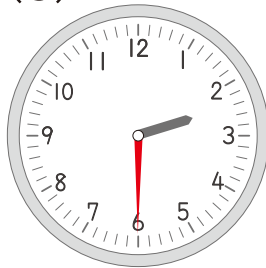
5じ

(2)



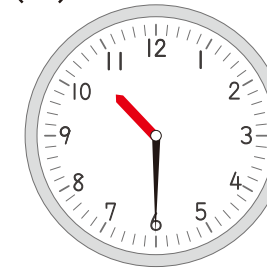
9じ

(3)



2じ30ぷん

(4)



10じ30ぷん

1ねんせい	さんすう	とけい-3
なまえ		

じかん 10ぶん
てんすう / 50点

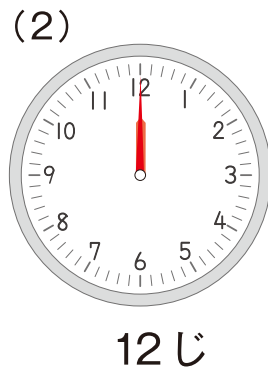



とけいの長い<sup>なが</sup>はりは、「0ぶん」のときには「12」をさしているよ  
 長い<sup>なが</sup>はりが「1かいまわる」と、「1じかん」がたったことだよ

**1** とけいの長い<sup>なが</sup>はり と みじかい<sup>みじかい</sup>はりは、どこを さしていますか？ 【1つ5てん】

- |             |                     |                                 |                         |                                 |                                       |
|-------------|---------------------|---------------------------------|-------------------------|---------------------------------|---------------------------------------|
| (1) 7じ      | 長い <sup>なが</sup> はり | <input type="text" value="12"/> | みじかい <sup>みじかい</sup> はり | <input type="text" value="7"/>  |                                       |
| (2) 2じ      | 長い <sup>なが</sup> はり | <input type="text" value="12"/> | みじかい <sup>みじかい</sup> はり | <input type="text" value="2"/>  |                                       |
| (3) 12じ     | 長い <sup>なが</sup> はり | <input type="text" value="12"/> | みじかい <sup>みじかい</sup> はり | <input type="text" value="12"/> |                                       |
| (4) 3じ30ぶん  | 長い <sup>なが</sup> はり | <input type="text" value="6"/>  | みじかい <sup>みじかい</sup> はり | <input type="text" value="3"/>  | と <input type="text" value="4"/> のあいだ |
| (5) 6じ30ぶん  | 長い <sup>なが</sup> はり | <input type="text" value="6"/>  | みじかい <sup>みじかい</sup> はり | <input type="text" value="6"/>  | と <input type="text" value="7"/> のあいだ |
| (6) 12じ30ぶん | 長い <sup>なが</sup> はり | <input type="text" value="6"/>  | みじかい <sup>みじかい</sup> はり | <input type="text" value="12"/> | と <input type="text" value="1"/> のあいだ |

**2** とけいに、はりを かきましょう 【1つ5てん】



1ねんせい	さんすう	とけい-4	じかん 10ぷん
なまえ			てんすう / 40点



とけいの<sup>なが</sup>長いはりは、「30ぷん」のときには「6」をさしているよ  
 そして <sup>なが</sup>長いはり「1かいはんまわる」と、「1じかん30ぷん」が  
 たったってことだよ

- 1 かのんちゃんは1じにいえをでて、としょかんにいきました。  
 そして、とけいの<sup>なが</sup>長いはりちょうど2かいまわったじこくに、  
 いえにかえってきました。  
 かのんちゃんがいえにかえってきたのは、なんじですか？【10てん】

こたえ 3じ

- 2 とけいのみじかいはりが3から9まですすむと、  
 とけいの<sup>なが</sup>長いはり、なんかいまわりましたか？【10てん】

こたえ 6かい

- 3 5じから、とけいの<sup>なが</sup>長いはり4かいはんまわると、とけいの  
 みじかいはりは、すうじのなにとなにのあいだをさしていますか  
 【10てん】

こたえ 9と10のあいだ

- 4 かのんちゃんは1じかんで、本を8ページよむことができます。  
 3じから5じ30ぷんまで <sup>ほん</sup>本をよむと、  
 かのんちゃんは <sup>ほん</sup>本をなんページよむことができますか？【10てん】

こたえ 20ページ