


1ねんせい	さんすう	学カテスト④-1
なまえ		

じかん	10	ぷん
てんすう	/	50点



ペアのすけ

1ねんせいのさんすうは、できるようになった？
 どれだけできるか、たしかめてみよう



みそら

やってみるの
にやっ！

1 けいさんをしよう 【1つ2てん】

- | | | |
|------------------|------------------|-------------------|
| (1) $17 + 32 =$ | (2) $66 - 33 =$ | (3) $13 + 17 =$ |
| (4) $75 - 24 =$ | (5) $42 + 24 =$ | (6) $50 - 11 =$ |
| (7) $15 + 85 =$ | (8) $99 - 17 =$ | (9) $71 + 29 =$ |
| (10) $100 - 6 =$ | (11) $34 + 56 =$ | (12) $100 - 28 =$ |

2 に かず^いを入れて、けいさんをしよう 【1つ3てん】

- | | |
|-------------------------|-------------------------|
| (1) $50 + \square = 58$ | (2) $60 + \square = 85$ |
| (3) $\square + 51 = 71$ | (4) $\square + 44 = 88$ |
| (5) $25 + \square = 50$ | (6) $21 + \square = 83$ |

3 こたえが「68」になるように に かずをいれよう 【1つ2てん】

- | | |
|-------------------------|------------------------|
| (1) $41 + \square = 68$ | (2) $\square + 9 = 68$ |
| (3) $70 - \square = 68$ | (4) $\square - 7 = 68$ |

1ねんせい

さんすう

学カテスト④-2

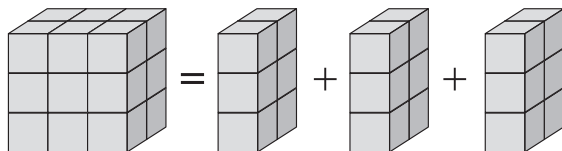
じかん 10ぷん

なまえ

てんすう / 40点



ベアのすけ




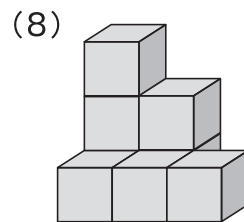
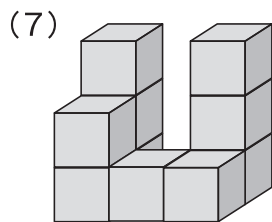
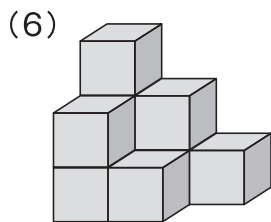
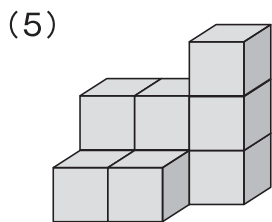
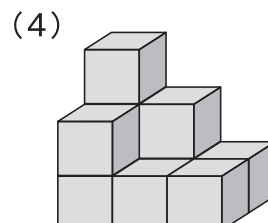
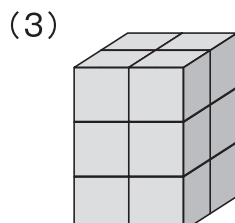
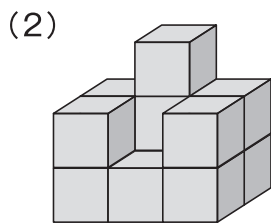
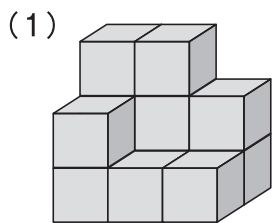
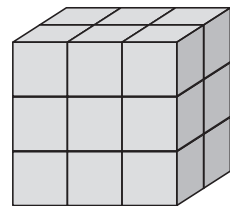
おお
大きなかたちは
「6こ」のつみ木が
「3つ」あわせて
いるね
「6+6+6=18」





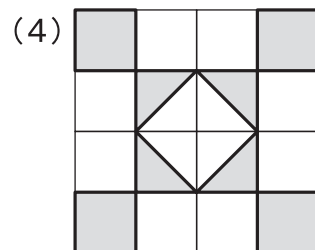
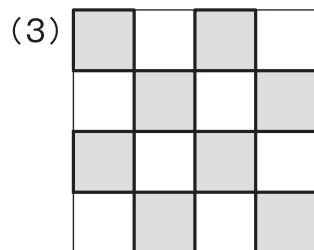
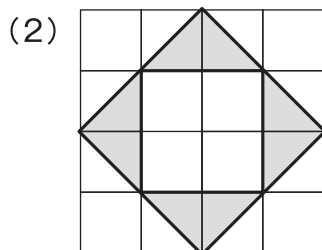
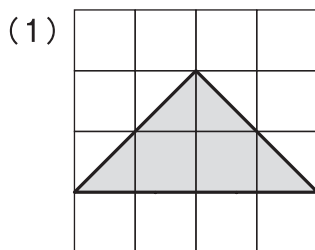
なるほげいしゃ

みそら

1 おなじ大きさの つみ木  をつかって、右にあるようなかたちをつくりました。このかたちから、なんこのつみ木をとると、下のようなかたちになりますか？【1つ3てん】



2 おなじ大きさの  を、なんこかつかって かたちをつくりました。それぞれ、なんこの  がつかわれていますか？【1つ4てん】



1ねんせい	さんすう	学カテスト④-3
なまえ		

じかん 10ぷん
てんすう / 40点



こたえは、なにを かけば いいのかな？
 書いてあることを きちんとよんで、
 なにを こたえにすればいいか、かんがえよう



1 ^{えん だま} 5円玉が 9まいと、^{えん だま} 50円玉が 1まいと、^{えん だま} 1円玉が 5まいあります。
 ぜんぶあわせると、なん円えんになりますか？ 【10てん】

こたえ _____

2 まことくんは、^{えん} 100円もっています。まことくんの妹いもうとがもっているお金かねは、
 まことくんよりも^{えん すく} 40円少ないそうです。まことくんが妹いもうとにいくらあげたら、
 まことくんいもうとと妹いもうとがもっているお金かねは、おなじになりますか？ 【10てん】

こたえ _____

3 たけるくんは、24まいのシールもっています。たけるくんおとうとの弟おとうとは、たけるくん
 より ^{すく} 5まい少ないはずの、シールもっています。たけるくんと、たけるくん
 の弟おとうとがもっているシールをあわせると、なんまいになりますか？ 【10てん】

しき _____

こたえ _____

4 1ふくろに ^{はい} 6このチョコが入っているふくろが、5ふくろあります。
 このふくろをぜんぶあけて、チョコを1つのはこはいに入れてから、
 パパとママとぼくで、あわせて10このチョコをたべました。
 はこの中なかのチョコは、なんこになりましたか？ 【10てん】

しき _____

こたえ _____