

1ねんせい	さんすう	学カテスト④-1
なまえ		

じかん	10	ぷん
てんすう	/	50点



ペアのすけ

1ねんせいのさんすうは、できるようになった？
 どれだけできるか、たしかめてみよう



みぞら

やってみるの
にやっ！

1 けいさんをしよう 【1つ2てん】

- (1) $17 + 32 = 49$ (2) $66 - 33 = 33$ (3) $13 + 17 = 30$
 (4) $75 - 24 = 51$ (5) $42 + 24 = 66$ (6) $50 - 11 = 39$
 (7) $15 + 85 = 100$ (8) $99 - 17 = 82$ (9) $71 + 29 = 100$
 (10) $100 - 6 = 94$ (11) $34 + 56 = 90$ (12) $100 - 28 = 72$

2 に かず^いを入れて、けいさんをしよう 【1つ3てん】

- (1) $50 + \boxed{8} = 58$ (2) $60 + \boxed{25} = 85$
 (3) $\boxed{20} + 51 = 71$ (4) $\boxed{44} + 44 = 88$
 (5) $25 + \boxed{25} = 50$ (6) $21 + \boxed{62} = 83$

3 こたえが「68」になるように に かずをいれよう 【1つ2てん】

- (1) $41 + \boxed{27} = 68$ (2) $\boxed{59} + 9 = 68$
 (3) $70 - \boxed{2} = 68$ (4) $\boxed{75} - 7 = 68$

1ねんせい

さんすう

学カテスト④-2

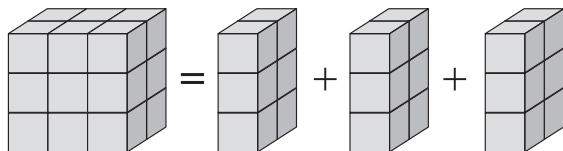
じかん 10ぷん

なまえ

てんすう / 40点



ベアのすけ




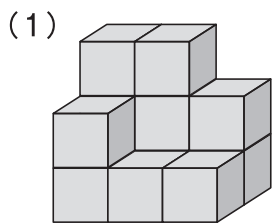
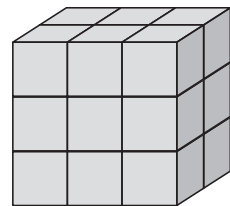
おお
大きなかたちは
「6こ」のつみ木が
「3つ」あわせて
いるね
「6+6+6=18」



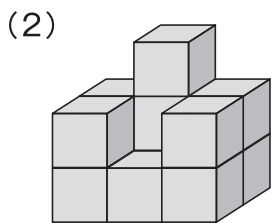
なるほいしや

みそら

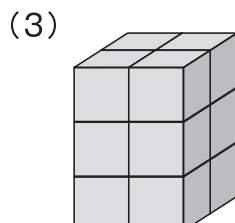
1 おなじ大きさの つみ木  をつかって、右にあるようなかたちをつくりました。このかたちから、なんこのつみ木をとると、下のようなかたちになりますか？【1つ3てん】



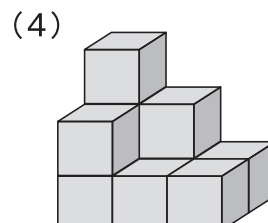
6こ



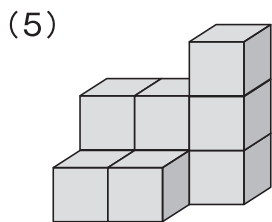
6こ



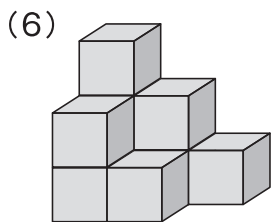
6こ



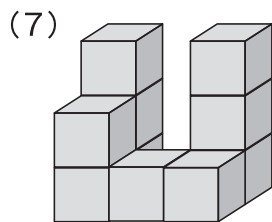
8こ



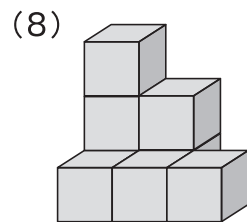
9こ





9こ

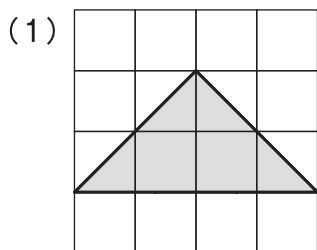


8こ

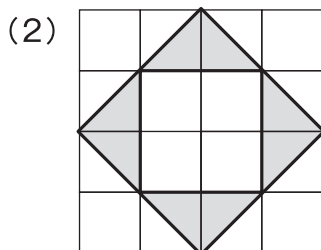


10こ

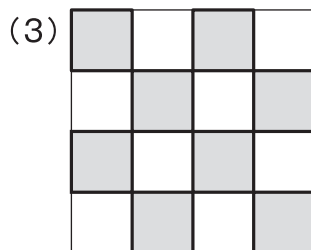
2 おなじ大きさの  を、なんこかつかって かたちをつくりました。それぞれ、なんこの  がつかわれていますか？【1つ4てん】



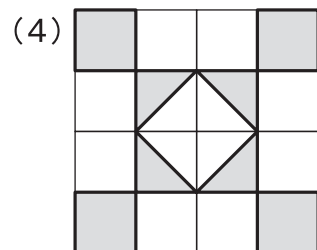
8こ



8こ



16こ



12こ

1ねんせい	さんすう	学カテスト④-3
なまえ		

じかん 10ぷん
てんすう / 40点



こたえは、なにを かけば いいのかな？
 書いてあることを きちんとよんで、
 なにを こたえにすればいいか、かんがえよう



1 ^{えん だま} 5円玉が 9まいと、^{えん だま} 50円玉が 1まいと、^{えん だま} 1円玉が 5まいあります。
 ぜんぶあわせると、なん円になりますか？ 【10てん】 こたえ **100 円**

2 まことくんは、^{えん} 100円もっています。まことくんの妹がもっているお金^{かね}は、
 まことくんよりも^{えん すく} 40円少ないそうです。まことくんが妹にいくらあげたら、
 まことくんと妹^{いもうと}がもっているお金^{かね}は、おなじになりますか？ 【10てん】
 まことくんが多くもっている 40 円を 2 人で半分ずつ
 すればいいので、20 円あげれば いい こたえ **20 円**

3 たけるくんは、24まいのシールもっています。たけるくんの弟^{おとうと}は、たけるくん
 より ^{すく} 5まい少ないはずの、シールもっています。たけるくんと、たけるくん
 の弟^{おとうと}がもっているシールをあわせると、なんまいになりますか？ 【10てん】

$$24 + 24 - 5 = 43$$
しき こたえ **43 まい**

4 1ふくろに ^{はい} 6このチョコが入っているふくろが、5ふくろあります。
 このふくろをぜんぶあけて、チョコを1つのはこに ^{はい} 入れてから、
 パパとママとぼくで、あわせて10このチョコをたべました。
 はこの中のチョコ^{なか}は、なんこになりましたか？ 【10てん】

$$6 + 6 + 6 + 6 + 6 - 10 = 20$$
しき こたえ **20 こ**