

4年生

算数ドリル

文章問題①-1

時間 10分

年 組 名前

点数

クリア40点

/ 40点



ぶん しょう もん だい
文章問題は、「何が書いてあるか」や「答の
たん い
単位が何になるのか」をまちがえないように、
わからないときには図ずをかいて考かんがえていこう



- 1 1個^こ58円のミカン^こを1人2こずつ7人^{くほ}に配るための、
ミカンの代金はいくらになりますか？【10点】

式

答え

- 2 100枚^{まい}のカード^{まい}を1人^{まい}に6枚ずつわたしていくと、
何人にわたせて何枚^{まい}あまりますか？【10点】

式

答え

- 3 こうたくんの家から学校までを^{まい}行き帰りすると、1300m歩いたことになります。
こうたくんが300日学校に通ったとすると、こうたくんは学校までの行き帰りで
何kmを歩くことになりますか？【10点】

式

答え

- 4 ある本を1日15ページずつ読んでいくと、ちょうど3週間で読み終わりました。
この本は、何ページの本ですか？【10点】

式

答え

年 組 名前

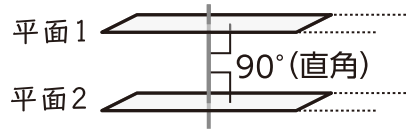
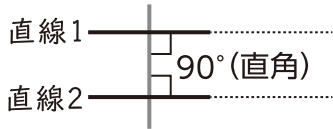
点数

クリア 30点

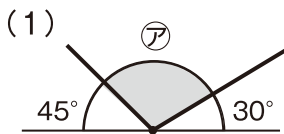
/ 40点



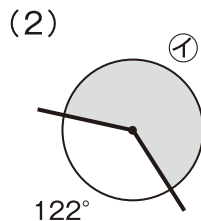
「平行」は「どこまでのばしてもまじわらない、ちよくせん直線やへいめん平面」のことだよ。



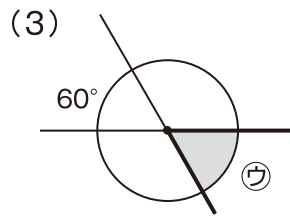
1 次の角の角度をもとめよう 【1つ5点】



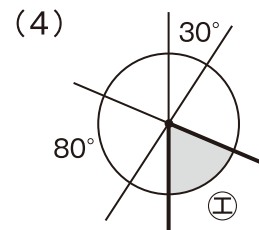
ア



イ

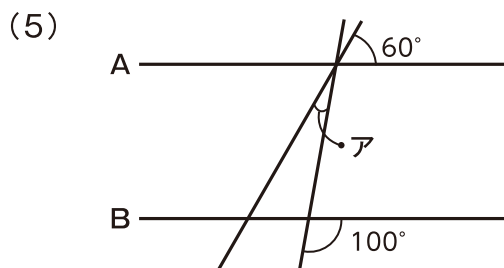
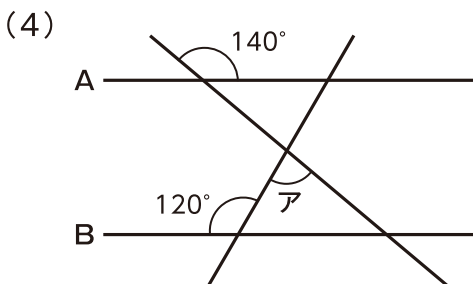
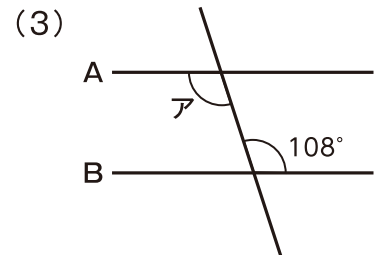
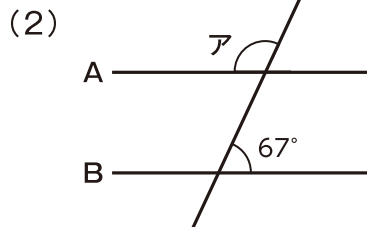
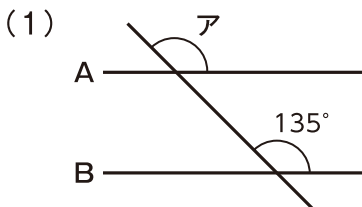


ウ



エ

2 下の図で「直線A」と「直線B」は平行です。角アの角度をもとめよう 【1つ4点】



4年生

算数ドリル

文章問題①-3

時間 10分

年 組 名前

点数

クリア40点

/ 50点



「かけ算」や「わり算」のしきは、「答え」になるものが先だよ。
 「300円を5人でわけたら、1人いくらになる？」なら「答え」は
 「円」だから、式は「300円÷5人」の「300÷5」になるんだ。

1 こうたくんは520円、えいじくんは380円もっています。

2人がもっているお金の差は、何円ですか？【10点】

式

答え

2 白い花と青い花が、合わせて50本さいています。このうち白い花は、

青い花より12本多くさいています。白い花は何本さいていますか？【10点】

式

答え

3 たての長さが横の長さより7cm短い、まわりの長さが56cmの

長方形があります。この長方形の、たての長さは何cmですか？【10点】

式

答え

4 「四兆七百三億三千八百一万四百」を数字にしたとき、

「0」は何こ使われますか？【10点】

数字

答え

5 2.7Lのお茶を、1人1.8dLずつ12人が飲みました。

お茶の残りは、何Lですか？【10点】

式

答え