

4年生

算数ドリル

文章問題①-1

時間 10分

年 組 名前

点数

クリア40点

/ 40点



ぶん しょう もん だい  
文章問題は、「何が書いてあるか」や「答の  
たん い  
単位が何になるのか」をまちがえないように、  
わからぬときは <sup>ず</sup> 図をかいて <sup>かんが</sup> 考えていこう



- 1 1個<sup>こ</sup>58円のミカン<sup>こ</sup>を1人2こずつ7人に<sup>くば</sup>配るための、  
ミカンの代金はいくらになりますか？【10点】

式  $58 \times 2 \times 7 = 812$

答え 812円

- 2 100枚<sup>まい</sup>のカード<sup>まい</sup>を1人に6枚ずつわたしていくと、  
何人にわたせて何枚<sup>まい</sup>あまりますか？【10点】

式  $100 \div 6 = 16$ あまり4

16人にわたせて  
答え 4枚あまる

- 3 こうたくんの家から学校までを<sup>まい</sup>行き帰りすると、1300m歩いたことになります。  
こうたくんが300日学校に通ったとすると、こうたくんは学校までの行き帰りで  
何kmを歩くことになりますか？【10点】

式  $1300 \times 300 = 39000$

答え 39km

- 4 ある本を1日15ページずつ読んでいくと、ちょうど3週間で読み終わりました。  
この本は、何ページの本ですか？【10点】

式  $15 \times 7 \times 3 = 315$

答え 315ページ

4年生

算数ドリル

文章問題①-2

時間 10分

年 組 名前

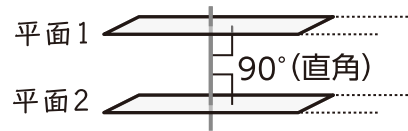
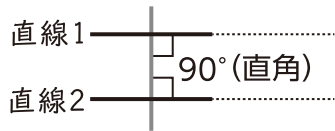
点数

クリア 30点

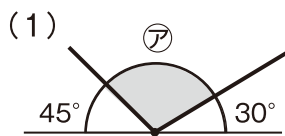
/ 40点

しろい べあ の すけ  
白井 ペア之助

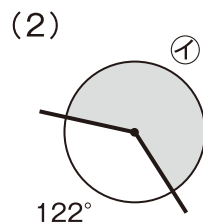
「平行」は「どこまでのばしてもまじわらない、ちよくせん直線やへいめん平面」のことだよ。



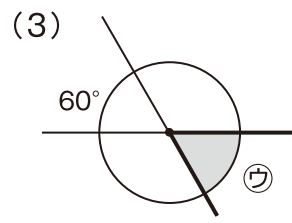
### 1 次の角の角度をもとめよう 【1つ5点】



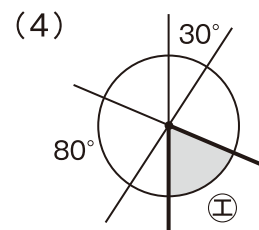
ア 105°



イ 238

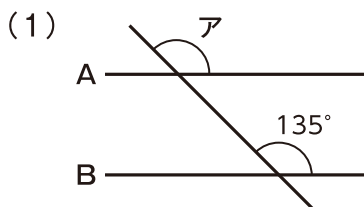


ウ 60°

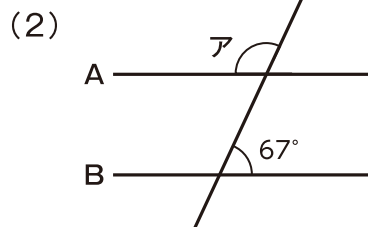


エ 70°

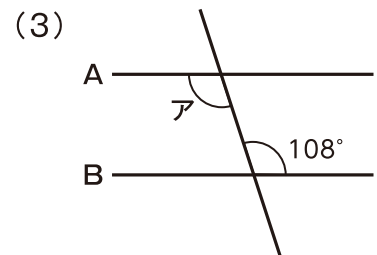
### 2 下の図で「直線A」と「直線B」は平行です。角アの角度をもとめよう 【1つ4点】



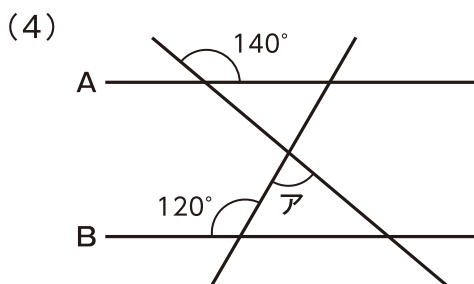
135°



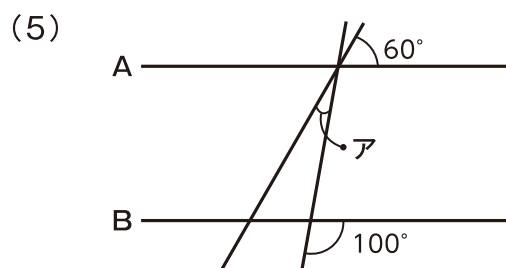
113°



108°



80°



20°

4年生

算数ドリル

文章問題①-3

時間 10分

年 組 名前

点数

クリア40点

/ 50点



「かけ算<sup>ざん</sup>」や「わり算<sup>ざん</sup>」のしきは、「答え<sup>こた</sup>」になるものが先だよ。  
 「300円を5人でわけたら、1人いくらになる？」なら「答え<sup>こた</sup>」は  
 「円」だから、式は「300円÷5人」の「300÷5」になるんだ。

- 1 こうたくんは520円、えいじくんは380円もっています。  
 2人がもっているお金の差<sup>さ</sup>は、何円ですか？【10点】

式  $520 - 380 = 140$

答え 140円

- 2 白い花と青い花が、合わせて50本さいています。このうち白い花は、  
 青い花より12本多くさいています。白い花は何本さいていますか？【10点】

式  $(50 + 12) \div 2 = 31$

答え 31本

- 3 たての長さが横の長さより7cm短い、まわりの長さが56cmの  
 長方形があります。この長方形の、たての長さは何cmですか？【10点】

式  $(56 \div 2 - 7) \div 2 = 10.5$

答え 10.5cm

- 4 「四兆七百三億三千八百一万四百」を数字にしたとき、  
 「0」は何こ使われますか？【10点】

数字 4070338010400

答え 6こ

- 5 2.7Lのお茶を、1人1.8dLずつ12人が飲みました。  
 お茶の残り<sup>のこ</sup>は、何Lですか？【10点】

式  $27 - 1.8 \times 12 = 5.4$

答え 0.54L