

4年生

算数ドリル

文章問題②-1


時間 10分

年 組 名前


点数

クリア40点

/ 50点



ぶん しょう もん だい
文章問題は、「何が書いてあるか」や「答の
たん い
単位が何になるのか」をまちがえないように、
わからないときには^ず図をかいて^{かんが}考えていこう



- 1 何人かに、1人8まいずつの色紙^{くぼ}を配りたいのですが、
今ある350まいの色紙ではたりず、17人に^{くぼ}配ることができません。【1つ10点】
- (1) 色紙は、何人に^{くぼ}配ろうとしていますか？

式

答え

- (2) あと何まいあれば、全員に8まいずつ色紙^{くぼ}を配ることができますか？

式

答え

- (3) 配る数を何まいにすれば、全員に同じずつの色紙^{くぼ}を配ることができますか？

式

答え

- 2 7以上20未満^{み まん}の整数について答えよう 【1つ10点】

- (1) この中にある偶数^{ぐう すう}を、全てかこう

式

- (2) この中にある奇数^{き すう}を、全てかこう

式

4年生

算数ドリル

文章問題②-2


時間 15分

年 組 名前

点数

クリア40点

/ 50点



「あるところとあるところの間の数を考える問題」を「植木算」というよ
 「8mの間に2mおきに石をおいていくには、石は何こあればよいですか？」
 みたいな問題だね。 $\overset{\text{あいだ}}{\text{①}} 2\text{m} \overset{\text{かんが}}{\text{②}} 2\text{m} \overset{\text{もん だい}}{\text{③}} 2\text{m} \overset{\text{うえ き ぜん}}{\text{④}} 2\text{m} \overset{\text{⑤}}{\text{⑤}}$ **「 $8 \div 2 + 1 = 5$ 」**
 8m

- ① 10人が3mおきに、1列に並んでいます。先頭の人と1番後ろの人は、何mはなれていますか？【10点】

式

答え

- ② 1m20cmおきにはたを立てていくと、1つ目のはたと最後のはたの間が16m80cmになりました。立てたはたは、何本ですか？【10点】

式

答え

- ③ 4年3組の31人が、運動場の右はしから左はしまで、6mおきにまっすぐ並びました。ですが、最後の1人が並んだ場所から運動場の左はしまでは、まだ20mあります。運動場の右はしから左はしまでは、何mですか？【10点】

式

答え

- ④ まわりの長さが100mの池の周りには、5mおきに木が植わっています。池のまわりに植わっている木は、何本ですか？【10点】

式

答え

- ⑤ まわりの長さが192mの畑のまわりに、同じ間かくでくいを打っていくと、ちょうど16本で畑を1周できました。くいは、何m間かくで打たれましたか？【10点】

式

答え

4年生

算数ドリル

文章問題②-3

時間 15分

年 組 名前

点数

クリア40点

/ 50点



「少数」の問題では、「少数点」の位置が大切になるよ。気をつけてやってみよう



- 1 200gの箱に、0.6kgの砂糖のふくろを3つ入れました。
砂糖が入った箱の重さは、何kgになりましたか？【10点】

式

答え

- 2 0.8Lのジュースが入ったペットボトルが、4本あります。
このジュースを1人180mLずつ、紙コップに注いで15人に配りました。
ジュースはあと、何Lのこっていますか？【10点】

式

答え

- 3 10.8kgの $\frac{1}{3}$ は、何kgですか？【10点】

式

答え

- 4 8人が同じ長さを走り、その走った長さをたすと6kmになりました。
1人が走った長さは、何kmですか？【10点】

式

答え

- 5 なつみちゃんの家から学校までは、歩いて15分かかります。
なつみちゃんが100日間歩いて学校に通うと、なつみちゃんが家から学校の
行き帰りで使う時間は、何時間になりますか？【10点】

式

答え