

4年生

算数ドリル

文章問題②-1


時間 10分

年 組 名前


点数

クリア40点

/ 50点



ぶん しょう もん だい
文章問題は、「何が書いてあるか」や「答の
たん い
単位が何になるのか」をまちがえないように、
わからぬときは ず
かんが
図をかいて考えていこう



- 1 何人かに、1人8まいずつの色紙くぼを配りたいのですが、
今ある350まいの色紙ではたりず、17人かんがに配ることができません。【1つ10点】

(1) 色紙は、何人くぼに配ろうとしていますか？

$$350 \div 8 = 43 \text{ あまり } 6$$

式 $43 + 17 = 60$

答え 60人

(2) あと何まいあれば、全員くぼに8まいずつ色紙を配ることができますか？

式 $8 \times 60 - 350 = 130$

答え 130まい

(3) 配る数くぼを何まいにすれば、全員くぼに同じずつの色紙を配ることができますか？

式 $350 \div 60 = 5 \text{ あまり } 50$

答え 5まい

- 2 7以上20未満みまんの整数みまんについて答えよう 【1つ10点】

(1) この中くうすうにある偶数くうすうを、全てかこう

式 $8 \cdot 10 \cdot 12 \cdot 14 \cdot 16 \cdot 18$

(2) この中きすうにある奇数きすうを、全てかこう

式 $7 \cdot 9 \cdot 11 \cdot 13 \cdot 15 \cdot 17 \cdot 19$

4年生

算数ドリル

文章問題②-2


時間 15分

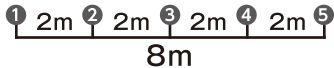
年 組 名前

点数

クリア40点

/ 50点



「あるところとあるところの間の数を考える問題」を「植木算」というよ
 「8mの間に2mおきに石をおいていくには、石は何こあればよいですか？」
 みたいな問題だね。  「 $8 \div 2 + 1 = 5$ 」

- ① 10人が3mおきに、1列に並んでいます。先頭の人と1番後ろの人は、何mはなれていますか？【10点】

式 $3 \times (10 - 1) = 27$

答え 27m

- ② 1m20cmおきにはたを立てていくと、1つ目のはたと最後のはたの間が16m80cmになりました。立てたはたは、何本ですか？【10点】

式 $168 \div 12 + 1 = 15$

答え 15本

- ③ 4年3組の31人が、運動場の右はしから左はしまで、6mおきにまっすぐ並びました。ですが、最後の1人が並んだ場所から運動場の左はしまでは、まだ20mあります。運動場の右はしから左はしまでは、何mですか？【10点】

式 $6 \times (31 - 1) + 20 = 200$

答え 200m

- ④ まわりの長さが100mの池のまわりには、5mおきに木が植わっています。池のまわりに植わっている木は、何本ですか？【10点】

式 $100 \div 5 = 20$

答え 20本

- ⑤ まわりの長さが192mの畑のまわりに、同じ間かくでくいを打っていくと、ちょうど16本で畑を1周できました。くいは、何m間かくで打たれましたか？【10点】

式 $192 \div 16 = 12$

答え 12m間かく

4年生

算数ドリル

文章問題②-3


時間 15分

年 組 名前

点数

クリア40点

/ 50点



「少数」の問題では、「少数点」の位置が大切になるよ。気をつけてやってみよう



- 1 200gの箱に、0.6kgの砂糖のふくろを3つ入れました。
砂糖が入った箱の重さは、何kgになりましたか？【10点】

式 $0.2+0.6\times 3=2$

答え 2kg

- 2 0.8Lのジュースが入ったペットボトルが、4本あります。
このジュースを1人180mLずつ、紙コップに注いで15人に配りました。
ジュースはあと、何Lのこっていますか？【10点】

式 $0.8\times 4-0.18\times 15=0.5$

答え 0.5L

- 3 10.8kgの $\frac{1}{3}$ は、何kgですか？【10点】

式 $10.8\div 3=3.6$

答え 3.6kg

- 4 8人が同じ長さを走り、その走った長さをたすと6kmになりました。
1人が走った長さは、何kmですか？【10点】

式 $6\div 8=0.75$

答え 0.75km

- 5 なつみちゃんの家から学校までは、歩いて15分かかります。
なつみちゃんが100日間歩いて学校に通うと、なつみちゃんが家から学校の
行き帰りで使う時間は、何時間になりますか？【10点】

$0.25\times 2\times 100=50$

式 ※15分=0.25時間

答え 50時間