

4年生

算数ドリル

学力テスト③-1

時間 10分

年 組 名前

点数

クリア40点

/ 50点



4年生の算数は、ちゃんとわかってるかな？
どれだけわかっているか、たしかめよう



1 計算をしよう 【1つ5点】

(1) $30 - (80 - 9 \times 7) =$

(2) $231 \div (105 - 72) =$

(3) $71 + 232 \div 8 =$

(4) $80 \times 5 - 5 \times 40 =$

2 次の問題を1つの式にして、答えも出そう

(1) 新品のテープから12cmのテープを56本作ると、テープはのこり1m28cmになりました。新品のとき、このテープは何mありましたか？ 【5点】

式

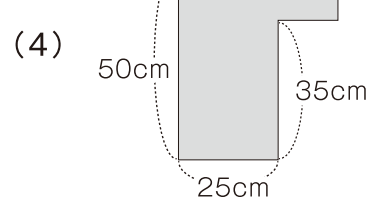
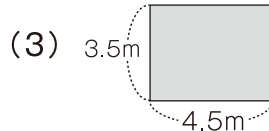
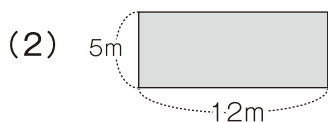
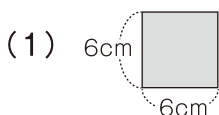
答え

(2) 170円のパンを6こ、88円のおにぎりを8こ買って、代金を1000円さつ2まいで払うと、おつりはいくらになりますか？ 【5点】

式

答え

3 次の□の部分の面積を求めよう 【1つ5点】



4年生

算数ドリル

学力テスト③-2

時間 10分

年 組 名前

点数

クリア40点

/ 50点

しろい べあ のすけ
白井 ペア之助

しょうすう しょうすう てん い ち き
 小数の「わり算」は、「小数点の位置」に気をつ
 けて、あまりがあるときには「あまりの小数点
 の位置」にも気をつけようね



わかつたにや

みぞら

1 小数のわり算 商は $\frac{1}{10}$ の位(0.1の位)まで出して、あまりがあればあまりも出そう [1つ4点]

(1) $75.5 \div 6$

(2) $90.1 \div 7$

(3) $88.8 \div 12$

(4) $91.7 \div 17$

)

)

)

)

2 小数のわり算をしよう [1つ4点]

(1) $3.3 \div 3 =$

(2) $9.6 \div 6 =$

(3) $2 \div 4 =$

(4) $21.7 \div 7 =$

(5) $100 \div 8 =$

(6) $1.02 \div 6 =$

3 1Lのジュースを8人で同じ量ずつ分けると、あまりなくわけることができました。ジュースは、1人何Lずつにわけましたか? [5点]

式

答え

4 まわりの長さが10.8cmの長方形があります。この長方形のたての長さは、横の長さより1cm4mm短いです。この長方形の横の長さは何cmですか? [5点]

式

答え

4年生

算数ドリル

学力テスト②-3

時間 10分

年 組 名前

点数

クリア 30点

/ 40点



同じ大きさの分数は、下のよう^よに考えればわかるよ

$$\frac{20}{50} = \frac{20 \div \square}{50 \div \square} \quad \square \text{は同じ数} \quad \frac{20}{50} = \frac{10 (20 \div 2)}{25 (50 \div 2)} = \frac{2 (10 \div 5)}{5 (25 \div 5)}$$

1 に入る数を書こう 【1つ3点】

(1) $\frac{6}{9} = \frac{\square}{3}$

(2) $\frac{3}{18} = \frac{\square}{6}$

(3) $\frac{7}{22} = \frac{\square}{66}$

(4) $\frac{1}{17} = \frac{5}{\square}$

(5) $\frac{15}{90} = \frac{1}{\square}$

(6) $\frac{42}{91} = \frac{6}{\square}$

2 に入る数を書こう 【1つ3点】

(1) $\frac{1}{50}$ m は cm

(2) $\frac{1}{25}$ L は mL

(3) $\frac{8}{5}$ m は cm

(4) $\frac{1}{8}$ kg は g

(5) $3 \frac{3}{20}$ L は L

(6) $\frac{7}{15}$ 時間は 分

3 2 L のお茶があります。このうち、800mLを飲みました。

お茶はのこり、何Lになりましたか？ ^{ぶん すう}分数を使った式を書き、^{ぶん すう}分数で答えよう 【4点】

式

答え

4年生

算数ドリル

学力テスト③-4


時間 15分

年 組 名前

点数

クリア40点

/ 50点



「和」は「たし算の答え」のこと。「 $1+2$ 」の「和」は「3」
 「差」は「ひき算の答え」のこと。「 $5-3$ 」の「差」は「2」

- ① えんぴつと消しゴムを1つずつ買うと、代金の和は202円になります。
 えんぴつを2本と消しゴムを1こ買ってお店の人300円を払うと、うけ取るおつりは
 21円になります。このとき、消しゴム1この代金は何円になりますか？【10点】

式

答え

- ② ぼくはお姉ちゃんよりもせが低く、ぼくとお姉ちゃんの身長しんちようの和は2.76mで、差は6cmです。
 お姉ちゃんしんちようの身長は、何m何cmでしょうか？ 1つの式で書いて、答えを出しましょう【10点】

式

答え

- ③ 2.5mおきに、まっすぐ20本の木うが植えられています。

- (1) 1本目の木から20本目の木までの距離きょり(長さ)は、何mですか？【10点】

式

答え

- (2) 7本目の木から14本目の木までの距離きょり(長さ)は、何mですか？【10点】

式

答え

- ④ 7月15日が水曜日の年の、9月21日は何曜日ですか？【10点】

式

答え