

4年生

算数ドリル

文章問題①-1


時間 10分

年 組 名前


点数

クリア40点

/ 40点



ぶん しょう もん だい
文章問題は、「何が書いてあるか」や「答の
たん い
単位が何になるのか」をまちがえないように、
わからぬときは ^ず 図をかいて ^{かんが} 考えていこう



- 1 1個^こ58円のミカン^こを1人2こずつ7人に^{くば}配るための、
ミカンの代金はいくらになりますか？【10点】

式 $58 \times 2 \times 7 = 812$

答え 812円

- 2 100枚^{まい}のカードを1人に6枚^{まい}ずつわたしていくと、
何人にわたせて何枚^{まい}あまりますか？【10点】

式 $100 \div 6 = 16$ あまり4

16人にわたせて
答え 4枚あまる

- 3 こうたくんの家から学校までを^こ行き帰りすると、1300m歩いたことになります。
こうたくんが300日学校に通ったとすると、こうたくんは学校までの行き帰りで
何kmを歩くことになりますか？【10点】

式 $1300 \times 300 = 390000$

答え 390km

- 4 ある本を1日15ページ^{まい}ずつ読んでいくと、ちょうど3週間で読み終わりました。
この本は、何ページの本ですか？【10点】

式 $15 \times 7 \times 3 = 315$

答え 315ページ

4年生

算数ドリル

文章問題①-2

時間 10分

年 組 名前

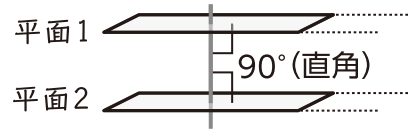
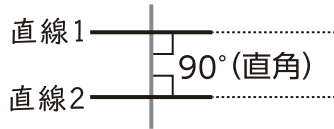
点数

クリア 30点

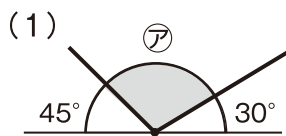
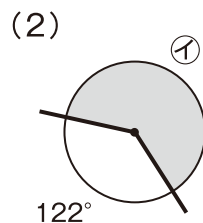
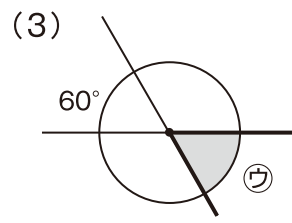
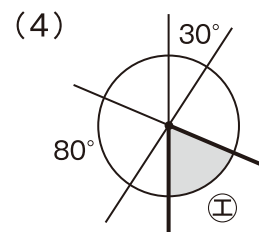
/ 40点

しろい べあ の すけ
白井 ペア之助

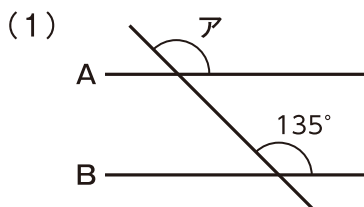
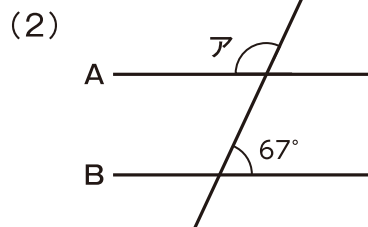
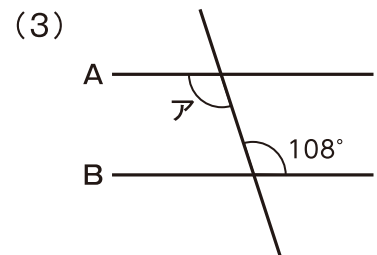
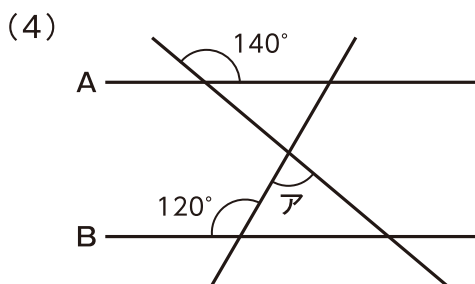
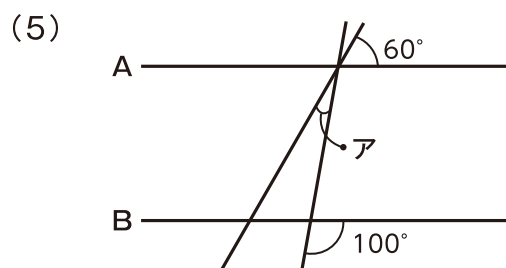
「平行」は「どこまでのばしてもまじわらない、ちよくせん直線やへいめん平面」のことだよ。



1 次の角の角度をもとめよう 【1つ5点】

ア **105°**イ **238**ウ **60°**エ **70°**

2 下の図で「直線A」と「直線B」は平行です。角アの角度をもとめよう 【1つ4点】

**135°****113°****108°****80°****20°**

4年生

算数ドリル

文章問題①-3


時間 10分

年 組 名前

点数

クリア40点

/ 50点



「かけ算^{ざん}」や「わり算^{ざん}」のしきは、「答え^{こた}」になるものが先^まだよ。
 「300円を5人でわけたら、1人いくらになる？」なら「答え^{こた}」は
 「円」だから、式は「300円÷5人」の「300÷5」になるんだ。

- 1 こうたくんは520円、えいじくんは380円もっています。
 2人がもっているお金の差^さは、何円ですか？【10点】

式 $520 - 380 = 140$

答え 140円

- 2 白い花と青い花が、合わせて50本さいています。このうち白い花は、
 青い花より12本多くさいています。白い花は何本さいていますか？【10点】

式 $(50 + 12) \div 2 = 31$

答え 31本

- 3 たての長さが横の長さより7cm短い、まわりの長さが56cmの
 長方形があります。この長方形の、たての長さは何cmですか？【10点】

式 $(56 \div 2 - 7) \div 2 = 10.5$

答え 10.5cm

- 4 「四兆七百三億三千八百一万四百」を数字にしたとき、
 「0」は何こ使われますか？【10点】

数字 4070338010400

答え 6こ

- 5 2.7Lのお茶を、1人1.8dLずつ12人が飲みました。
 お茶の残り^{のこ}は、何Lですか？【10点】

式 $27 - 1.8 \times 12 = 5.4$

答え 0.54L