

4年生

算数ドリル

学力テスト④-1

時間 15分

年 組 名前

点数

クリア40点

/ 50点



4年生の算数は、ちゃんとわかってるかな？
どれだけわかっているか、たしかめよう



1 かけ算をしよう 【1つ3点】

(1) $31 \times 6 =$

(2) $46 \times 3 =$

(3) $15 \times 15 =$

(4) $372 \times 5 =$

(5) $18 \times 63 =$

(6) $74 \times 38 =$

2 1まいの16gのクッキー85まいを、重さ250gの箱に入れました。 【1つ5点】

(1) クッキーが入った箱の重さは、何gになりましたか？

式

答え

(2) 上で出した重さを、kgで書きましょう

答え

3 わり算をしよう。あまりがある場合は、あまりも求めましょう 【1つ3点】

(1) $82 \div 4 = 20$ あまり 2

(2) $138 \div 6 =$

(2) $101 \div 7 =$

(4) $310 \div 8 =$

4 1本85円のエンピツを1ダースと、消しゴムを3こ買って2000円で代金を払うと、620円のおつりが返ってきました。買った消しゴムは、1こいくらですか？ 【10点】

式

答え

年 組 名前

点数

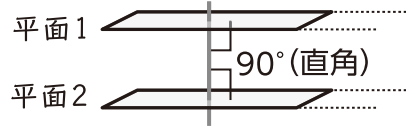
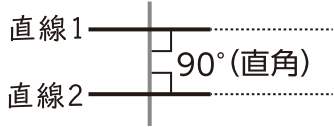
クリア40点

/ 50点



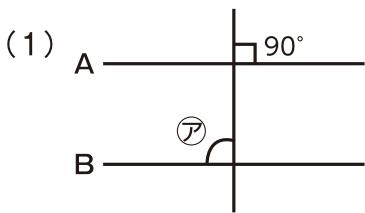
しろい べあ のすけ
白井 ベア之助

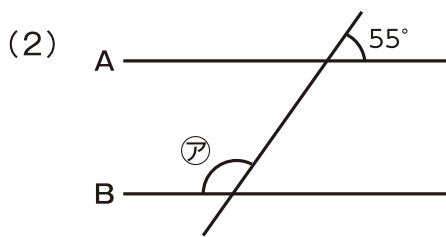
「平行」は「どこまでのばしてもまじわらない、^{ちよくせん}直線や^{へいめん}平面」のことだよ。

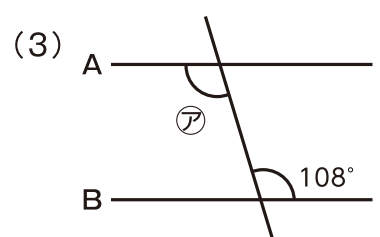


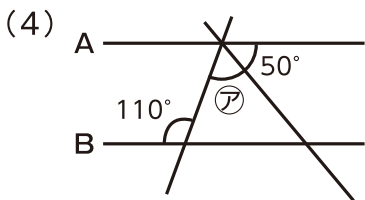
1 下の図で、「直線A」と「直線B」は平行です。このとき、^{かく}角アの^{かくど}角度を求めよう

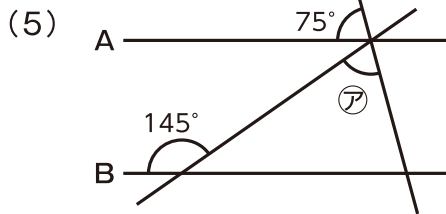
[1つ5点]

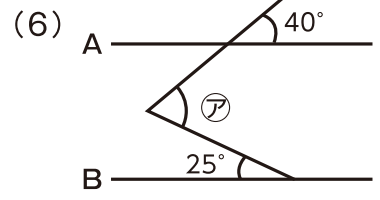






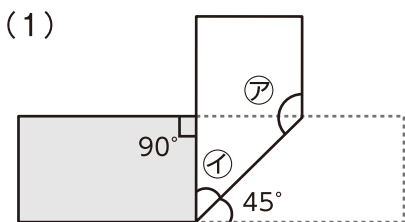




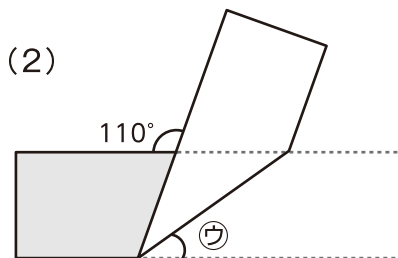


2 長方形の紙を折り曲げたときに、^{かくど}できる^{もと}角度を求めよう

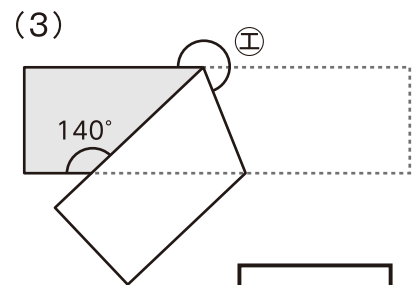
[1つ5点]



ア イ



ウ



エ

4年生

算数ドリル

学力テスト④-3

時間 10分

年 組 名前

点数

クリア 30点

/ 40点



「展開図」は、「立体を開いた形」の図だよ
「どの面」と「どの面」が「どのように」つながって
いるかに気をつけようね



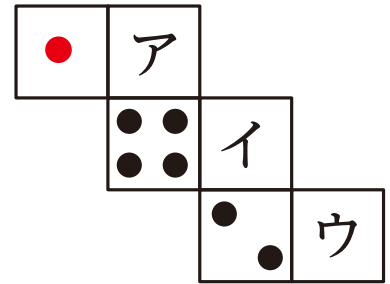
1 右の図は、サイコロの展開図です。

(1) ア・イ・ウに入る「目の数」を、それぞれ答えよう 【1つ5点】

ア _____ イ _____ ウ _____

(2) アの面に垂直な面の目の和は、いくつですか? 【5点】

答え _____



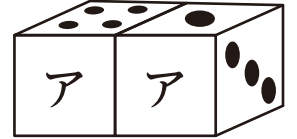
2 右の図のように、サイコロをテーブルに置きました。【1つ5点】

(1) アに入れることができるサイコロの目の数を、全て答えましょう

答え _____

(2) この2つのサイコロの見えている目の和で考えられる、もっとも小さな数はいくつですか?

答え _____



3 右の図のように、1辺の長さが16cmの立方体の箱を
ひもでしばりました。結び目に使ったひもは、12cmです。【1つ5点】

(1) この立方体の辺の長さの和は、何mですか?

式 _____ 答え _____

(2) 箱をしばるのに使ったひもは、何mですか?

式 _____ 答え _____



4年生

算数ドリル

学力テスト④-4

時間 10分

年 組 名前

点数

クリア 30点

/ 30点



お家に帰ってきたら、「手洗い」と「うがい」を忘れずにね
おやつはきれいな手で食べようね。

1 A市の人口は203977人で、B市の人口は165004人です。【1つ10点】

- (1) A市とB市の人口の合計は、およそ何万人ですか？
2つの市の人口を、それぞれ一万の位までのがい数にして計算しよう

答え

- (2) A市の人口はB市の人口のよりも、およそ何千人多いですか？
2つの市の人口を、それぞれ千の位までのがい数にして計算しよう

答え

- 3 たけるくん、かのんちゃん、まことくんの3人が持っているお金の平均は740円です。
かのんちゃんは昨日がお母さんのたん生日だったので、お母さんにお花をプレゼントする
ためにお金を使っしまい、たけるくんの半分しかお金を持っていません。まことくんは、
来週発売される本を買うためにお金をためているので、たけるくんよりも320円多く
お金を持っています。このときたけるくんは、何円持っているといえますか？ 【10点】

式

答え