

4年生

算数ドリル

テスト④-1

時間 10分

年 組 名前

点数

クリア40点

/ 50点



「1時間」は「60秒×60=3600秒」だね。だから「1秒」は $\frac{1}{3600}$ 時間。ということは、 $\frac{1}{100}$ 時間は「36秒」になるね

1 に入る小数を書こう 【1問4点】

(1) 8 dL = L

(2) 3 dL 35 mL = L

(3) 5 cm = km

(4) $\frac{7}{100}$ m = m

(5) $\frac{3}{5}$ kg = kg

(6) $\frac{5600}{100}$ g = kg

(7) 36 分 = 時間

(8) 2268 秒 = 時間

2 3Lの牛乳を、毎日0.22Lずつ飲んでいくと、
牛乳がなくなるのは何日目で、さいごの日に飲める牛乳は何Lですか 【6点】

式 $3000 \div 220 = 13 \text{ あまり } 140$

答え 14日目で0.14L

3 ある数に17をかけると、416.5になります。
このある数を7でわるといくつになりますか 【6点】

式 $416.5 \div 17 \div 7 = 3.5$

答え 3.5

4 6.8kgの塩を、同じ重さずつ16まいのふくろにわけると、
1つのふくろに入れる塩は何gになりますか 【6点】

式 $6.8 \div 16 = 0.425$

答え 425g

4年生

算数ドリル

テスト④-2

時間 15分

年 組 名前

点数

クリア40点

/ 50点



「小数」の「かけ算」や「わり算」では、
「小数点」の位置に気をつけてね



1 計算をしよう 【1問3点】

- (1) $1.37 \times 15 = 20.55$ (2) $5.55 \times 37 = 205.35$ (3) $1.084 \times 9 = 9.756$
 (4) $13.86 \div 33 = 0.42$ (5) $113.4 \div 18 = 6.3$ (6) $492.8 \div 64 = 7.7$
 (7) $76.76 \div 76 = 1.01$ (8) $205.84 \div 83 = 2.48$

2 小数のわり算 商は $\frac{1}{10}$ の位(0.1の位)まで出して、あまりがあればあまりも出そう 【1問4点】

- (1) $60.3 \div 8$ (2) $55 \div 7$ (3) $303.3 \div 67$ (4) $137 \div 24$

$$\begin{array}{r} 7.5 \\ 8 \overline{) 60.3} \\ \underline{56} \\ 43 \\ \underline{40} \\ 0.3 \end{array}$$

$$\begin{array}{r} 7.8 \\ 7 \overline{) 55.0} \\ \underline{49} \\ 60 \\ \underline{56} \\ 0.4 \end{array}$$

$$\begin{array}{r} 4.5 \\ 67 \overline{) 303.3} \\ \underline{268} \\ 35.3 \\ \underline{33.5} \\ 1.8 \end{array}$$

$$\begin{array}{r} 5.7 \\ 24 \overline{) 137.0} \\ \underline{120} \\ 17.0 \\ \underline{16.8} \\ 0.2 \end{array}$$

3 同じボール35この重さが7.35kgです。

このボール5この重さは何kgですか 【5点】

式 $7.35 \div (35 \div 5) = 1.05$

答え 1.05kg

4 周りの長さが2.66mの長方形があります。この長方形の横の長さは、たての長さの2.5倍です。たての長さは何mですか 【5点】

$$(1 + 2.5) \times 2 = 7$$

※上の式から、周りの長さが「たての長さ」の7倍だとわかります

式 $2.66 \div 7 = 0.38$

答え 0.38m

年 組 名前

点数

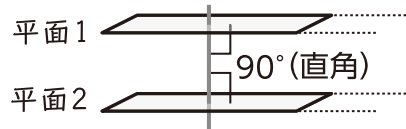
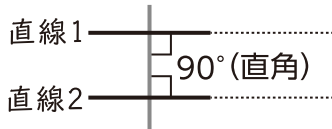
クリア40点

/ 50点

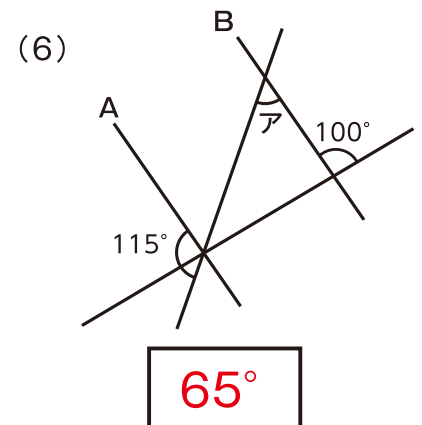
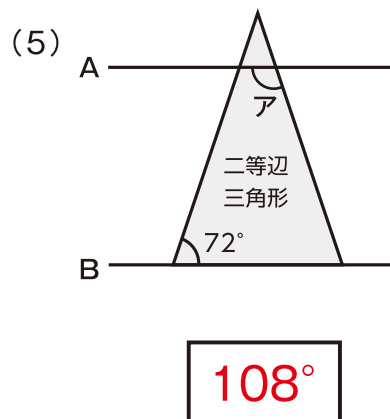
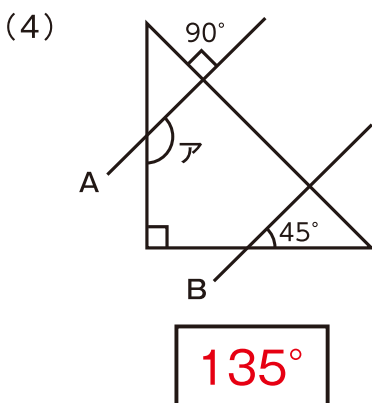
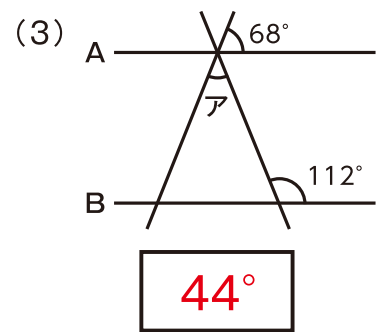
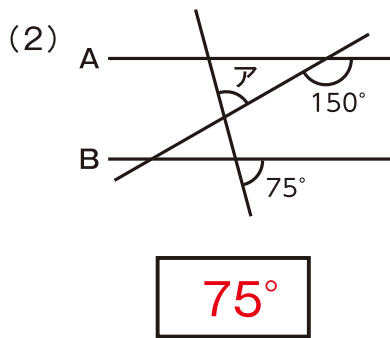
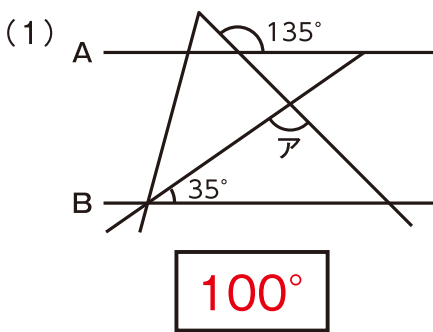


しろい べあ のすけ
白井 ペア之助

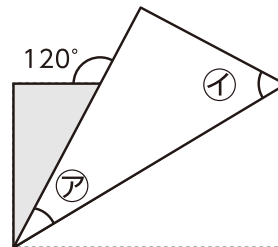
「平行」は「どこまでのばしてもまじわらない、ちよくせん直線やへいめん平面」のことだよ。



1 下の図で「直線A」と「直線B」平行です。このとき、角アの角度をもとめよう【1つ5点】



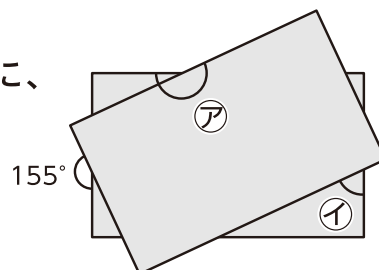
2 長方形の紙を折り曲げたときに、
できる角度をもとめよう【1つ5点】



ア 30°

イ 60°

3 同じ形の長方形の紙を重ねたときに、
できる角度をもとめよう【1つ5点】



ア 205°

イ 65°

4年生

算数ドリル

テスト④-4

時間 15分

年 組 名前

点数

クリア40点

/ 50点



計算には順番があるの、おぼえてるよね。
 ()の中は先に計算。「かけ算」と「わり算」は
 「たし算」と「ひき算」よりも先に計算だよ



おぼえてるにや

1 計算をしよう 【1問4点】

$$(1) 200 \div 25 \times 10 \div 5 = 16 \quad (2) 37 \times 24 \div (43 + 68) = 8$$

$$(3) (93 - 12 \times 7) \times (168 \div 14 + 7) = 171$$

$$(4) 252 \div 36 \times 22 - 600 \div 3 \div 4 = 104$$

2 次の式が成り立つように、 に数を書こう 【1問4点】

$$(1) 20 - \boxed{80} \div 16 = 15 \quad (2) 45 \times \boxed{10} - 7 \times 26 = 268$$

$$(3) (15 + \boxed{315}) \div 9 \div 5 = 10 \quad (4) \boxed{655} \div 5 + 507 \div 3 = 300$$

$$(5) 442 \div (50 - \boxed{11}) \times 3 = 26 \quad (6) (83 \times \boxed{8} - 234) \div 43 = 10$$

3 次の問題を1つの式にして、答えも出そう 【1問5点】

- (1) 1つ1580円のメロンを5つまとめて買うと、6400円になります。
 メロンは5つまとめて買うと、1つずつ買うよりも1つあたりいくら安くなりますか

式 $1580 - 6400 \div 5 = 300$

答え 300円

- (2) 周りの長さが72cmの正方形の1辺の長さは、周りの長さが36cmの正三角形の1辺の長さの何倍ですか

式 $(72 \div 4) \div (36 \div 3) = 1.5$

答え 1.5倍