


なまえ

- はここに、①から⑦までの かずが かかれた ボールが、はいっているよ

もんだい

はこから ボールを 3つとりだして、
かかっている かずをたしたとき、
ちょうど「10」になるようにしよう



みそら

3このボールの
かずをたして
「10」にするにや

- (1) さいしょのボールが ⑤だったら、あとの 2こボールは、いくつ と いくつ?

かんがえられる ものを、ぜんぶ かこう

⑤ ① ④ ⑤ ○ ○

- (2) さいしょのボールが ⑥だったら、あとの 2こボールは、いくつ と いくつ?

⑥ ○ ○

- (3) さいしょのボールが ③だったら、あとの 2こボールは、いくつ と いくつ?

かんがえられる ものを、ぜんぶ かこう

③ ○ ○ ③ ○ ○

- (4) さいしょのボールが ①だったら、あとの2こボールは、いくつ と いくつ?

かんがえられる ものを、ぜんぶ かこう


① ○ ○ ① ○ ○ ① ○ ○

なまえ

- はここに、③から⑨までの かずが かかれた ボールが、はいっているよ

もんだい

はこから ボールを 3つとりだして、
かかっている かずをたしたとき、
ちょうど「16」になるようにしよう



みそら

はこのなかの
ボールは
ぜんぶで7こ

- (1) さいしょのボールが ⑧だったら、あとの 2こボールは、いくつ と いくつ?

⑧ ③ ⑤

- (2) さいしょのボールが ⑨だったら、あとの 2こボールは、いくつ と いくつ?

⑨ ○ ○

- (3) さいしょのボールが ⑥だったら、あとの 2こボールは、いくつ と いくつ?

⑥ ○ ○

- (4) さいしょのボールが ⑤だったら、あとの 2こボールは、いくつ と いくつ?

かんがえられる ものを、ぜんぶ かこう

⑤ ○ ○ ⑤ ○ ○

- (5) さいしょのボールが ③だったら、あとの2こボールは、いくつ と いくつ?

かんがえられる ものを、ぜんぶ かこう


③ ○ ○ ③ ○ ○ ③ ○ ○

なまえ

- はここに、①から⑩までの かずが かかれた ボールが、はいっているよ

もんだい

はこから ボールを 4つとりだして、
かかっている かずをたしたとき、
ちょうど「15」になるようにしよう



みそら

はこのなかの
ボールは
ぜんぶで10こ

- (1) さいしょのボールが ⑧だったら、あとの 3このボールは、いくつ と いくつ？

⑧ ① ② ④

- (3) さいしょのボールが ⑨だったら、あとの 3このボールは、いくつ と いくつ？

⑨ ○ ○ ○

- (2) さいしょのボールが ⑦だったら、あとの 3このボールは、いくつ と いくつ？
かんがえられる ものを、2つ かこう

⑦ ○ ○ ○ ⑦ ○ ○ ○ ○

- (4) さいしょのボールが ⑤だったら、あとの 3このボールは、いくつ と いくつ？
かんがえられる ものを、2つ かこう

⑤ ○ ○ ○ ⑤ ○ ○ ○ ○

- (5) さいしょのボールが ③だったら、あとの 3このボールは、いくつ と いくつ？
かんがえられる ものを、2つ かこう

③ ○ ○ ○ ③ ○ ○ ○ ○