


なまえ

- はこに、①から⑦までの かずが かかれた ボールが、はいっているよ

もんだい

はこから ボールを 3つとりだして、
かかっている かずをたしたとき、
ちょうど「10」になるようにしよう



みそら

3このボールの
かずをたして
「10」にするにや

- (1) さいしょのボールが ⑤だったら、あとの 2こボールは、いくつ と いくつ?

かんがえられる ものを、ぜんぶ かこう

⑤ ① ④ ⑤ ② ③

- (2) さいしょのボールが ⑥だったら、あとの 2こボールは、いくつ と いくつ?

⑥ ① ③

- (3) さいしょのボールが ③だったら、あとの 2こボールは、いくつ と いくつ?

かんがえられる ものを、ぜんぶ かこう

③ ① ⑥ ③ ② ⑤

- (4) さいしょのボールが ①だったら、あとの2こボールは、いくつ と いくつ?

かんがえられる ものを、ぜんぶ かこう


① ② ⑦ ① ③ ⑥ ① ④ ⑤

なまえ

- はこに、③から⑨までの かずが かかれた ボールが、はいっているよ

もんだい

はこから ボールを 3つとりだして、
かかっている かずをたしたとき、
ちょうど「16」になるようにしよう



みそら

はこのなかの
ボールは
ぜんぶで7こ

- (1) さいしょのボールが ⑧だったら、あとの 2こボールは、いくつ と いくつ？

⑧ ③ ⑤

- (2) さいしょのボールが ⑨だったら、あとの 2こボールは、いくつ と いくつ？

⑨ ③ ④

- (3) さいしょのボールが ⑥だったら、あとの 2こボールは、いくつ と いくつ？

⑥ ③ ⑦

- (4) さいしょのボールが ⑤だったら、あとの 2こボールは、いくつ と いくつ？

かんがえられる ものを、ぜんぶ かこう

⑤ ③ ⑧ ⑤ ④ ⑦

- (5) さいしょのボールが ③だったら、あとの2こボールは、いくつ と いくつ？

かんがえられる ものを、ぜんぶ かこう


③ ④ ⑨ ③ ⑤ ⑧ ③ ⑥ ⑦

なまえ

- はここに、①から⑩までの かずが かかれた ボールが、はいっているよ

もんだい

はこから ボールを 4つとりだして、
かかっている かずをたしたとき、
ちょうど「15」になるようにしよう



みそら

はこのなかの
ボールは
ぜんぶで10こ

- (1) さいしょのボールが ⑧だったら、あとの 3このボールは、いくつ と いくつ？

⑧ ① ② ④

- (3) さいしょのボールが ⑨だったら、あとの 3このボールは、いくつ と いくつ？

⑨ ① ② ③

- (2) さいしょのボールが ⑦だったら、あとの 3このボールは、いくつ と いくつ？
かんがえられる ものを、2つ かこう

⑦ ① ② ⑤ ⑦ ① ③ ④

- (4) さいしょのボールが ⑤だったら、あとの 3このボールは、いくつ と いくつ？
かんがえられる ものを、2つかこう

⑤ ① ② ⑦ ⑤ ① ③ ⑥ など

- (5) さいしょのボールが ③だったら、あとの 3このボールは、いくつ と いくつ？
かんがえられる ものを、2つかこう

③ ① ② ⑨ ③ ① ④ ⑦ など