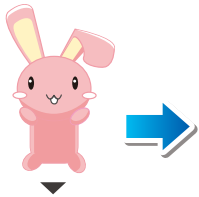



なまえ

- かめが □ を1つすすむと、うさぎは □ を3つすすむよ。  
うさぎが かめにおいつく□に、○をかこう

うさぎ



かめ

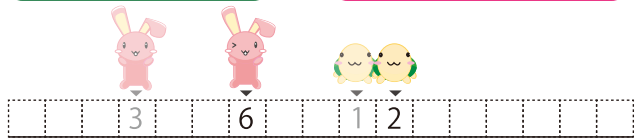


ヒント


かめが1つすすむ と うさぎは3つすすむ




かめが2つすすむ と うさぎは6つすすむ



かめが3つすすむ と うさぎは9つすすむ

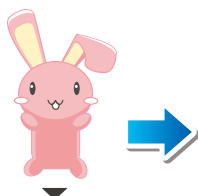


かめが4つすすむ と うさぎは12すすむ




- かめが □ を1つすすむと、うさぎは □ を2つすすむよ。  
うさぎが かめにおいつく□に、○をかこう

うさぎ



かめ




なまえ

- かめが  を1つ すすむと、うさぎは  を2つ すすむよ。  
さきに ゴールするのは、うさぎ と かめの どちらかな？

うさぎ



かめ



スタート

ゴール

こたえ **かめ**

「スタート」から「ゴール」までは「17」はなれています。  
かめは「ゴール」まで「あと8」のところあるので、  
「かめがゴールした」とき、「うさぎは16のところ」にいます

- かめが  を1つ すすむと、うさぎは  を3つ すすむよ。  
さきに ゴールするのは、うさぎ と かめの どちらかな？

うさぎ



かめ



スタート

ゴール

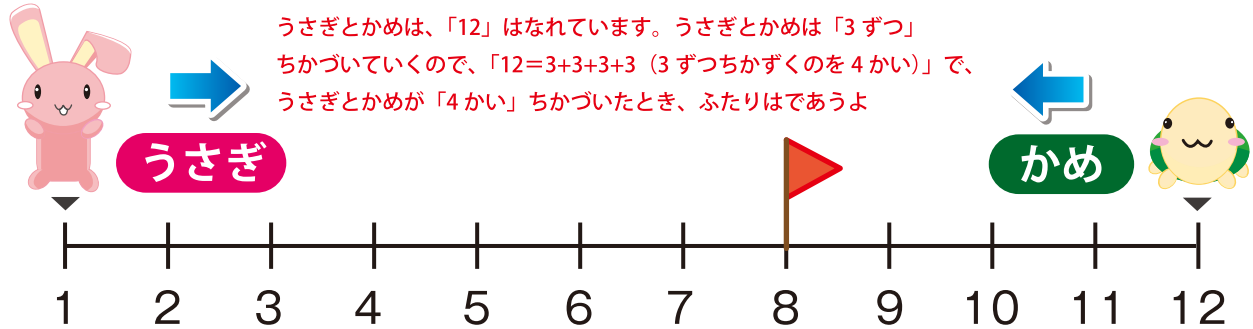
こたえ **うさぎ**

「スタート」から「ゴール」までは「17」はなれています。  
かめは「ゴール」まで「あと7」のところあるので、  
「うさぎがゴールした」とき、「かめは16のところ」にいます

なまえ

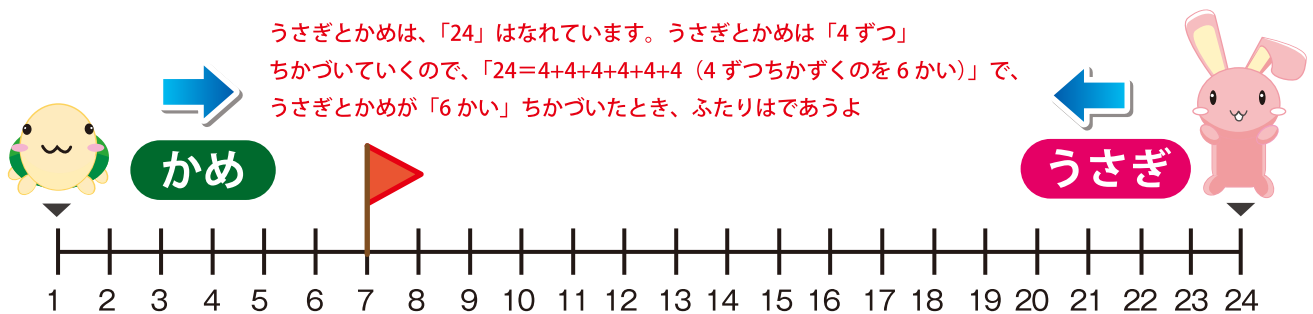
- かめが 1つ すすむと、うさぎは 2つ すすむよ。

うさぎ と かめが であう ところに、はた(  )を かこう。



- かめが 1つ すすむと、うさぎは 3つ すすむよ。

うさぎ と かめが であう ところに、はた(  )を かこう。



- かめが 2つ すすむと、うさぎは 3つ すすむよ。

うさぎ と かめが であう ところに、はた(  )を かこう。

