


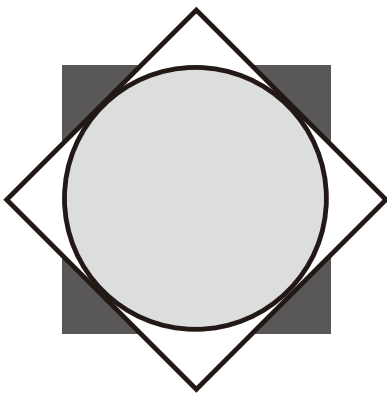



なまえ


●かみを かさねて、かたちをつくろう

(1)

   の 3まいの かみを かさねて、<sup>した</sup>下のかたちをつくるには、  
3まいのかみを どのような じゅんばんで かさねると よいですか？







 は、<sup>うえ</sup>上から( )ばんめ


 は、<sup>うえ</sup>上から( )ばんめ


こたえ  は、<sup>うえ</sup>上から( )ばんめ


(2)

   の 3まいの かみを かさねて、<sup>した</sup>下のかたちをつくるには、  
3まいのかみを どのような じゅんばんで かさねると よいですか？



 は、<sup>うえ</sup>上から( )ばんめ

 は、<sup>うえ</sup>上から( )ばんめ

こたえ  は、<sup>うえ</sup>上から( )ばんめ

なまえ

●かみを かさねて、かたちをつくろう

(1)

□ ★ ○ の 3まいの かみを かさねて、<sup>した</sup>下のかたちをつくるには、  
3まいのかみを どのような じゅんばんで かさねると よいですか？




□ は、<sup>うえ</sup>上から( )ばんめ

★ は、<sup>うえ</sup>上から( )ばんめ

こたえ ○ は、<sup>うえ</sup>上から( )ばんめ

(2)

□ ★ ○ の 3まいの かみを かさねて、<sup>した</sup>下のかたちをつくるには、  
3まいのかみを どのような じゅんばんで かさねると よいですか？



□ は、<sup>うえ</sup>上から( )ばんめ

★ は、<sup>うえ</sup>上から( )ばんめ


こたえ ○ は、<sup>うえ</sup>上から( )ばんめ

なまえ

●かみを かさねて、かたちをつくろう

(1)

△ ▲ ☆ の 3まいの かみを かさねて、<sup>した</sup>下のかたちをつくるには、  
3まいのかみを どのような じゅんばんで かさねると よいですか？



△ は、<sup>うえ</sup>上から ( ) ばんめ

▲ は、<sup>うえ</sup>上から ( ) ばんめ

☆ は、<sup>うえ</sup>上から ( ) ばんめ


こたえ

(2)

△ ▲ ☆ の 3まいの かみを かさねて、<sup>した</sup>下のかたちをつくったとき、

☆ が おかれているのは、<sup>うえ</sup>上から なんばんめですか？

かんがえることができる ばんめを、ぜんぶ こたえましょう。



こたえ