


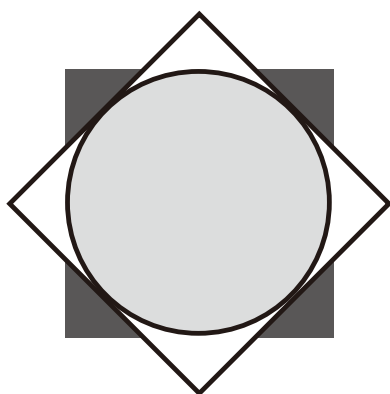



なまえ


●かみを かさねて、かたちをつくろう


(1)

   の3まいのかみを かさねて、<sup>した</sup>下のかたちをつくるには、  
3まいのかみを どのようなじゅんばんで かさねると よいですか？







 は、<sup>うえ</sup>上から ( **2** ) ばんめ


 は、<sup>うえ</sup>上から ( **3** ) ばんめ


こたえ  は、<sup>うえ</sup>上から ( **1** ) ばんめ


(2)

   の3まいのかみを かさねて、<sup>した</sup>下のかたちをつくるには、  
3まいのかみを どのようなじゅんばんで かさねると よいですか？



 は、<sup>うえ</sup>上から ( **3** ) ばんめ

 は、<sup>うえ</sup>上から ( **2** ) ばんめ


こたえ  は、<sup>うえ</sup>上から ( **1** ) ばんめ

なまえ

●かみを かさねて、かたちをつくろう

(1)


□ ★ ○ の 3まいの かみを かさねて、<sup>した</sup>下のかたちをつくるには、  
3まいのかみを どのような じゅんばんで かさねると よいですか？



は、<sup>うえ</sup>上から ( 3 ) ばんめ



は、<sup>うえ</sup>上から ( 1 ) ばんめ




こたえ

は、<sup>うえ</sup>上から ( 2 ) ばんめ

(2)


□ ★ ○ の 3まいの かみを かさねて、<sup>した</sup>下のかたちをつくるには、  
3まいのかみを どのような じゅんばんで かさねると よいですか？



は、<sup>うえ</sup>上から ( 2 ) ばんめ



は、<sup>うえ</sup>上から ( 1 ) ばんめ






こたえ

は、<sup>うえ</sup>上から ( 3 ) ばんめ

なまえ

●かみを かさねて、かたちをつくろう


(1)

   の 3まいの かみを かさねて、<sup>した</sup>下のかたちをつくるには、  
3まいのかみを どのような じゅんばんで かさねると よいですか？






 は、<sup>うえ</sup>上から ( **3** ) ばんめ

 は、<sup>うえ</sup>上から ( **2** ) ばんめ


こたえ  は、<sup>うえ</sup>上から ( **1** ) ばんめ

(2)

   の 3まいの かみを かさねて、<sup>した</sup>下のかたちをつくったとき、

 が おかれているのは、<sup>うえ</sup>上から なんばんめですか？

かんがえることができる ばんめを、ぜんぶ こたえましょう。



こたえ **2ばんめと3ばんめ**