

年 組 名前

点数

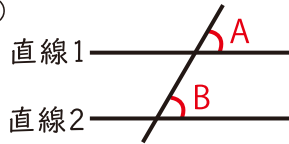
クリア40点

/ 50点

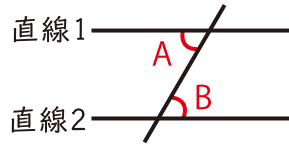


下の図で「直線1」と「直線2」は「平行」だよ。このとき、

(1)



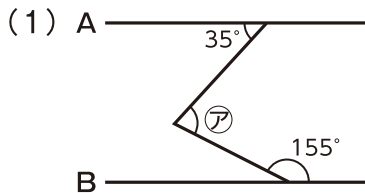
(2)

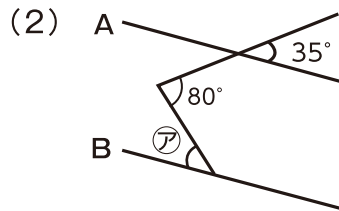


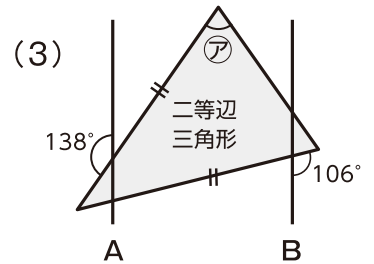
「角Aの角度」と  
「角Bの角度」は  
「同じ角度」になるんだ

1 下の図で、直線Aと直線Bは平行です。

このとき、角アの角度を求めましょう 【1つ10点】



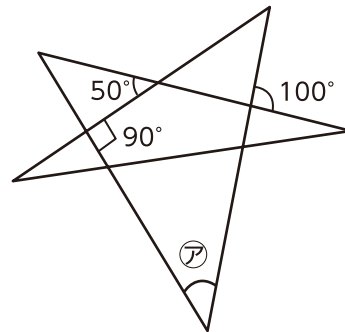





2 右の「5本の直線」で作られた図の、

角アの角度を求めましょう

【10点】



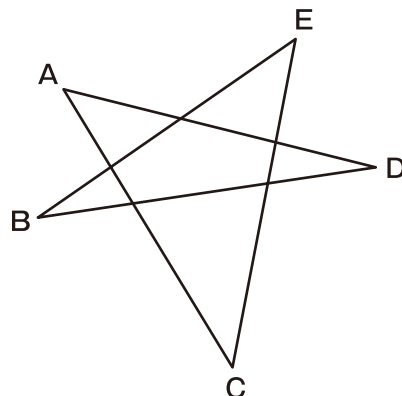
答え

---

3 右の「5本の直線」で作られた図の、

角A・B・C・D・Eの角度の和を求めましょう

【10点】



答え

---

年 組 名前

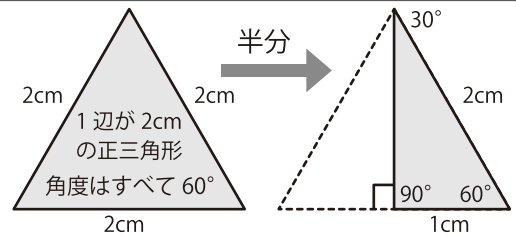
点数

クリア40点

/ 40点

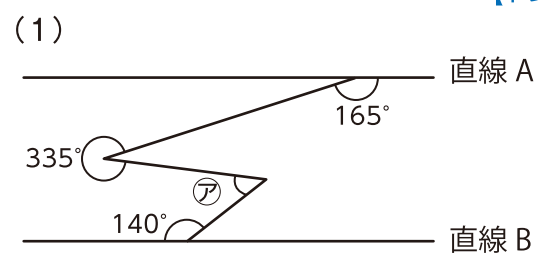
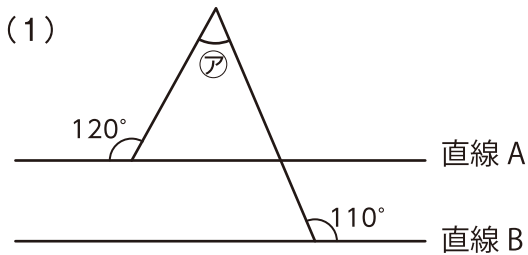


「1番長い辺」が「1番短い辺」の  
「2倍の長さ」の「直角三角形」の  
角度は「30°」「60°」「90°」だよ。



1 下の図で、直線Aと直線Bは平行です。このとき、角アの大きさは何度ですか？

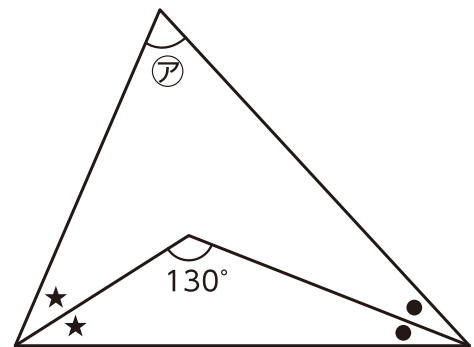
【1つ10点】



2 右の図で、  
「●と●」、「★と★」の角度は同じ大きさです。  
このとき、角アの大きさは何度ですか？ 【10点】

答え

\_\_\_\_\_



3 右の「多角形」の、  
角A・B・C・D・E・F・G・Hの  
角度の和を求めましょう 【10点】

答え

\_\_\_\_\_

