

2年生

算数ドリル

テスト③-1

時間 10分

年 組 名前

点数

クリア40点

/ 50点



くり上がりをしたときには、くり上がった数を
わすれないように、小さくかいておくのもいいよね



1 たし算をしよう 【1問3点】

$$\begin{array}{r} (1) \quad 125 \\ + 358 \\ \hline \end{array} \quad \begin{array}{r} (2) \quad 246 \\ + 382 \\ \hline \end{array} \quad \begin{array}{r} (3) \quad 492 \\ + 178 \\ \hline \end{array} \quad \begin{array}{r} (4) \quad 618 \\ + 287 \\ \hline \end{array}$$

2 あん算(あたまの中)で、たし算をしよう 【1問3点】

$$\begin{array}{l} (1) \quad 72 + 28 = \\ (2) \quad 13 + 87 = \\ (3) \quad 66 + 34 = \\ (4) \quad 161 + 39 = \\ (5) \quad 117 + 283 = \\ (6) \quad 306 + 194 = \end{array}$$

3 にはいる数をかこう 【1問4点】

$$\begin{array}{r} (1) \quad 2 \square 3 \\ + \quad 8 \square \\ \hline 3 \quad 3 \quad 3 \end{array} \quad \begin{array}{r} (2) \quad 3 \quad 2 \quad 7 \\ + 4 \square 5 \\ \hline 8 \quad 0 \quad \square \end{array} \quad \begin{array}{r} (3) \quad 2 \quad 1 \quad \square \\ + 6 \square 9 \\ \hline \square \quad 7 \quad 3 \end{array} \quad \begin{array}{r} (4) \quad 4 \square 6 \\ + 3 \quad 7 \square \\ \hline \square \quad 5 \quad 4 \end{array}$$

4 745円のブタ肉と、3こで198円の玉ねぎを買いました。

ぜんぶで、いくらですか 【4点】

しき

こた
答え

2年生

算数ドリル

テスト③-2


時間 10分

年 組 名前

点数

クリア40点

/ 50点



ひき算は、「くり下がり」に気をつけて
けい算をしていこうね



1 ひき算をしよう 【1問3点】

(1)	$\begin{array}{r} 152 \\ - 67 \\ \hline \end{array}$	(2)	$\begin{array}{r} 381 \\ - 172 \\ \hline \end{array}$	(3)	$\begin{array}{r} 603 \\ - 417 \\ \hline \end{array}$	(4)	$\begin{array}{r} 746 \\ - 357 \\ \hline \end{array}$
-----	--	-----	---	-----	---	-----	---

2 あん算(あたまの中)で、ひき算をしよう 【1問3点】

(1) $100 - 25 =$	(2) $100 - 54 =$	(3) $100 - 32 =$
(4) $100 - 17 =$	(5) $200 - 163 =$	(6) $800 - 421 =$

3 にはいる 数をかこう 【1問4点】

(1)	$\begin{array}{r} 1 \square 6 \\ - 5 \square \\ \hline 132 \end{array}$	(2)	$\begin{array}{r} 319 \\ - 1 \square 2 \\ \hline 17 \square \end{array}$	(3)	$\begin{array}{r} 43 \square \\ - 2 \square 9 \\ \hline \square 42 \end{array}$	(4)	$\begin{array}{r} 8 \square 3 \\ - 36 \square \\ \hline \square 58 \end{array}$
-----	---	-----	--	-----	---	-----	---

4 小学校には、612人のじどうがいます。このうち 1年生と2年生、228人が
家に帰りました。小学校にのこっているじどうは、何人ですか 【4点】

しき

こた
答え

2年生

算数ドリル

テスト③-3

時間 10分

年 組 名前

点数


クリア40点

/ 50点



みず 水のかさの たん い 単位、おぼえてるかな？

1L=1000mL だったよね



1 にはいる かず 数をかこう 【1問4点】

(1) 52dL は L dL (2) 86dL は L mL

(3) 6700mL は L dL (4) 10L800mL は dL

(5) 9675mL は L dL mL

2 にはいる かず 数をかこう 【1問4点】

(1) 15L+5L = L (2) 7L+700mL = dL

(3) 6dL-280mL = mL (4) 1430mL-3dL = mL

(5) 7L+100dL+6500mL = dL

3 5L7dLの水が入っている水そうに、2L4dLの水を2回入れました。

すい 水そうに入っている水のかさは、何L何dLになりましたか 【10点】

しき

こた
答え

2年生

算数ドリル

テスト③-4

時間 10分

年 組 名前

点数

クリア40点

/ 50点



「×(かける)」は、「×」の**まえ**にある**かず**が、「どれだけあるか」ってことだよ。「 4×5 」は「4」が「 $\times 5$ 」だから、「4が5こ」ってことだよ。だから、「 4×5 」は「4の5**ぶん**」と同じなんだ

1 かけ算をしよう さん 【1問2点】

- (1) $1 \times 5 =$ (2) $2 \times 6 =$ (3) $3 \times 4 =$ (4) $3 \times 7 =$
 (5) $4 \times 5 =$ (6) $4 \times 8 =$ (7) $5 \times 6 =$ (8) $5 \times 9 =$
 (9) $6 \times 6 =$ (10) $6 \times 8 =$ (11) $7 \times 5 =$ (12) $7 \times 7 =$
 (13) $8 \times 3 =$ (14) $8 \times 7 =$ (15) $9 \times 6 =$ (16) $9 \times 8 =$

2 にはいる**かず**をかこう かず 【1問2点】

- (1) 2×8 は $2 \times$ の 2 ばい (2) 3×6 の 2 ばいは $\times 6$
 (3) 3×7 と $\times 3$ は 同じ (4) 2×5 の 3 ばいは $6 \times$
 (5) 7×4 は $7 \times$ $+ 7$ (6) 9×9 は $9 \times$ $- 9$
 (7) 54 は $9 \times$ (8) 61 は $7 \times$ $+ 5$

- 3 シールが6まい入っているパックを、4こ**か**いました。もっていたシール14まいとあわせると、シールは**ぜんぶ**で、何まいになりますか なん 【2点】

しき

こた
答え

2年生

算数ドリル

テスト③-5


時間 10分

年 組 名前

点数

クリア40点

/ 50点



「1000」を「10こ」あつめると、「10000(いちまん)」っていうんだ。
「1000」よりも「0」が1つおおくて、「0」は4つだよ

1 にはいる数をかこう 【1問5点】

(1) 100 を 42こ と、1 を 97こ あつめた数は です。

(2) 10 を 310こ と、100 を 24こ あつめた数は です。

(3) 10 を 275こ と、100 を 68こ あつめた数は です。

(4) $1600 + 1300 + 1400 + 1700 =$

(5) $2700 + 1100 + 4900 + 1300 =$

(6) $1850 + 1630 + 2150 + 4370 =$

2 はるとくんは1週間、まい日 800mを走りました。

はるとくんが1週間で走ったのは、ぜんぶで何mになりますか 【10点】

しき

こた
答え

3 500円のマンガを6さつと、1250円のクイズの本を買いました。

5000円さつでお金をはらうと、おつりはいくらですか 【10点】

しき

こた
答え