

2年生

算数ドリル

テスト③-1


時間 10分

年 組 名前

点数

クリア40点

/ 50点



くり上がりをしたときには、くり上がった数を  
わすれないように、小さくかいておくのもいいよね



### 1 たし算をしよう 【1問3点】

$$\begin{array}{r} (1) \quad 125 \\ + 358 \\ \hline 483 \end{array}$$

$$\begin{array}{r} (2) \quad 246 \\ + 382 \\ \hline 628 \end{array}$$

$$\begin{array}{r} (3) \quad 492 \\ + 178 \\ \hline 670 \end{array}$$

$$\begin{array}{r} (4) \quad 618 \\ + 287 \\ \hline 905 \end{array}$$

### 2 あん算(あたまの中)で、たし算をしよう 【1問3点】

$$(1) \quad 72 + 28 = 100$$

$$(2) \quad 13 + 87 = 100$$

$$(3) \quad 66 + 34 = 100$$

$$(4) \quad 161 + 39 = 200$$

$$(5) \quad 117 + 283 = 400$$

$$(6) \quad 306 + 194 = 500$$

### 3 にはいる数をかこう 【1問4点】

$$\begin{array}{r} (1) \quad 2 \boxed{5} 3 \\ + \quad 8 \boxed{0} \\ \hline 3 \quad 3 \quad 3 \end{array}$$

$$\begin{array}{r} (2) \quad 3 \quad 2 \quad 7 \\ + 4 \boxed{7} 5 \\ \hline 8 \quad 0 \quad \boxed{2} \end{array}$$

$$\begin{array}{r} (3) \quad 2 \quad 1 \quad \boxed{4} \\ + 6 \boxed{5} 9 \\ \hline \boxed{8} \quad 7 \quad 3 \end{array}$$

$$\begin{array}{r} (4) \quad 4 \quad \boxed{7} \quad 6 \\ + 3 \quad 7 \quad \boxed{8} \\ \hline \boxed{8} \quad 5 \quad 4 \end{array}$$

### 4 745円のブタ肉と、3こで198円の玉ねぎを買いました。

ぜんぶで、いくらですか 【4点】

しき  $745 + 198 = 943$

こた 答え 943円

2年生

算数ドリル

テスト③-2

時間 10分

年 組 名前

点数

クリア40点

/ 50点



ひき算は、「くり下がり」に気をつけて  
けい算をしていこうね



くり下がりには  
気をつけてにや

### 1 ひき算をしよう 【1問3点】

$$\begin{array}{r} (1) \quad 152 \\ - \quad 67 \\ \hline 85 \end{array}$$

$$\begin{array}{r} (2) \quad 381 \\ - \quad 172 \\ \hline 209 \end{array}$$

$$\begin{array}{r} (3) \quad 603 \\ - \quad 417 \\ \hline 186 \end{array}$$

$$\begin{array}{r} (4) \quad 746 \\ - \quad 357 \\ \hline 389 \end{array}$$

### 2 あん算(あたまの中)で、ひき算をしよう 【1問3点】

$$(1) \quad 100 - 25 = 75$$

$$(2) \quad 100 - 54 = 46$$

$$(3) \quad 100 - 32 = 68$$

$$(4) \quad 100 - 17 = 83$$

$$(5) \quad 200 - 163 = 37$$

$$(6) \quad 800 - 421 = 379$$

### 3 にはいる 数をかこう 【1問4点】

$$\begin{array}{r} (1) \quad 1 \boxed{8} 6 \\ - \quad 5 \boxed{4} \\ \hline 132 \end{array}$$

$$\begin{array}{r} (2) \quad 319 \\ - \quad 1 \boxed{4} 2 \\ \hline 17 \boxed{7} \end{array}$$

$$\begin{array}{r} (3) \quad 43 \boxed{1} \\ - \quad 2 \boxed{8} 9 \\ \hline \boxed{1} 4 2 \end{array}$$

$$\begin{array}{r} (4) \quad 8 \boxed{2} 3 \\ - \quad 36 \boxed{5} \\ \hline \boxed{4} 5 8 \end{array}$$

4 小学校には、612人のじどうがいます。このうち 1年生と2年生、228人が  
家に帰りました。小学校にのこっているじどうは、何人ですか 【4点】

しき  $612 - 228 = 384$

こた 答え 384人

2年生

算数ドリル

テスト③-3

時間 10分

年 組 名前

点数


クリア40点

/ 50点



みず たん い  
水のかさの単位、おぼえてるかな？

1L=1000mL だったよね



1  にはいる <sup>かず</sup> 数をかこう 【1問4点】

(1) 52dL は  L  dL      (2) 86dL は  L  mL

(3) 6700mL は  L  dL      (4) 10L800mL は  dL

(5) 9675mL は  L  dL  mL

2  にはいる <sup>かず</sup> 数をかこう 【1問4点】

(1) 15L+5L =  L      (2) 7L+700mL =  dL

(3) 6dL-280mL =  mL      (4) 1430mL-3dL =  mL

(5) 7L+100dL+6500mL =  dL

3 5L7dLの水が入っている水そうに、2L4dLの水を2回入れました。

<sup>すい</sup> 水そうに入っている水の<sup>はい</sup> かさは、何<sup>なん</sup> L何<sup>なん</sup> dLになりましたか 【10点】

$$2L4dL+2L4dL=4L8dL$$

しき  $5L7dL+4L8dL=10L5dL$

こた 答え  $10L5dL$

2年生

算数ドリル

テスト③-4

時間 10分

年 組 名前

点数

クリア40点

/ 50点



「×(かける)」は、「×」の**まえ**にある**かず**が、「どれだけあるか」ってことだよ。「 $4 \times 5$ 」は「4」が「 $\times 5$ 」だから、「4が5こ」ってことだよ。だから、「 $4 \times 5$ 」は「4の5**ぶん**」と同じなんだ

### 1 かけ算をしよう 【1問2点】

- (1)  $1 \times 5 = 5$       (2)  $2 \times 6 = 12$       (3)  $3 \times 4 = 12$       (4)  $3 \times 7 = 21$   
 (5)  $4 \times 5 = 20$       (6)  $4 \times 8 = 32$       (7)  $5 \times 6 = 30$       (8)  $5 \times 9 = 45$   
 (9)  $6 \times 6 = 36$       (10)  $6 \times 8 = 48$       (11)  $7 \times 5 = 35$       (12)  $7 \times 7 = 49$   
 (13)  $8 \times 3 = 24$       (14)  $8 \times 7 = 56$       (15)  $9 \times 6 = 54$       (16)  $9 \times 8 = 72$

### 2 にはいる数をかこう 【1問2点】

- (1)  $2 \times 8$  は  $2 \times$   の 2 ばい      (2)  $3 \times 6$  の 2 ばいは   $\times 6$   
 (3)  $3 \times 7$  と   $\times 3$  は 同じ      (4)  $2 \times 5$  の 3 ばいは  $6 \times$    
 (5)  $7 \times 4$  は  $7 \times$    $+ 7$       (6)  $9 \times 9$  は  $9 \times$    $- 9$   
 (7)  $54$  は  $9 \times$        (8)  $61$  は  $7 \times$    $+ 5$

- 3 シールが6まい入っているパックを、4こ買いました。もっていたシール14まいとあわせると、シールはぜんぶで、何まいになりますか 【2点】

しき  $6 \times 4 + 14 = 38$ 答え  $38$  まい

2年生

算数ドリル

テスト③-5


時間 10分

年 組 名前

点数

クリア40点

/ 50点



「1000」を「10こ」あつめると、「10000(いちまん)」っていうんだ。  
「1000」よりも「0」が1つおおくて、「0」は4つだよ

1  にはいる数をかこう 【1問5点】

(1) 100を42こ、1を97こあつめた数は  です。

(2) 10を310こ、100を24こあつめた数は  です。

(3) 10を275こ、100を68こあつめた数は  です。

(4)  $1600+1300+1400+1700=$

(5)  $2700+1100+4900+1300=$

(6)  $1850+1630+2150+4370=$

2 はるとくんは1週間、まい日800mを走りました。

はるとくんが1週間で走ったのは、ぜんぶで何mになりますか 【10点】

しき  $800 \times 7 = 5600$

こた 答え 5600m

3 500円のマンガを6さつと、1250円のクイズの本を買いました。

5000円さつでお金をはらうと、おつりはいくらですか 【10点】

$500 \times 6 + 1250 = 4250$

しき  $5000 - 4250 = 4250$

こた 答え 750円